

TÀI LIỆU TOÁN LỚP 1 CHUYÊN ĐỀ TOÁN LỚP 1 NÂNG CAO

Câu 1: Hãy khoanh vào chữ cái đặt trước đáp án đúng

$$5 + 0 + 1 =$$

A. 6

B. 7

C. 8

$$1 + 4 + 9 =$$

A. 13

B. 14

C. 15

$$20 - 10 + 5 =$$

A. 13

B. 14

C. 15

$$40 - 20 + 10 =$$

A. 20

B. 30

C. 40

Câu 2: Hãy khoanh vào số lớn nhất, nhỏ nhất trong các số sau:

a) 40; 25; 37; 41; 45; 49; 87; 65; 98; 12; 59.

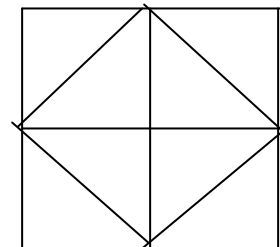
b) 56; 58; 11; 30; 79; 97; 100; 15; 56; 43; 22.

Câu 3: Điền dấu X vào ô trống chỉ số hình vuông ở hình bên?

4 hình vuông

5 hình vuông

6 hình vuông



Câu 4: Trên cành có 20 con chim đậu, sau đó có 1 chục con bay đi. Hỏi trên cành còn lại bao nhiêu con chim?

Hãy khoanh vào chữ cái đặt trước đáp án đúng

A. 10 con chim.

B. 20 con chim

C. 30 con chim.

Bài 5: Tìm 4 số khác nhau mà khi cộng lại có kết quả là 12.

.....

Bài 6: Hoa nói: “Tết này chị mình có số tuổi bằng kết quả của bốn số khác nhau nhỏ nhất cộng lại”. Hỏi đến Tết, chị của Hoa bao nhiêu tuổi?

Bài 7: Điền số thích hợp vào ô trống sao cho cộng các số theo hàng ngang, cột dọc, đường chéo được kết quả bằng 6.

Bài 8: Số ?

$$69 - 25 = 21 + \square$$

$$23 + 65 = 99 - \square$$

$$\square - 24 = 41 + 11$$

$$\square + 15 = 89 - 22$$

Bài 9:

a) Hà nghĩ ra một số, lấy số đó trừ 7 cộng 6 bằng 19. Hỏi số Hà nghĩ là bao nhiêu?

b) Tìm hai chữ số sao cho khi cộng lại được kết quả bằng 10 khi lấy số lớn trừ số bé cũng có kết quả bằng 10

.....

.

.....

.....

.

Bài 10: Em hỏi anh: “Anh năm nay bao nhiêu tuổi”. Anh trả lời: “3 năm nữa thì tuổi của em bằng tuổi của anh hiện nay”. Biết rằng tuổi em hiện nay là 6 tuổi. Hãy tính xem năm nay anh bao nhiêu tuổi?

Bài 11: Tìm

- Số liền trước của 15 là ...
- Số liền trước của 19 là ...
- Số liền sau của 29 là ...
- Số liền sau của 90 là ...
- Số liền sau của 33 là ...
- Số liền trước của 51 là ...

Bài 12: Chú của Hà hỏi bạn Hà “Năm nay cháu học lớp mấy rồi?”. Hà đáp “Lấy số nhỏ nhất có hai chữ số trừ đi số lớn nhất có một chữ số thì ra lớp cháu đang học”. Vậy Hà học lớp mấy?

Bài 13: Em của Ngọc năm nay có số tuổi bằng kết quả của phép cộng 5 số khác nhau nhỏ nhất cộng lại. Hỏi năm nay em của Lan bao nhiêu tuổi?

Bài 14: Điền số thích hợp vào dấu *

$$\begin{array}{r}
 6 * \\
 + \\
 * 4 \\
 \hline
 9 8
 \end{array}
 \qquad
 \begin{array}{r}
 * 7 \\
 + \\
 \underline{2 1} \\
 6 *
 \end{array}
 \qquad
 \begin{array}{r}
 * 3 \\
 + \\
 \underline{3 *} \\
 7 9
 \end{array}
 \qquad
 \begin{array}{r}
 3 * \\
 + \\
 * 3 \\
 \hline
 3 7
 \end{array}$$

Bài 15: Lan hỏi Hoa: “Năm nay chị bạn bao nhiêu tuổi?” Hoa đáp: “Tuổi mình nhiều hơn 7 tuổi nhưng ít hơn 9 tuổi. Mình kém chị mình 2 tuổi.” Hỏi chị của bạn Hoa năm nay bao nhiêu tuổi?

Bài 16: Khoanh vào chữ cái trước câu trả lời đúng

a) Số 67 gồm có:

- A. Sáu đơn vị bảy chục
- B. Sáu mươi bảy chục
- C. Sáu chục bảy đơn vị

b) Số liền trước số 59 là số?

- A. 58
- B. 60
- C. 61

c) Số các số có hai chữ số tính từ số 11 đến số 21 là:

- A. 9
- B. 11
- C. 10

d) Tính từ số 30 đến số 60, số các số có hai chữ số giống nhau là:

Bài 19: Thông nói với Minh: “Tết này, số tuổi tớ bằng số nhỏ nhất có hai chữ số trừ đi 3”. Minh nói: “Tết này, số tuổi tớ bằng số lớn nhất có một chữ số trừ đi 2”.
Hỏi hiện nay Thông và Minh mỗi bạn bao nhiêu tuổi?

Bài 20: Ngọc hỏi Mai: “Ông bạn năm nay bao nhiêu tuổi mà trông ông già thế”
Mai đáp: “Ông tớ kém 8 tuổi thì bằng số lớn nhất có hai chữ số”. Vậy ông của Mai bao nhiêu tuổi?

Bài 21:


a) Trả lời câu hỏi: Hôm nay là thứ Hai, hôm qua là thứ mấy? Ngày mai là thứ mấy?

.....

b) Hình bên có:

..... điểm ở trong hình tròn là:

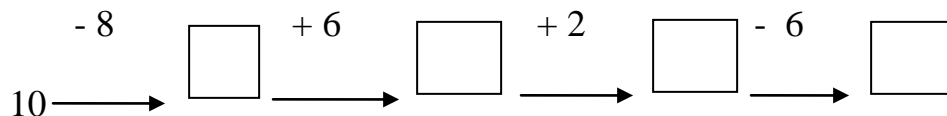
.... điểm ở ngoài hình tròn.....



ĐỀ ÔN HỌC SINH GIỎI

Môn: Toán - Lớp 1

Câu 1: Điền số



Câu 2: Đúng: ghi Đ - Sai: ghi S vào ô trống

a, $\begin{array}{r} 17 \\ - 5 \\ \hline \end{array}$ <input style="width: 40px; height: 20px; border: 1px solid black;" type="text"/>	b, $\begin{array}{r} 19 \\ - 5 \\ \hline \end{array}$ <input style="width: 40px; height: 20px; border: 1px solid black;" type="text"/>	c, $\begin{array}{r} 16 \\ - 2 \\ \hline \end{array}$ <input style="width: 40px; height: 20px; border: 1px solid black;" type="text"/>	d, $\begin{array}{r} 13 \\ - 2 \\ \hline \end{array}$ <input style="width: 40px; height: 20px; border: 1px solid black;" type="text"/>
12	13	18	10

Câu 3: Tính

a, $10 - 6 + 2 = \dots\dots\dots$	c, $6 - 4 + 5 = \dots\dots\dots$
b, $8 + 2 - 6 = \dots\dots\dots$	d, $10 - 7 + 6 = \dots\dots\dots$

Câu 4: Đặt tính rồi tính

a, $14 + 3$	b, $7 + 11$	c, $19 - 6$	d, $18 - 7$
.....
.....
.....
.....

Câu 5: Điền theo mẫu

10	1	2		4	
	9		7		5

