

## ÔN TẬP HÈ TOÁN LỚP 4 LÊN LỚP 5

*Môn : Toán*

### ĐỀ SỐ 1

#### I. Phần trắc nghiệm

**Câu 1:** Số bốn mươi lăm nghìn ba trăm linh tám được viết là:

- A. 45307                      B. 45308                      C. 45380                      D. 45038

**Câu 2:** Tìm x biết:

a)  $x : 3 = 12\ 321$

- A.  $x = 4107$                       B.  $x = 417$                       C.  $x = 36963$                       D.  $x = 36663$


b)  $x \times 5 = 21250$

- A.  $x = 4250$                       B.  $x = 425$                       C.  $x = 525$                       D.  $x = 5250$

**Câu 3:** Tính chu vi hình sau:

- A. 6cm                              C. 10cm

- B. 8cm                              D. 12cm



**Câu 4:** Một cửa hàng trong hai ngày bán được 620 kg gạo. Hỏi trong 7 ngày cửa hàng bán được bao nhiêu ki-lô-gam gạo? (Biết rằng số gạo mỗi ngày bán được là như nhau).

- A. 4340 kg                      B. 434 kg                      C. 217 kg                      D. 2170 kg

**Câu 5:** Điền dấu (<, >, =) thích hợp vào ô trống:

a)  $75032 \square 75302 + 12200$

c)  $98763 \square 98675 - 33467$

b)  $100000 \square 99999$

d)  $87652 \square 87652$

**Câu 6:** Giá trị của biểu thức:  $876 - m$  với  $m = 432$  là:

- A. 444                              B. 434                              C. 424                              D. 414

**Câu 7:** Giá trị của biểu thức  $8 \times a$  với  $a=100$  là:

- A. 8100                              B. 800                              C. 1008                              D. 1800

**Câu 8:** Tính chu vi hình vuông cạnh a với  $a = 9$  cm

- A. 18 cm                              B. 81 cm                              C. 36 cm                              D. 63 cm

**Câu 9:** Số 870549 đọc là:

- A. Tám mươi bảy nghìn năm trăm bốn mươi chín.  
 B. Tám trăm bảy mươi nghìn bốn trăm năm mươi chín.  
 C. Tám trăm linh bảy nghìn năm trăm bốn mươi chín.  
 D. Tám trăm bảy mươi nghìn năm trăm bốn mươi chín.

**Câu 10:** Số bé nhất trong các số sau: 785432; 784532; 785342; 785324 là:

- A. 785432                              B. 784532                              C. 785342                              D. 785234

**Câu 11:** Các số ở dòng nào được viết theo thứ tự từ bé đến lớn.

- A. 567899; 567898; 567897; 567896.

- B. 865742; 865842; 865942; 865043.
- C. 978653; 979653; 970653; 980653.
- D. 754219; 764219; 774219; 775219.

**Câu 12:** Đúng ghi Đ, sai ghi S vào ô trống:

- a)  $496857 < 497899$
- b)  $657890 > 658999$
- c)  $545630 = 554630$
- d)  $289357 < 290000$

**Câu 13:** 6 tạ 50kg = ? kg

- A. 650kg
- B. 6500kg
- C. 6050kg
- D. 5060kg

**II. Phần tự luận**

**1. Đặt tính rồi tính**

12 062 x 205

15 458 x 340

39009 : 33

27560 : 720


**2. Tìm x**

a)  $75 \times x = 1800$

b)  $1855 : x = 35$

c)  $x : 204 = 543$


**3. Một cửa hàng ngày thứ nhất bán 180 tạ gạo, ngày thứ hai bán 270 tạ gạo, ngày thứ ba bán kém hơn ngày thứ hai một nửa. Hỏi trung bình mỗi ngày cửa hàng bán được bao nhiêu tạ gạo ?**

**Bài giải**

.....

.....

.....

.....

.....

.....

.....  
**4. Một đoàn xe gồm 8 chiếc. Trung bình mỗi xe chở 45 người. Nhưng dọc đường có hai xe bị hỏng máy. Hỏi bây giờ mỗi xe còn lại phải chở bao nhiêu người ?**

**Bài giải**

.....  
 .....  
 .....

**ĐỀ ÔN TẬP HÈ ( SỐ 2 )**

**Môn : Toán**

**I. Phần trắc nghiệm**

**Câu 1:** Chữ số 6 trong số 986738 thuộc hàng nào? lớp nào?

- A. Hàng nghìn, lớp nghìn.                      C. Hàng chục nghìn, lớp nghìn.  
 B. Hàng trăm, lớp nghìn.                      D. Hàng trăm, lớp đơn vị.

**Câu 2:** Số gồm 6 trăm nghìn, 6 trăm, 4 chục và 3 đơn vị viết là:

- A. 664300              B. 606430              C. 600634              D. 600643

**Câu 3:** Giá trị của chữ số 5 trong số sau: 765430.

- A. 50000              B. 500000              C. 5000              D. 500

**Câu 4:** Số có 6 chữ số lớn nhất là:

- A. 999999              B. 666666              C. 100000              D. 900000

**Câu 5:** Số bảy trăm triệu có bao nhiêu chữ số 0:

- A. 7                      B. 10                      C. 9                      D. 8

**Câu 6:** Đọc số sau: 325600608

- A. Ba trăm hai mươi lăm triệu sáu mươi nghìn sáu trăm linh tám.  
 B. Ba trăm hai mươi lăm triệu sáu trăm nghìn sáu trăm linh tám.  
 C. Ba trăm hai mươi lăm triệu sáu nghìn sáu trăm linh tám.  
 D. Ba trăm hai mươi lăm triệu sáu trăm nghìn sáu trăm tám mươi.

**Câu 7:** Giá trị của chữ số 8 trong số sau: 45873246.

- A. 8 000              B. 80 000              C. 800 000              D. 8 000 000

**Câu 8:** Nối mỗi dòng bên trái với mỗi dòng bên phải để được kết quả đúng.

- |                    |                 |
|--------------------|-----------------|
| A. Bảy trăm triệu. | 1. 70 000.      |
| B. Bảy chục triệu. | 2. 700 000.     |
| C. Bảy trăm nghìn. | 3. 700 000 000. |
| D. Bảy mươi nghìn. | 4. 70 000 000   |

**Câu 9:** Số tự nhiên liền sau số: 3004 là:

- A. 3003.                      B. 3033                      C. 3005                      D. 3014

**Câu 10:** Số tự nhiên liền trước số 10001 là:

- A. 10011.                      B. 10002                      C. 10021                      D. 10000

**Câu 11:** Chọn số nào để được 3 số tự nhiên liên tiếp 99998;.....100000.

- A. 99997                      B. 9999                      C. 99999                      D. 100 001

**Câu 12:** Tìm số tròn chục x, biết:  $58 < x < 70$

- A. 69                      B. 50                      C. 60                      D. 59

**Câu 13:** 36000kg = ? tấn

- A. 36 tấn                      B. 360 tấn                      C. 600 tấn                      D. 306 tấn

**Câu 14:** 3 kg 7g = ? g.

- A. 37 g                      B. 307 g                      C. 370 g                      D. 3007 g

**II. Phần tự luận**

**1. Đặt tính rồi tính**

32460 x 730

10 660 : 52

4957 : 165

106141 : 413

.....	.....	.....	.....
.....	.....	.....	.....
.....	.....	.....	.....
.....	.....	.....	.....
.....	.....	.....	.....
.....	.....	.....	.....

**2. Tìm x**

a)  $76502 - x = 10512 : 32$

b)  $x + 532 = 48 \times 23$

c)  $x - 264 = 1456 : 52$

.....	.....	.....
.....	.....	.....
.....	.....	.....
.....	.....	.....

**3. Hai đội công nhân sửa đường trong 1 ngày đã sửa được tất cả 1km đường. Đội Một sửa được nhiều hơn đội Hai 146m. Hỏi mỗi đội đã sửa được bao nhiêu mét đường ?**

**Bài giải**

.....

.....



**Câu 9:** Năm 1459 thuộc thế kỷ thứ mấy?

- A . XII
- B. XIII
- C. XIV
- D. XV

**Câu 10:** Một người đi xe máy trong  $\frac{1}{5}$  phút được 324 m. Hỏi trong một giây người ấy đi được bao nhiêu mét?

- A. 27 m
- B. 12 m
- C. 3888 m
- D. 270 m

**Câu 11:** Đúng ghi Đ, sai ghi S vào ô trống.

- a) 1980 là thế kỷ XX.
- c) 84 phút = 1 giờ 14 phút.
- b) Một ngày, 6 giờ = 26 giờ.
- d)  $\frac{1}{5}$  thế kỷ = 20 năm

**Câu 12:** Trung bình cộng của các số: 43 ; 166 ; 151 ; là:

- A. 360
- B. 180
- C. 120
- D. 12

**Câu 13:** Số trung bình cộng của hai số bằng 40. Biết rằng một trong hai số đó bằng 58. Tìm số kia?

- A. 98
- B. 18
- C. 49
- D. 22

**Câu 14:** Một đội đắp đường, một ngày đắp được 150 m. Ngày thứ hai đắp được 100 m. ngày thứ ba đắp được gấp hai lần ngày thứ hai. Hỏi trung bình mỗi ngày đội đó đắp được bao nhiêu mét đường?

- A. 15 m
- B. 150 m
- C. 250 m
- D. 500m

**Câu 15:** Số đo chiều cao của 5 học sinh lớp Năm lần lượt là: 148 cm; 146 cm ; 144 cm ; 142 cm; 140 cm. Hỏi trung bình số đo chiều cao của mỗi em là bao nhiêu xăng-ti-mét?

- A. 144 cm
- B. 142 cm
- C. 145 cm
- D. 146 cm

**II. Phần tự luận**

**1. Tính giá trị biểu thức**

a)  $(25\ 915 + 3550 : 25) : 71$

b)  $1029 - 896 : 34 \times 21$

.....

.....

.....

.....

.....

.....

.....

.....

b)  $3499 + 1104 : 23 - 75$

c)  $(31850 - 365 \times 50) : 68$

.....

.....

.....

.....

.....

.....

.....

.....

**2. Một thửa ruộng có chiều dài 150m. chiều rộng kém 3 lần chiều dài. Người ta trồng lúa ở đó.**

**Cứ 10 m<sup>2</sup> thì thu hoạch được 5kg thóc . Hỏi cả thửa ruộng đã thu hoạch bao nhiêu yến thóc ?**

**Bài giải**

.....

.....  
 .....  
 .....  
 .....  
 .....  
 3. Một đoàn xe tải chở hàng, 3 xe đầu chở mỗi xe chở 4520kg hàng, 5 xe sau mỗi xe chở 4120kg hàng. Hỏi trung bình mỗi xe chở được bao nhiêu kg hàng?

**Bài giải**

**4. Tính nhanh**

a)  $2459 - (400 + 459)$

b)  $435 \times 25 + 76 \times 435 - 435$

c)  $35 \times 49 + 51 \times 36$

**ĐỀ ÔN TẬP HÈ ( SỐ 4 )**

*Môn : Toán*

**I. Phần trắc nghiệm**

**Câu 1:** Một phân xưởng lắp xe đạp, sáu tháng đầu lắp được 36900 xe đạp, sáu tháng cuối năm lắp được nhiều hơn sáu tháng đầu năm 6900 xe đạp. Hỏi cả năm phân xưởng lắp được bao nhiêu xe đạp?

A. 43800 xe đạp.

C. 80700 xe đạp

B. 70700 xe đạp

D. 50700 xe đạp

**Câu 2:** Đúng ghi Đ, sai ghi S vào ô trống.

a)  $32864 + 5374 = 38238$ .

c)  $289950 + 4761 = 284711$ .

b)  $6728 + 201 \times 2 = 13858$ .

d)  $532 + 31 \times 4 = 656$ .

**Câu 3:** Năm nay học sinh của một trường A trồng được 325900 cây. Năm ngoái trồng được nhiều hơn năm nay 91700 cây. Hỏi cả hai năm học sinh trường A trồng được bao nhiêu cây?

A. 417600 cây

B. 509300 cây

C. 733500 cây

D. 743500 cây.

**Câu 4:** Tính:  $(m + n) \times p$  biết  $m = 30$  ;  $n = 40$  ;  $p = 8$  .

A. 350

B. 78

C. 560

D. 56

**Câu 5:** Chọn số thích hợp:  $(637 + 245) + 259 = (637 + 259) + \dots\dots?$

- A. 259                      B. 931                      C. 1141                      D. 245

**Câu 6:** Hai đội công nhân cùng đào một con đường dài 900 m, đội thứ nhất đào ít hơn đội thứ hai 164 m. Hỏi mỗi đội đào được bao nhiêu mét đường?

- A. 204 m và 368      B. 532 m và 696 m      C. 386 m và 523 m      D. 368 m và 532 m

**Câu 7:** Thu hoạch ở 2 thửa ruộng được 6 tấn 4 tạ thóc. Thu hoạch ở thửa ruộng thứ nhất được nhiều hơn thửa ruộng thứ hai là 10 tạ thóc. Hỏi thu hoạch ở mỗi thửa ruộng được bao nhiêu ki-lô-gam thóc?

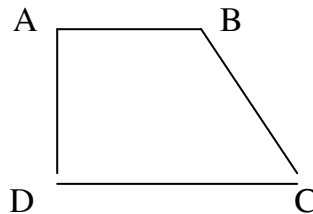
- A. 27kg và 37kg      B. 2700kg và 3700kg      C. 270kg và 370kg      D. 4700kg và 3700kg

**Câu 8:** Phát biểu nào sau đây là đúng:

- A. Góc nhọn lớn hơn góc vuông.                      C. Góc tù lớn hơn góc vuông.  
 B. Góc bẹt nhỏ hơn góc tù.                              D. Góc nhọn lớn hơn góc tù.

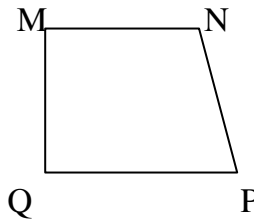
**Câu 9:** Hai cạnh nào vuông góc nhau:

- A. BC vuông góc CD.  
 B. AB vuông góc AD.  
 C. AB vuông góc BC.  
 D. BC vuông góc AD.



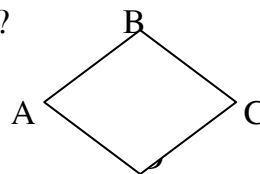
**Câu 10:** Đúng ghi Đ, sai ghi S vào ô trống:

- a) MN và NP vuông góc.                        
 b) MN và MQ vuông góc.                        
 c) MQ và QP vuông góc.                        
 d) QP và PN không vuông góc



**Câu 11:** Hình sau có mấy cặp cạnh song song nhau?

- A. 4                              C. 1  
 B. 3                              D. 2



## II. Phần tự luận

1. Trong các số : **6215 ; 56820 ; 42005 ; 97920 ; 82908 ; 20301**

- Các số chia hết cho 2 là : .....
- Các số chia hết cho 3 là : .....
- Các số chia hết cho 5 là : .....
- Các số chia hết cho 2 và 5 là : .....
- Các số chia hết cho 5 và 9 là : .....
- Các số chia hết cho 2 và 3 là : .....
- Các số chia hết cho 2 , 5 , 9 là : .....

2. Đặt tính rồi tính



7515 x 305

267 x 2143

92157 : 257

857200 : 15700

.....	.....	.....	.....
.....	.....	.....	.....
.....	.....	.....	.....
.....	.....	.....	.....
.....	.....	.....	.....
.....	.....	.....	.....

**3. Một đoàn xe du lịch, 4 xe đi đầu chở tất cả 180 người, 5 xe đi sau chở tất cả 270 người. Hỏi trung bình mỗi xe chở bao nhiêu người?**

**Bài giải**

.....

.....

.....

.....

.....

**4. Hiện nay trung bình cộng số tuổi của 2 bố con là 25 tuổi. Tuổi bố hơn tuổi con là 28 tuổi.**

- a) Tìm số tuổi của bố và của con hiện nay
- b) Sau mấy năm nữa thì tuổi bố gấp 3 lần tuổi con.

**Bài giải**

.....

.....

.....

.....

.....

**ĐỀ ÔN TẬP HÈ ( Số 5 )**

*Môn : Toán*

**I. Phần trắc nghiệm**

**Câu 1:** Đúng ghi Đ, sai ghi S vào ô trống:

- a)  $46008 \times 6 - 97865 = 178183.$
- b)  $56930 + (14205 + 34562) \times 4 = 764368.$
- c)  $8679 \times 8 + 12354 \times 8 = 168164.$
- d)  $95368 - 1325 \times 9 = 84443.$

**Câu 2:** Tính nhẩm:  $16 \times 100 = ?$

- A. 1600                      B. 160                      C. 1060                      D. 6000

**Câu 3:** Kết quả của phép tính:  $78 \times 100 : 10 = ?$

- A. 78                      B. 708                      C. 7800                      D. 780

**Câu 4:** Chọn số thích hợp:  $(4 \times 5) \times 7 = (7 \times 4) \times \dots?$

- A. 20                      B. 5                      C. 7                      D. 4

**Câu 5:** Một cây bút giá 3500 đồng. Nếu mỗi học sinh mua 2 cây như thế thì 10 em mua hết bao nhiêu tiền?

- A. 70000 đồng                      B. 35000 đồng                      C. 7000 đồng                      D. 3500 đồng

**Câu 6:** Tìm x biết:  $x : 200 = 3460$

- A.  $x = 69200$                       B.  $x = 692000$                       C.  $x = 6920$                       D.  $x = 692$

**Câu 7:** Một kho lương thực, đợt 1 nhập 40 bao gạo, mỗi bao nặng 70 kg. Đợt hai nhập 65 bao mỗi bao nặng 50 kg. Hỏi cả hai đợt kho nhập bao nhiêu ki-lô-gam?

- A. 3530                      B. 3125                      C. 5050                      D. 6050

**Câu 8:** Số thích hợp điền vào chỗ trống:

a)  $48 \text{ dm}^2 = \dots?$

- A.  $480 \text{ cm}^2$                       B.  $48 \text{ cm}^2$                       C.  $4800 \text{ cm}^2$                       D.  $408 \text{ cm}^2$

b)  $65000 \text{ cm}^2 = \dots?$

- A.  $650 \text{ dm}^2$                       B.  $65 \text{ dm}^2$                       C.  $6500 \text{ dm}^2$                       D.  $6050 \text{ dm}^2$


c)  $36 \text{ m}^2 = \dots?$

- A.  $36000 \text{ cm}^2$                       B.  $360000 \text{ cm}^2$                       C.  $3600 \text{ cm}^2$                       D.  $360 \text{ cm}^2$

d)  $590 \text{ dm}^2 = \dots \text{ m}^2 \dots \text{ dm}^2$

- A.  $5 \text{ m}^2 9 \text{ dm}^2$                       B.  $50 \text{ m}^2 9 \text{ dm}^2$                       C.  $50 \text{ m}^2 90 \text{ dm}^2$                       D.  $5 \text{ m}^2 90 \text{ dm}^2$

**Câu 9:** Cho hai hình sau:



- A. Diện tích hình chữ nhật nhỏ hơn diện tích hình vuông.  
 B. Diện tích hình hình vuông nhỏ hơn diện tích chữ nhật.  
 C. Diện tích hai hình bằng nhau.  
 D. Diện tích hình chữ nhật gấp đôi diện tích hình vuông.

**Câu 10:** Một mảnh vườn hình chữ nhật, có chiều rộng 25 m. Chiều dài gấp hai lần chiều rộng. Tính diện tích mảnh vườn?

- A.  $125 \text{ m}^2$                       B.  $1250 \text{ m}^2$                       C.  $50 \text{ m}^2$                       D.  $75 \text{ m}^2$

**II. Phần tự luận**

**1. Tính**

a)  $2629 \times 21 - 2526$

b)  $1575 + 81740 : 268 - 1255$

c)  $25 \times 69 \times 4$

.....  
 .....

.....  
.....  
**2. Một kho hàng ngày đầu nhận được 60 tấn hàng, ngày thứ hai nhận được bằng  $\frac{1}{3}$  số tấn hàng của ngày đầu. Ngày thứ ba nhận ít hơn ngày đầu 5 tấn. Hỏi trung bình mỗi ngày kho hàng đó nhận được bao nhiêu tấn hàng ?**

**Bài giải**

.....  
.....  
.....  
.....  
.....  
.....  
**3. Hai người 10 ngày ăn hết 10kg gạo. Hỏi với mức ăn như thế, 4 người ăn 10 ngày hết bao nhiêu kg gạo?**

**Bài giải**

.....  
.....  
.....  
.....  
.....  
.....  
**4. Tổng của hai số lẻ bằng 884. Tìm hai số đó, biết rằng giữa chúng có 7 số chẵn liên tiếp nữa ?**

**Bài giải**

**ĐỀ ÔN TẬP HÈ (Số 6)**  
**Môn : Toán**

**1. Tính**

8274 x 3200

1525 x 1002

161867 : 157

917600 : 2100

.....	.....	.....	.....
.....	.....	.....	.....
.....	.....	.....	.....
.....	.....	.....	.....
.....	.....	.....	.....
.....	.....	.....	.....

**2. Điền vào chỗ chấm**

- |  |  |
|--|--|
| a) 3 tấn 3 yến = ..... kg                                  | 2 tạ 5 kg = .....kg  |
| 7 tấn 4 kg = ..... kg                                      | 9 tạ 20 kg = .....kg   |
| b) 1 giờ 20 phút = ..... phút                              | 2 phút 15 giây = .....giây                                       |
| 480 giây = ..... phút                                      | 5 giờ 5 phút = .....phút   |
| c) 1500 m = ..... km                                       | 7km 5 hm = .....m  |
| 3 km 8m = ..... m  | 3 m 5 dm = .....mm   |
| d) 5 m <sup>2</sup> = ..... cm <sup>2</sup>                | 4758 cm <sup>2</sup> = .....dm <sup>2</sup> .....cm <sup>2</sup> |
| 2 km <sup>2</sup> 75 m <sup>2</sup> = ..... m <sup>2</sup> | 12500 cm <sup>2</sup> = .....m <sup>2</sup> .....dm <sup>2</sup> |

**3. Lớp 4A có 27 học sinh, lớp 4E có 33 học sinh. Cả hai lớp đã mua 720 quyển vở. Hỏi mỗi lớp mua bao nhiêu quyển vở , biết rằng mỗi học sinh mua số vở như nhau ?**

**Bài giải**

.....

.....

.....

.....

.....

.....

.....

**4. Có 60 lít dầu đựng trong hai thùng. Nếu đổ 2 lít từ thùng I sang thùng II thì lúc đó số dầu ở thùng I sẽ bằng  $\frac{2}{3}$  số dầu ở thùng II. Hỏi lúc đầu mỗi thùng có bao nhiêu lít dầu ?**

**Bài giải**

.....

.....

.....

.....

.....

.....

.....

.....

.....

.....

**5. Một ô tô chạy trong 2 giờ đầu , mỗi giờ chạy được 60km và 3 giờ sau, mỗi giờ chạy được 50km. Hỏi trung bình mỗi giờ ô tô chạy được bao nhiêu ki – lô – mét ?**

**Bài giải**

.....

.....

.....

.....

.....

.....

.....

.....

**6. Một trại nuôi 1350 con vịt, ngan, ngỗng. Số vịt bằng tổng số ngan và ngỗng. Số ngan nhiều hơn số ngỗng là 125 con. Hỏi mỗi loại có bao nhiêu con ?**

**Bài giải**

.....

.....

.....

.....

.....

.....

.....

.....

**7. Mẹ có một tấm vải, lần thứ nhất mẹ cắt  $\frac{1}{5}$  tấm vải, lần thứ hai mẹ cắt  $\frac{2}{3}$  tấm vải. Sau hai lần cắt tấm vải còn lại 14m. Hỏi:**

- a. Trước khi cắt tấm vải dài bao nhiêu mét?**
- b. Mỗi lần mẹ cắt bao nhiêu mét vải?**

**Bài giải**

.....

.....

.....

.....

.....

Họ và tên : .....

**ĐỀ ÔN TẬP HÈ ( SỐ 7 )**  
**Môn : Toán**

**1. Tính**

$$\frac{2}{3} + \frac{5}{2} - \frac{3}{4}$$

$$\frac{2}{9} : \frac{2}{3} \times \frac{1}{2}$$

$$2 : \frac{2}{3} - \frac{1}{7}$$

$$2 + \frac{1}{4} \times \frac{4}{3}$$

$$\frac{1}{2} + \frac{1}{3} : \frac{1}{6}$$

$$3 \times \frac{1}{2} \times \frac{1}{4}$$

**2. Viết số thích hợp vào chỗ chấm**

a) 6 tạ 5 kg = .... yến .... kg

400g = .... kg .... g

36 thế kỷ = ..... năm

34 kg 2 g = .... hg .... g

14 tấn 35kg = .... tạ .... kg

$\frac{1}{4}$  thế kỷ = .... năm

8 kg 6 dag = .... hg .... g

9 tấn 7 yến = .... tạ .... kg

8 ngày = ..... giờ

5 kg 7g = .... dag .... g

93 dag = .... hg .... g

$\frac{1}{8}$  ngày = .... giờ

b) 240 phút = .... giờ

48 m 7cm = .... dm ....mm

2000000 m<sup>2</sup> = ..... km<sup>2</sup>

11280 giây = .... giờ .... phút

382m 7cm = .... dam .... cm

7 m<sup>2</sup> 68 dm<sup>2</sup> = ..... dm<sup>2</sup>

512 phút = .... giờ ..... phút

600dam2dm = .... km ....cm

80000 cm<sup>2</sup> = ..... m<sup>2</sup>

$\frac{1}{6}$  giờ = ..... giây

8301m9cm = ... km ..... mm

4km<sup>2</sup> 400m<sup>2</sup> = ..... m<sup>2</sup>

**3. Một cửa hàng có 15 tạ muối. Trong 4 ngày đầu bán được 180kg muối, số muối còn lại đã bán hết trong 6 ngày sau. Hỏi:**

a) Trung bình mỗi ngày bán được bao nhiêu kg muối?

b) Trong 6 ngày sau, trung bình mỗi ngày bán được bao nhiêu yến muối?

**Bài giải**

.....  
.....  
.....  
.....  
.....

**4. Mẹ mang ra chợ bán 412 quả vừa cam vừa táo. Tìm số quả mỗi loại biết rằng nếu thêm vào số cam 126 quả và bớt số táo đi 60 quả thì số quả cam bằng số quả táo.**

**Bài giải**

.....  
.....  
.....  
.....  
.....

**5. Tuổi của Đức hiện nay bằng  $\frac{2}{5}$  tuổi của Hùng. Hỏi hiện nay mỗi người bao nhiêu tuổi ? Biết rằng 3 năm sau tổng số tuổi hai bạn là 27 tuổi.**

**Bài giải**

.....  
.....  
.....  
.....  
.....  
.....

**6. Hiệu của hai số là 738. Tìm hai số đó, biết rằng số thứ nhất giảm 10 lần thì được số thứ hai.**

**Bài giải**

.....

**7. Tính bằng cách thuận tiện nhất**

$23 + 23 \times 2 + 23 \times 3 + 23 \times 4$

$246 \times 2005 - 2005 \times 148$

$25 \times 12 \times 30 \times 4$

.....  
.....  
.....

Họ và tên : .....

**ĐỀ ÔN TẬP HÈ ( SỐ 8 )**  
**Môn : Toán**

**1. Tính**

$$\frac{2}{3} - \frac{5}{9} \times \frac{3}{4}$$

$$\frac{2}{5} + \frac{1}{4} : \frac{3}{8}$$

$$\frac{1}{2} + \frac{1}{3} : \frac{1}{6}$$

$$\frac{7}{9} \times \frac{3}{14} : \frac{5}{8}$$

$$79 \times 11 + 2800 \times 40$$

$$26475 \times 36 - 76945 : 5$$

.....  
.....

.....  
.....

**2. Điền dấu >, <, = vào chỗ chấm :**

$$\frac{5}{7} \dots \frac{4}{3}$$

$$\frac{2}{5} \dots \frac{6}{10}$$

$$\frac{1}{4} \dots \frac{3}{12}$$

$$\frac{27}{36} \dots \frac{2}{9}$$

$$\frac{7}{6} \dots \frac{7}{9}$$

$$\frac{7}{2} \dots \frac{4}{79}$$

$$\frac{15}{23} \dots 1$$

$$\frac{27}{9} \dots 2$$

$$\frac{14}{15} \dots 1$$

$$\frac{51}{17} \dots \frac{3}{1}$$

**3. Điền số thích hợp vào chỗ trống :**

$$\frac{4}{7} = \frac{\dots}{21}$$

$$\frac{8}{12} = \frac{\dots}{3}$$

$$\frac{\dots}{11} = \frac{10}{55}$$

$$\frac{\dots}{32} = \frac{21}{24}$$

$$\frac{6}{15} = \frac{18}{\dots}$$

$$\frac{\dots}{9} = \frac{4}{36}$$

$$\frac{\dots}{13} = \frac{121}{143}$$

$$\frac{\dots}{8} = \frac{40}{64}$$

$$\frac{1}{6} = \frac{7}{\dots}$$

$$\frac{5}{9} = \frac{40}{\dots}$$

**4. Điền số thích hợp vào chỗ trống**

a) 50 kg 5 hg = ..... g

12500 g = .....kg .....hg

500 kg = ..... tạ

450 tạ = .....tấn

b) 2 giờ 78 phút = ..... phút

10 thế kỉ = .....năm

1500 năm = ..... thế kỉ

2 năm = .....tháng

c) 8 dam 5 m = ..... m

5 m 7 cm = .....mm

15 m 25 mm = ..... mm

15075 m = .....km .....m

d) 78500 dm<sup>2</sup> = ..... m<sup>2</sup>

7 m<sup>2</sup> 5 cm<sup>2</sup> = .....cm<sup>2</sup>

5 cm<sup>2</sup> 7 mm<sup>2</sup> = ..... mm<sup>2</sup>

3 km<sup>2</sup> 9 m<sup>2</sup> = .....m<sup>2</sup>



5. Một ruộng muối thu hoạch lần thứ nhất được 200 yến, lần thứ hai được 22 tạ, lần thứ 3 được 14 tạ, lần thứ 4 thu hoạch được bằng nửa tổng các lần trước. Hỏi trung bình mỗi lần thu hoạch được bao nhiêu tạ muối?

**Bài giải**

.....  
.....  
.....  
.....  
.....  
.....  
.....  
.....  
.....

6. Hùng mua 15 quyển vở. Dũng mua 8 quyển vở cùng loại và trả ít hơn Hùng 15.400 đồng. Hỏi mỗi bạn phải trả bao nhiêu tiền?

**Bài giải**

.....  
.....  
.....  
.....  
.....  
.....  
.....  
.....  
.....

7. Một người bán được 63 quả trứng, trong đó số trứng vịt bằng  $\frac{4}{3}$  số trứng gà. Giá tiền một quả trứng vịt là 900 đồng, một quả trứng gà là 800 đồng. Hỏi người đó thu được bao nhiêu tiền?

**Bài giải**

.....  
.....  
.....  
.....

.....  
 .....  
 .....  
 .....

Họ và tên : .....

**ĐỀ ÔN TẬP HÈ ( SỐ 9 )**

**Môn : Toán**

**1. Tính**

$$\frac{3}{2} : \frac{9}{4} + \frac{21}{8}$$

$$\frac{3}{10} + \frac{1}{2} \times \frac{1}{3}$$

$$\frac{8}{15} : \frac{2}{11} + \frac{2}{15} : \frac{2}{11}$$

$$\frac{3}{4} \times \frac{2}{3} - \frac{3}{4} \times \frac{1}{6}$$

**2. Tìm x**

$$\frac{1}{4} + x = \frac{5}{2} \times \frac{8}{7}$$

$$\frac{7}{3} - x = \frac{11}{5} : \frac{5}{6}$$

$$x + \frac{5}{2} \times \frac{2}{3} = \frac{5}{2}$$

$$\frac{23}{6} : x - \frac{2}{5} = \frac{1}{4}$$

.....  
 .....  
 .....  
 .....  
 .....

**3. Điền vào chỗ chấm**

3520 yến = ..... tạ ..... 5020 kg = ..... tấn ..... yến

1 năm rưỡi = ..... tháng      3 năm 2 tháng = ..... tháng

2 giờ  $\frac{1}{4}$  giờ = ..... phút      1 giờ  $\frac{2}{3}$  giờ = ..... phút

$\frac{1}{10}$  thế kỉ = ..... năm       $\frac{4}{5}$  thế kỉ = ..... năm

$\frac{3}{2}$  giờ = ..... phút       $\frac{2}{3}$  phút = ..... giây

4. Một mảnh vườn hình chữ nhật có chu vi là 312 m, chiều rộng ngắn hơn chiều dài 24m.

- a. Tính diện tích mảnh vườn đó?
- b. Mảnh vườn được chia làm hai phần: trồng na và trồng chuối. Biết diện tích trồng na bằng  $\frac{3}{2}$  diện tích trồng chuối. Tính diện tích mỗi phần đó.

**Bài giải**

.....

.....

.....

.....

.....

.....

.....

5. Gia đình tôi gồm 4 người: bố, mẹ, tôi và em tôi. Tuổi trung bình cộng của cả nhà là 24 tuổi. Nếu không tính tuổi của bố thì tuổi trung bình của gia đình tôi là 17 tuổi.....

- a) Hỏi bố bao nhiêu tuổi?
- b) Mẹ kém bố 3 tuổi, tuổi tôi gấp đôi tuổi em tôi. Hỏi tuổi của em tôi.

**Bài giải**

.....

.....

.....

.....

.....

.....

.....

6. Để lát nền một phòng học hình chữ nhật có chiều dài 15m, chiều rộng 6m người ta dùng loại gạch men hình vuông cạnh 30cm. Giá mỗi viên gạch là 2 500 đồng. Hỏi hết bao nhiêu tiền để lát kín phòng học đó biết rằng phần mạch vữa không đáng kể ?

**Bài giải**

.....

.....

.....

.....

.....

.....

.....  
.....  
**7. Một xe tải bé chở được 16 bao gạo, mỗi bao gạo nặng 50kg. Một xe tải lớn chở được 90 bao, mỗi bao chở nặng 70kg. Hỏi xe tải lớn chở được nhiều hơn xe tải bé bao nhiêu tạ gạo ?**

**Bài giải**

.....  
.....  
.....  
.....  
.....