

Đề ôn tập môn toán lớp 3 lên 4

Đề 1

Bài 1 : Khoanh vào đáp án đúng

- a) Số liền sau của số 39759
 A. 39758 B. 39760 C.39768 D. 39760
- b) Tìm số tròn nghìn ở giữa số 9068 và 11982 là
 A. 10000 và 12000 B. 10000và 11000
 C. 11000 và 9000 D. 12000 và 11000
- c) $(98725 - 87561) \times 3$
 A. 32493 B. 39432 C. 33492 D. 34293
- d) $12356 + 62154 : 9$
 A. 29262 B. 39262 C. 19262 D. 18262
- đ) $3\text{km } 12\text{m} = \dots\dots\dots\text{m}$
 A. 312 B. 3012 C. 36 D. 15
- e) 4 giờ 9 phút =phút
 A. 49 phút B. 36 phút C. 396 phút D. 13 phút

Bài 2 : Một đội thủy lợi đào đ-ợc 132 m m-ơng trong 6 ngày . Hỏi đội đó đào đ-ợc bao nhiêu m m-ơng trong 7 ngày

.....

.....

.....

.....

.....

.....

.....

.....

.....

.....

Bài 3 : đặt tính rồi tính

- a) $63754 + 25436$ b) $93507 - 7236$ c) 47264×4 d) $72296 : 7$

.....

.....

.....

.....

.....

.....

.....

.....

.....

.....

Bài 4 : Tìm x

- a) $x + 7839 = 16784$ b) $5 \times X = 12475$ c) $X : 12457 = 9$

.....

.....

.....

Đề ôn tập môn toán lớp 4
Đề 2

Bài 1: Điền dấu

a. $3\text{km } 487\text{m} \dots 3657\text{m}$

b. $3760\text{m} \times 2 \dots 8494\text{m} - 2657\text{m}$

.....

.....

.....

.....

c. $50\text{km} 964\text{m} \dots 65370\text{m}$

d. $21378\text{m} : 2 \dots 10689\text{m}$

.....

.....

.....

.....

Bài 2: Tính giá trị biểu thức:

a. $(84371 - 45263) : 3 =$

b. $1608 \times 5 : 4 =$

.....

.....

.....

.....

.....

.....

c. $12000 : (3+5) =$

d. $(21470 + 34252) : 6 =$

.....

.....

.....

.....

.....

.....

.....

.....

Bài 3: Mẹ đem 100 000 đồng đi chợ; mẹ mua cho Mai một đôi giày hết 36500 đồng và mua một áo phông hết 26500 đồng. Số tiền còn lại mẹ dùng để mua thức ăn. Hỏi mẹ đã dùng bao nhiêu tiền để mua thức ăn?

Bài giải

.....

.....

.....

.....

Bài 4: Điền vào ô trống chữ số thích hợp (có giải thích)

a.81....

b. 5...3

$\begin{array}{r} x \ 3 \\ \hline \end{array}$

5442

$\begin{array}{r} x \ 6 \\ \hline \end{array}$

....43....

.....

Đề ôn tập môn toán lớp 4

Đề 3

Bài 5 : Khoanh tròn vào chữ cái đặt tr- ớc kết quả đúng :

A. $4083 : 4 = 102$ (d- 3)

B. $4083 : 4 = 120$ (d- 3)

C. $4083 : 4 = 1020$ (d- 3)

D. $4083 : 4 = 12$ (d- 3)

.....

.....

.....

Đề ôn tập môn toán lớp 4

Đề 3

Bài 1:Tích của số lớn nhất có 4 chữ số và số bé nhất có 2 chữ số là:

A.99990

B. 89991

C.9999

D. 8

Bài 2: Tìm số x biết “th- ơng của 62680 và x” thì bằng 8

A.x=7835

B.x= 7845

C. x= 7836

D. x = 7735

Giải thích

.....

.....

.....

Bài 3 : Có 45 kg bột mì đựng đều trong 9 bao . Hỏi 75kg bột mì đựng đều trong mấy bao nh-
thế

Bài giải

.....

.....

.....

Bài 4 :a.Tính chu vi một hình chữ nhật,biết chiều dài là 4m 30cm và chiều rộng là 80cm

b. Tính diện tích của một mảnh bìa hình chữ nhật, biết chiều dài là 8dm và chiều rộng là 9cm

Bài giải :

a).....

b).....

Bài 5 : Tìm số?

Thừa số	35723		9	23 417	6150
Thừa số	3	5		2	6
Tích		64 950	91 845		

ĐỀ ôn tập môn toán lớp 3

Đề 4

Bài 1:Tính nhẩm:

a. $3000 \times 6 - 5000 = \dots\dots\dots$ b. $42000 : 7 + 8000 = \dots\dots\dots$

c. $54000 : 9 + 4000 = \dots\dots\dots$ d. $72000 : 9 + 1000 = \dots\dots\dots$

Bài 2:Tính diện tích miếng bìa hình vuông,biết hình vuông đó có chu vi là 3dm2cm.

Bài giải:

Bài 3:Tính giá trị biểu thức:

a. $528 + 216 : 2 \times 3$

b. $26946 : (9 \times 2)$

.....

.....

.....

.....

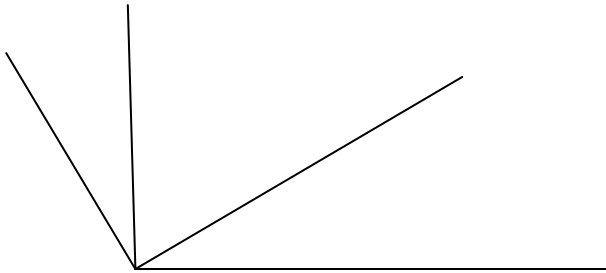
.....

 Bài 4: Trong một xưởng may công nghiệp, cứ 15 m vải thì may được 5 bộ quần áo cùng một cỡ. Hỏi có 350m vải thì may được bao nhiêu bộ quần áo với cùng cỡ đó? còn thừa mấy m vải?

Bài giải:

.....

Bài 5: Trong hình vẽ có.....góc vuông và.....góc không vuông?



Đề ôn tập môn toán lớp 3

Đề 4

Bài 1: Tính:

$$\begin{array}{r} 54150 \quad 5 \\ | \\ \hline \end{array}$$

$$\begin{array}{r} 63270 \quad 9 \\ | \\ \hline \end{array}$$

$$\begin{array}{r} 42158 \quad 3 \\ | \\ \hline \end{array}$$

Bài 2: Tính nhanh:

a. $100 + 100 : 4 - 50 : 2$

b. $(6 \times 8 - 48) : (10 + 11 + 12 + 13 + 14)$

.....

Bài 3: Túi thứ nhất đựng 18kg gạo, gấp 3 lần túi thứ hai. Hỏi phải lấy ở túi thứ nhất bao nhiêu kg gạo đổ sang túi thứ hai để số gạo ở hai túi bằng nhau.

Bài giải:

.....

.....

.....

Bài 4: Tính chu vi hình tứ giác ABCD, biết cạnh AB=16cm, BC=20cm. cạnh CD bằng nửa tổng AB và BC. Cạnh AD gấp đôi hiệu của AB và BC.

Bài giải:

.....

.....

ĐỀ ôn tập môn toán lớp 3

ĐỀ 5

Bài 1: Tính giá trị biểu thức:

a. $125 - 25 \times 3$	b. $125 : 5 + 75 : 5$	c. $30 : 3 + 7 \times 8$
=	=	=
=	=	=

Bài 2: Điền dấu để có kết quả đúng:

a. $1 \square 1 \square 1 \square 1 = 0$	b. $1 \square 1 \square 1 \square 1 = 0$
c. $1 \square 1 \square 1 \square 1 = 0$	d. $1 \square 1 \square 1 \square 1 = 0$

Bài 3: Lớp 3 A có 40 HS đ-ợc chia thành 4 tổ, mỗi tổ lại chia đều thành 2 nhóm. Hỏi mỗi nhóm có bao nhiêu HS.

Bài giải:

.....

.....

Bài 4: a. Điền số thích hợp vào chỗ trống: ở hình vẽ bên có... hình chữ nhật

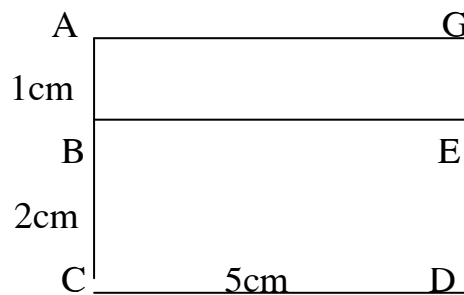
là:

b. Tính chu vi từng hình:

.....

.....

.....



.....

Bài 5: Điền số thích hợp vào chỗ chấm.:

a. $2\text{m}5\text{dm} = \dots\dots\dots\text{dm}$

b. $2\text{km} 500\text{m} = \dots\dots\dots\text{m}$

c. $2\text{m}5\text{cm} = \dots\dots\dots\text{cm}$

d. $2\text{km} 50\text{m} = \dots\dots\dots\text{m}$

e. $2\text{m} 5\text{mm} = \dots\dots\dots\text{mm}$

g. $2\text{km}50\text{m} = \dots\dots\dots\text{m}$

Đề ôn tập môn toán lớp 3

Đề 6

Bài 1: Tìm x:

a. $X \times 3 = 432$

b. $X \times 7 = 154$

c. $8 \times X = 304$

.....

.....

.....

.....

.....

.....

Bài 2: Số gì?

$$\square \times 9 \rightarrow \square + 12 \rightarrow 75$$

Bài 3: Một trại nuôi gà có 792 con gà nhốt đều vào 9 ngăn chuồng. Ng- ời ta bán đi số con gà bằng số gà nhốt trong 2 ngăn chuồng. Hỏi ng- ời ta đã bán đi bao nhiêu con gà?

Bài giải:

.....

.....

.....

.....

.....

.....

Bài 4: Thay mỗi dấu * bằng một số thích hợp:

$$\begin{array}{r} * 28 \\ * * \\ * * \\ 0 \end{array} \left| \begin{array}{r} 4 \\ \hline 15 * \end{array} \right.$$

$$\begin{array}{r} 4 * * \\ * * \\ 2 \end{array} \left| \begin{array}{r} 8 \\ \hline * 2 \end{array} \right.$$

Đề ôn tập môn toán lớp 3

Đề 7

Bài 1: Tính giá trị biểu thức:

a. $124 \times (24 - 4 \times 6)$

b. $50 + 50 \times 2$

c. $500 - 500 : 2$

=.....

=.....

=.....

=.....

=.....

=.....

=.....

=.....

=.....

Bài 2: Tìm x:

a. $126 \times X = 126$

b. $X : 9 = 2 (d - 4)$

c. $X \times 6 = 3048 : 2$

.....

.....

.....

.....

.....

.....

.....

.....

.....

Bài 3: Một cửa hàng có 132 kg đ- ờng, đã bán 1 số kg đ- ờng đó và 9kg. Hỏi cửa hàng còn lại bao nhiêu kg đ- ờng?

4

Bài giải

.....

Bài 4: Một thửa ruộng hình chữ nhật có chiều dài 120m, chiều rộng bằng 1 chiều dài. a. Tính chu vi thửa ruộng đó.

3

b. Dọc theo chiều rộng, ng- ời ta chia ruộng thành 2 phần, một phần là hình vuông có cạnh bằng chiều rộng thửa ruộng, phần còn lại là một hình chữ nhật. Tính chu vi phần còn lại của thửa ruộng đó.

Bài giải:

.....

.....
.....
.....
.....

Đề ôn tập môn toán lớp 4(đề số 8)

Bài 1: Tính nhanh :

a) $35 \times 6 - 70 \times 3 + 35$

b) $10 + 2 + 6 + 7 + 3 + 1 + 8 + 4 + 9 + 5$

.....
.....
.....
.....

Bài 2: Khoanh tròn vào chữ đặt tr-ớc kết quả đúng :

4m 5cm =cm

A. 45 cm

B. 405 cm

C. 4005 cm

D. 450 cm

Bài 3 : Tìm x

a) $x - 67594 = 13272$

b) $x + 6942 = 7051$

.....
.....
.....

c) $x - 26940 = 57321$

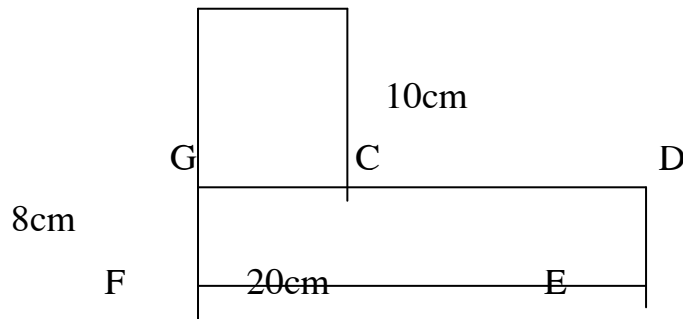
d) $4 \times X = 8412$

.....
.....
.....

Bài 4 : Tính diện tích của miếng bìa hình vuông , biết hình vuông đó có chu vi là 3 dm 2cm .

.....
.....
.....

Bài 5 : Cho một hình có số đo (nh- hình vẽ) Tìm cách tính diện tích của hình đã cho . (tìm 2 cách tính)



Bài 6 : Điền dấu > ; < =

a) 1m 10 dm

b) 100cm

c) 10 dm 100cm

d) 7m 8cm 5dm

e) 46cm 5dm

g) 1giờ phút

h) 3 giờ 2 giờ 60 phút

i) 1kg 900g

k) 1200 g 1kg 400g

l) 5m 6 cm 0 cm

.....
.....

Đề ôn tập môn toán lớp 4

Luyện tập tổng hợp

Đề 9

Bài 1: Tìm tất cả các số có 3 chữ số mà mỗi số đó có tổng các chữ số bằng 3

.....
.....
.....
.....
.....

Bài 2: a) Một ô tô đi từ A lúc 8 giờ sáng đến B lúc 2 giờ chiều cùng ngày .Hỏi ô tô đi từ A đến B hết mấy giờ ?

.....
.....
.....

b) Bình đi ngủ lúc 10 giờ tối và đến 6 giờ sáng hôm sau thì thức dậy .Hỏi Bình đã ngủ đ- ợc mấy giờ ?

.....
.....

Bài 3: Một hình chữ nhật có chiều dài gấp đôi chiều rộng .Tính chu vi hình chữ nhật đó , biết diện tích của nó là 32 cm^2

.....
.....

Bài 4 : Tấm vải xanh dài gấp 3 lần tấm vải đỏ . Cửa hàng đã bán đ- ợc 7 m vải đỏ và 37 m vải xanh , nh- vậy số mét vải còn lại ở hai tấm vải bằng nhau . Hỏi lúc ch- a bán , mỗi tấm vải dài bao nhiêu m ?

Bài 5 : Tìm x

a) $3256 - x = 4582 - 2627$

b) $x - 6598 = 32631 - 247$

c) $428 \times X = X$

d) $X \times X = X$

Bài 6 : Hỏi phải nhân số 8 với số nào để đ- ọc

a) 888

b) 88888

Đề luyện tập môn toán lớp 4

Hàng và lớp (Đề 10)

Bài 1: Nêu các hàng thuộc lớp đơn vị :

Nêu các hàng thuộc lớp nghìn :

Nêu các hàng thuộc lớp triệu :

Bài 2: Viết các số sau :

a) Năm trăm bốn m- oi bảy nghìn hai trăm linh tám :

b) Một triệu hai trăm m- ời bảy nghìn sáu trăm tám m- oi năm:

c) Chín trăm linh ba nghìn sau trăm bốn m- oi hai :

d) Bảy trăm m- ời chín triệu bốn m- oĩ tám nghìn năm trăm chín m- oi hai :

Bài 3: Ghi giá trị của chữ số 7 trong mỗi số ở bảng sau :

Số	38753	67021	79 518	302 671	715 519
Giá trị của chữ số 7					

Bài 4 : a) Viết các số sau theo thứ tự từ bé đến lớn :

15 728 ; 18 642 ; 16 107 ; 17 501 ; 15 912 ; 18 050

b) Viết các số sau theo thứ tự từ lớn đến bé :

21 912 ; 25 017 ; 22 445; 25 119 ; 24 051; 23 546

Bài 5 : đặt tính rồi tính :

a) $6783 + 3456$

b) $25\ 679 - 12984$

c) 3498×7

d) $65040 : 5$

Đề luyện tập môn toán lớp 4

Đề 11: Biểu thức có chữ 1 – 2 chữ

Bài 1: Tính giá trị của biểu thức :

a) $b + 24605$ với $b = 17\ 229$

b) $12\ 002 - a$ với $a = 5005$

c) $1627 \times m$ với $m = 3$

d) $62415 : n$ với $n = 3$

Bài 2: Tính giá trị của biểu thức :

a) $125 \times b - 25 \times b$ với $b = 6$

b) $a + b \times 5$ với $a = 145$ và $b = 234$

Bài 3: Giá trị của biểu thức $50 + 50 : x + 100$ với $x = 5$ là

A. 50

B. 100

C. 120

D. 160

Bài 4: Cho hình vuông có độ dài cạnh là a

a) Hãy viết biểu thức tính chu vi P của hình vuông theo a và tính diện tích S của hình vuông theo a

b) áp dụng tính : Tính giá trị của biểu thức P và S với $a = 7$ cm

.....

.....

.....

Đề ôn tập môn toán lớp 4

Luyện tập về tính nhanh

Bài 1: Tính nhanh

b) a) $444 \times 3 + 444 \times 7$

b) $724 \times 6 + 742 \times 4$

.....

.....

.....

c) $999 \times 70 + 999 \times 30$

d) $805 \times 20 + 805 \times 80$

Bài 2: Tính thật tiện:

a) $36 \times 372 + 63 \times 372 + 372$

b) $377 \times 184 - 377 \times 2 + 377 \times 18$

.....

.....

.....

c) $568 + 568 \times 135 - 568 \times 36$

d) $265 \times 236 + 265 \times 265 - 265$

Bài 3 : Tính giá trị biểu thức :

a) $A = (1125 + 75) \times (1121 - 1120) + (275 - 75) \times (150 \times 3 - 450)$

.....

.....

.....

b) $B = (500 - 1250 \times 4) \times (1752 - 752) + (800 - 529) \times (1126 - 1125)$

.....
.....
.....
Bài 4 : Tính nhanh

a) $25 \times 4 \times 48 =$

.....
.....

b) $125 \times 57 \times 8 =$

.....
.....

c) $225 \times 17 - 17 \times 125$

.....
.....

Bài 5 : Tính nhanh :

a) $13276 - (4500 + 3276)$

.....
.....
.....
.....

b) $58264 + 4723 - 8264 - 723$

.....
.....
.....

Bài 6 : Tính giá trị biểu thức :

$$32 \times 48 + 48 : 6 - 123 : 3$$

.....
.....

Bài 7 : Tính nhanh : $17 \times 26 + 26 \times 44 + 39 \times 26$

.....

.....

.....

.....

.....

.....

Bài 8 : Hãy đặt dấu ngoặc đơn vào biểu thức d-ới đây để đ-ợc một biểu thức có giá trị bằng 65

$$4 \times 6 + 36 : 3 + 9$$

.....

.....

.....

Bài 9 : Tính bằng cách thuận tiện nhất :

a) $679 + 679 \times 123 - 679 \times 24$

b) $245 \times 327 - 245 \times 18 - 9 \times 245$

.....

.....

.....

Bài 10 : Tính nhanh tổng sau :

$(1 + 2 + 3 + 4 + 5 + \dots + 99) \times (13 \times 15 - 12 \times 15 - 15)$

.....

.....

Bài 11: Mỗi tích sau tận cùng bởi chữ số nào ?

a) $1 \times 11 \times 21 \times 31 \times \dots \times 91 \times 101 .$

b) $6 \times 16 \times 26 \times 36 \times 46 \times \dots \times 186 \times 196$

.....

.....

Đề ôn tập môn toán lớp 4

Đề 13: đo khối l- ợng

Bài 1: Viết bảng đơn vị đo khối l- ợng

.....

.....

Bài 2: Điền vào bảng sau

Lớn hơn kg			Kg	bé hơn kg		

Mỗi đơn vị đo khối l- ợng đều gấplần đơn vị bé hơn liền nó .

Bài 3: Viết số thích hợp vào chỗ trống

- a) 1 dag =g 1 hg =dag 10 g =g
- 10 dag =hg 4 dag =g 3 kg =hg
- 2 kg 300g =g 2 kg 30 g =g 8 hg =dag

Bài 4 : điền dấu :

7 tấn 70 tạ 50 tạ 9 yến tấn

.....

8 tấn 8900 kg 2 tạ 8 yến 80 kg

.....

12 tấn 11900 kg 6 tạ 3 yến 625 kg

Bài 5 : Viết các số sau dưới dạng gam (g)

4 dag = 147 dag 3g = 9 hg =

15 hg 2 dag = 42 kg 8 g =

Bài 6 : a) Mỗi bao xi măng nặng 5 yến . Một xe xích lô chở đ- ợc 6 tạ thì chở đ- ợc bao nhiêu bao xi măng?

.....
.....
.....
.....

c) Có 20 gói xà phòng trong đó một nửa loại 250 g mỗi gói và một nửa loại 500 g mỗi gói . Hỏi cả thảy có tất cả bao nhiêu kg xà phòng ?

.....
.....
.....
.....

Bài 7 : Điền vào chỗ trống :

21 tấn =kg 17 tấn 5 tạ =kg
56 tạ 9 yến =kg 8 tấn 7 yến =kg
34 tấn 7 kg =tạkg 5555 kg =tạ

Đề luyện tập môn toán lớp 4

Đề 14 : Luyện tập tổng hợp

Bài 1: đặt tính rồi tính :

a) 5389 + 4055 b) 9805 – 5867 c) 6842 + 1359 d) 1648 -995

.....
.....
.....
.....

Bài 2: Tính bằng cách thuận tiện nhất :

a) $325 + 1268 + 332 + 675 = \dots\dots\dots$

.....

b) $2547 + 1456 + 6923 - 456 = \dots\dots\dots$

.....

Bài 3: tính giá trị biểu thức :

$a + b - c$ với $a = 52$; $b = 9$; $c = 3$

.....

Bài 4 : Tìm x

a) $x - 363 = 975$

b) $207 + x = 815$

.....

Bài 5 : Tìm tích của số lẻ nhỏ nhất có 5 chữ số với số lớn nhất có 1 chữ số

.....

Bài 6: Điền chữ số thích hợp vào ô trống

$$\begin{array}{r} 24 \square 8 \\ \times \quad \quad \quad 3 \\ \hline \square \square \square \end{array}$$

$$\begin{array}{r} 4781 \\ \times \quad \quad \quad \square \\ \hline \square 2 \end{array}$$

Bài 7 : Một đội xe chở hàng , ba xe đầu mỗi đội chở đ- ợc 3500 kg hàng , 4 xe cuối mỗi xe chở đ- ợc 4200 kg hàng .Hỏi đội xe đó chở đ- ợc bao nhiêu kg hàng ?

.....

Bài 8 : Một hình vuông có cạnh dài 8 cm

- a) Tính chu vi và diện tích hình vuông đó ?
- b) Một hình chữ nhật có chu vi bằng chu vi hình vuông .Chiều dài bằng 9 cm .Tính chiều rộng hình chữ nhật đó ?

Bài 9 : Hãy đặt dấu ngoặc đơn vào biểu thức : $38 + 40 : 2 \times 5 + 7$ để giá trị của biểu thức bằng 202

Đề luyện tập môn toán lớp 4

Đề 15 : Luyện tập tổng hợp

Bài 1: Tính giá trị biểu thức :

a) $3242 + 2326 + 192$

b) $13228 - (18072 - 16785) =$

Bài 2: Tính thuận tiện :

a) $38 + 125 + 29 + 17 =$

b) $100 - 99 + 98 - 97 + 96 - 95 + 94 - 93 + 92 - 91 + 90$

.....
.....
.....

Bài 3: Viết số thích hợp vào chỗ trống

- a) 8 yến =kg 7yến 3 kg =kg 15 yến 6 kg =.....kg
b) 5 tạ =.....kg 4 tạ 3 yến =.....kg 7 tạ 7 kg =.....kg
c) 4 tấn =.....kg 6 tấn 5 tạ =.....kg 8 tấn 55 kg =.....kg

Bài 4 : Năm nay nhà bạn An thu hoạch đ- ợc 2 tạ 16 kg đ- ỗ và lạc , trong đó số kg đ- ỗ gấp 3 lần số kg lạc .Hỏi năm nay nhà bạn An thu hoạch đ- ợc mỗi loại bao nhiêu kg ?

.....
.....
.....
.....
.....
.....
.....
.....
.....
.....

Bài 5 : Điền dấu thích hợp vào chỗ trống

- a) 3 tấn 59 kg3059 kg b) 9 tạ - 756 kg 1 tạ 4 yến
c) 8 tạ 8 kg880 kg d) 475 kg x 8 3 tấn 80 kg

.....
.....
.....
.....
.....
.....

Bài 6 : Một hình vuông có diện tích bằng diện tích bằng diện tích hình chữ nhật với chiều dài = 25 cm và chiều rộng là 4 cm .Tính chu vi hình vuông ?

.....

.....

.....

.....

.....

.....

.....

.....

Bài 7: điền dấu nhân hay chia để đ- ợc kết quả đúng

a) $95 \square \square 2 = 38$ b) $100 \square \square = 1$

Đề luyện tập môn toán lớp 4

ĐỀ 16 : Luyện tập tổng hợp

Bài 1: Tính giá trị biểu thức :

a) $3256 \times 5 \times 6 = \dots\dots\dots$

.....

b) $12366 : 9 : 3 = \dots\dots\dots$

.....

c) $4572 \times 8 + 32549 = \dots\dots\dots$

.....

Bài 2 : điền dấu phép tính (X hay :) Thích hợp vào ô trống :

a) $4848 \square 2 \square 2 = 1212$

b) $4848 \square 2 \square 2 = 19392$

Bài 3 : Tìm một số biết rằng số đó cộng với 12 027 đ- ợc bao nhiêu cộng với 46 158 thì bằng 85 319

.....

.....

.....

.....

Bài 4: điền số thích hợp vào ô trống :

a) 1 giờ 20 phút =phút

b) 56 giờ =ngàygiờ

c) 126 phút =giờphút

Bài 5 : Hiện nay Dũng 7 tuổi , anh Minh 9 tuổi .Hỏi bao nhiêu năm nữa anh Minh sẽ gấp đôi tuổi Dũng .

.....
.....
.....
.....
.....
.....
.....
.....
.....

Bài 6 Tìm X

a) $X \times 5 = 2345 + 350$

b) $X : 7 = 1453 - 267$

.....
.....
.....
.....

c) $25\ 836 + x = 42\ 173 - 31564$

d) $X \times 9 = 50\ 819 - 3587$

.....
.....
.....
.....

Bài 7 : Một hình chữ nhật có chiều dài gấp đôi chiều rộng và có diện tích bằng 50 cm^2 Tính chu vi của hình chữ nhật đó .

.....
.....

.....

.....

.....

.....

.....

.....

.....

.....

.....

.....

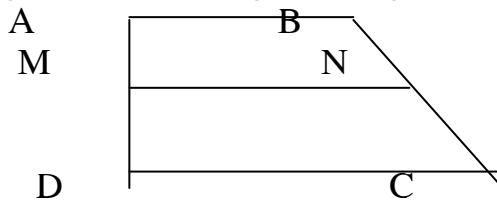
.....

.....

Đề luyện tập môn toán lớp 4

Đề 17 : Ôn tập về nhận dạng hình – Vẽ hình

Bài 1: Hình vẽ d- ới đây có bao nhiêu hình tứ giác , bao nhiêu góc vuông



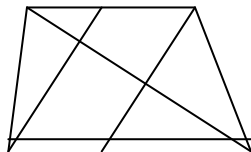
.....

.....

.....

.....

Bài 2 : Hình vẽ d- ới đây có bao nhiêu tam giác ? Bao nhiêu hình tứ giác ?



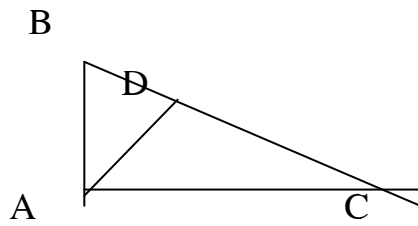
.....

.....

.....

.....

Bài 3: Hãy vẽ thêm một đoạn thẳng vào hình d- ới đây để có 8 hình tam giác .



.....

.....

.....

.....

.....

.....

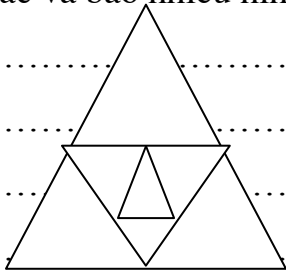
.....

.....

.....

.....

Bài 4 : Trên hình bên có bao nhiêu hình tam giác và bao nhiêu hình tứ giác ?



.....

.....

.....

.....

.....

.....

.....

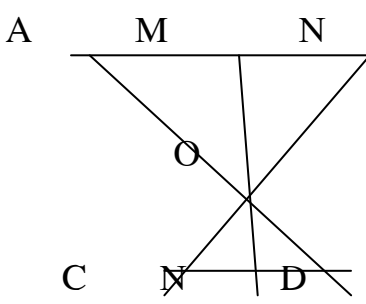
.....

.....

.....

Bài 5 : Trong hình vẽ bên

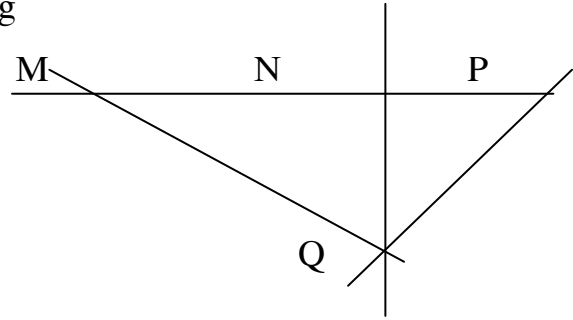
- a) Ba điểm thẳng hàng là :
- b) Điểm M nằm giữa hai điểm :
- c) Điểm N nằm giữa hai điểm :
- d) Điểm O nằm giữa hai điểm :



B

Bài 6 : Cho hình bên : Hãy khoanh vào đáp án đúng

- A). M ; N ; Q thẳng hàng
- B) N; P ; Q thẳng hàng
- C) M ; N ; P thẳng hàng
- D) M ; P ; Q thẳng hàng



Đề luyện tập môn toán lớp 4

Đề 18 : Luyện tập về nhân với số có 1 chữ số

Bài 1: đặt tính rồi tính :

23514 x 3

407 050 x 2

312 485 x 4

178045 x 5

.....

.....

.....

.....

Bài 2: Viết thành phép nhân rồi tính kết quả :

a) 1705 + 1705 + 1705 + 1705 =

b) 2100 + 2100 + 2100 + 2100 + 2100 =

c) 1007 + 1007 + 1007 =

Bài 3: điền số thích hợp vào ô trống :

m	2	3	4	5	6
124510 X m					

Bài 4: Tính :

a) (12349 + 21351) x 2 – 44123 =

.....

b) 24578 + (10102 + 20108) X 4 =

.....

.....

Bài 3: tính giá trị biểu thức : $46 \times a$ rồi viết vào ô trống

a	11	25	35	44	57
$46 \times a$

Bài 3: Mỗi quyển vở có 24 tờ giấy .Hỏi 61 quyển vở cùng loại có tất cả bao nhiêu tờ giấy ?

.....

Bài 4 : Giải bài toán theo tóm tắt sau :

17 tá bút chì màu đỏ
 56 tá bút chì màu đen } cây

.....

Bài 5 : Một đội đắp đ- ờng , mỗi ngày đắp đ- ợc 97 m .Hỏi trong 12 ngày đắp đ- ợc bao nhiêu m đ- ờng .

Bài 6 : Tìm x biết :

a) $X \times 14 - X \times 4 = 2007$

b) $X \times 261 - X \times 259 = 2428$

Đề luyện tập môn toán lớp 4

Đề 20 : Luyện tập về nhân nhẩm với 11

Bài 1: Tính nhẩm

$25 \times 11 = \dots\dots\dots$ $47 \times 11 = \dots\dots\dots$ $38 \times 11 = \dots\dots\dots$ $55 \times 11 = \dots\dots\dots$

$16 \times 11 = \dots\dots\dots$ $84 \times 11 = \dots\dots\dots$ $37 \times 11 = \dots\dots\dots$ $45 \times 11 = \dots\dots\dots$

Bài 2: Tìm x biết :

a) $X : 11 = 55$

b) $X : 56 = 11$

c) $X : 11 = 67$

Bài 3: Tính nhẩm :

a) $3 \times 45 + 45 \times 8 = \dots\dots\dots$

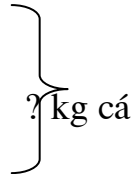
b) $4 \times 48 + 6 \times 48 + 48 = \dots\dots\dots$

.....

Bài 4 : Giải bài toán theo tóm tắt sau :

đã có : 230 kg cá

Thêm : 11 sọt , mỗi sọt 45 kg cá



.....

.....

.....

.....

.....

.....

.....

.....

.....

.....

Bài 5 : Tìm X

a) $(X - 40) : 11 = 43$

b) $(259 - X) : 11 = 16$

.....

.....

.....

Đề luyện tập môn toán lớp 4

Đề 21 : Luyện tập về nhân với số có ba chữ số

Bài 1: đặt tính rồi tính :

354 X 245

157 X 468

456 X 785

605 X 456

.....

.....

.....

.....

.....

Bài 2: Tính :

a) $(145 + 205) \times 320$

b) $(956 - 475) \times 346$

c) $1046 + 425 \times 168$

.....

.....

Bài 3: đúng ghi Đ sai ghi S vào ô trống

$\begin{array}{r} 375 \\ \times \\ \hline 646 \\ \hline 2220 \\ 1500 \\ \hline 2150 \\ \hline 232220 \end{array}$	$\begin{array}{r} 456 \\ \times \\ \hline 204 \\ \hline 1824 \\ 912 \\ \hline 93024 \end{array}$	$\begin{array}{r} 747 \\ \times \\ \hline 406 \\ \hline 4482 \\ 2988 \\ \hline 34362 \end{array}$	$\begin{array}{r} 215 \\ \times \\ \hline 345 \\ \hline 1075 \\ 860 \\ \hline 645 \\ \hline 74175 \end{array}$
<input type="checkbox"/>	<input type="checkbox"/>	<input type="checkbox"/>	<input type="checkbox"/>

Bài 4: Có 375 con gà , mỗi con cần 104 g thóc .Với 38 kg thóc có đủ cho số gà đó không ?

Bài 5 : Viết biểu thức rồi tính giá trị biểu thức đó :

a) Số 465 đ- ợc gấp lên 146 lần rồi cộng với 489 :

b) Số 532 đ- ợc tăng thêm 217 đơn vị rồi nhân với 342

Bài 6 : Tìm X

a) $X : 108 = 537 \times 2$

b) $X : 249 = 723 + 169$

Đề luyện tập môn toán lớp 4

ĐỀ 22 :Tìm số trung bình cộng

Bài 1: Tìm số trung bình cộng của các số sau :

a) 15, 75 , 45

b) 35, 12, 24, 21, 43

Bài 2: Một tổ sản xuất muối thu hoạch trong 5 đợt nh- sau : 45 tạ ; 60 tạ ; 75 tạ ; 72 tạ ; 98 tạ . Hỏi trung bình mỗi đợt thu hoạch đ- ợc bao nhiêu tạ muối .

Bài 3 : Tìm trung bình cộng của các số lẻ bé hơn 9

Bài 4: Một cửa hàng chuyển máy bằng ô tô . Lần đầu có 3 ô tô chuyển 16 máy .Lần sau có 5 ô tô , mỗi ô tô chuyển 24 máy . Hỏi trung bình mỗi ô tô chuyển đ- ợc bao nhiêu máy ?

Đề luyện tập môn toán lớp 4
Đề 23 :Luyện tập tổng hợp

Bài 1: Khoanh vào chữ cái đặt tr-ớc câu trả lời đúng : 7 kg 6 g =?

- A. 76 g B. 706 g C. 7006 g D. 760g

Bài 2 : Tính giá trị của biểu thức :

a) $28 + 4 \times X$ với $X = 6$

b) $48 \times (16 : y)$ với $y = 8$

Bài 3 : Tìm x biết

a) $X + 24 = 14 \times 2$

b) $x - 18 = 20 : 2$

Bài 4 : Trung bình cộng của hai số 9 và a là 7 . Tìm số liền tr-ớc của số a

Bài 5 : Có 6 gói bánh , mỗi gói cân nặng 200 g và 4 gói kẹo, mỗi gói cân nặng 700 g . Hỏi có tất cả bao nhiêu kg bánh kẹo

Đề luyện tập môn toán lớp 4

ĐỀ 24 :Luyện tập tổng hợp

Bài 1 : Khoanh vào chữ đặt tr-ớc câu trả lời đúng: 2 tấn 65 kg =kg

A. 2065

B. 2650

C. 265

D. 2056

Bài 2: Viết số bé nhất có 4 chữ số khác nhau

Bài 3 : Tính :

a) $287 \text{ g} + 169 \text{ g} = \dots\dots\dots$

b) $246 \text{ kg} \times 4 = \dots\dots\dots$

c) $456 \text{ dag} : 3 = \dots\dots\dots$

d) $234 \text{ g} \times 12 = \dots\dots\dots$

Bài 4 : Tìm X biết x là số tròn trăm và $630 < x < 920$

Bài 5 : Một cửa hàng ngày đầu bán đ-ợc 60 kg đ-ờng , ngày thứ hai bán đ-ợc l-ợng đ-ờng bằng $\frac{1}{2}$ l-ợng đ-ờng bán trong ngày đầu , ngày thứ ba bán đ-ợc hơn ngày đầu 30 kg . Hỏi trung bình mỗi ngày cửa hàng bán đ-ợc bao nhiêu kg đ-ờng ?

Đề luyện tập môn toán lớp 4
Đề 25 :Luyện tập tổng hợp

Bài 1: Đọc các số sau và nêu rõ chữ số 8 ở số sau thuộc hàng nào , lớp nào

4 218 403

Bài 2: Viết số thích hợp vào chỗ trống :

a) 87; 88 ; b); 2347; 2348

Bài 3 : Tính :

a) 243 tạ + 17 tạ =..... b) 638 yên – 217 yên =.....

c) 214 tạ x 12 =..... d) 238 tấn : 7 =.....

Bài 4 : Viết số lẻ nhỏ nhất có ba chữ số :

Bài 5 : Tìm 3 số a, b, c, . Biết trung bình cộng của 3 số đó là 369 và a là số có ba chữ số , b là số có 2 chữ số , c là số có 1 chữ số .

Bài 6 : Tìm x biết :

a) $x + 999875 = 999875 + 114$

b) $146\ 285 + x = 548\ 231 + 146\ 285$

Đề luyện tập môn toán lớp 4

Đề 26 : Chia cho số có một chữ số

Bài 1: Đặt tính rồi tính

$79\ 534 : 7$

$406\ 505 : 5$

$89\ 872 : 8$

$260\ 318 : 8$

Bài 2: Một cửa hàng có 278 405 kg gạo . Cửa hàng đã bán đ- ợc $\frac{1}{5}$ khối l- ợng gạo đó . Hỏi cửa hàng còn lại bao nhiêu kg gạo ?

Bài 3: Tính :

a) $8957 - 14\ 462 : 7 + 500$

b) $540\ 720 : 9 : 4 : 2$

Bài 4 tìm y biết y là số tròn chục và $y : 2 < 30$

.....

.....

.....

Đề luyện tập môn toán lớp 4

Đề 27 : Tìm hai số khi biết tổng và hiệu của hai số đó

Bài 1: Tổng hai số là 24 , hiệu hai số là 8 . Tìm hai số đó ?

.....

.....

.....

.....

.....

.....

Bài 2: Viết số thích hợp vào ô trống

a+ b	73	458	1907	2965
a- b	23	270	663	1099
a				
b				

Bài 3: Một mảnh đất hình chữ nhật có chu vi là 72 m . Chiều dài hơn chiều rộng 54 dm .

Tìm chiều dài và chiều rộng của mảnh đất đó ?

.....

.....

.....

.....

.....

.....

.....
.....
Bài 4 : Tổng số học sinh của khối lớp 4 là 160 học sinh . Trong đó số học sinh nữ hơn số học sinh nam là 10 học sinh . Hỏi khối lớp 4 đó có bao nhiêu học sinh nữ và bao nhiêu học sinh nam ?
.....
.....
.....
.....
.....
.....
.....
.....
.....
.....
.....

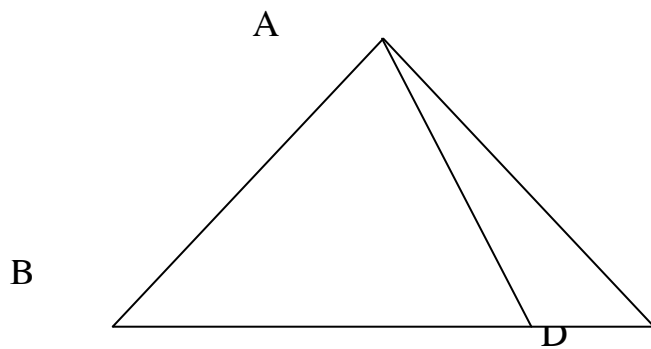
Bài 5 : Trung bình cộng hai số là 100 . hai số đó kém nhau 2 đơn vị . Tìm hai số đó ?
.....
.....
.....
.....
.....
.....
.....
.....
.....
.....
.....

Bài 6 : Tổng số tuổi của hai anh em là 30 tuổi . Tính tuổi mỗi người , biết anh hơn em 6 tuổi ?
.....
.....
.....
.....
.....
.....
.....
.....
.....
.....
.....

Đề luyện tập môn toán lớp 4
Đề 28 : Tìm hai số khi biết tổng và hiệu của hai số
đó

Bài 4 : Trung bình cộng của 2 số là số lớn nhất có hai chữ số . Số lớn hơn số bé 52 đơn vị .
Tìm hai số đó ?

Bài 5 : Viết tất cả các góc nhọn , góc tù , góc bẹt trong hình bên .



Bài 1: Tính

a) $150 : 30 = \dots\dots\dots$ b) $200 : 40 = \dots\dots\dots$ c) $48000 : 600 = \dots\dots\dots$

Bài 2: đặt tính rồi tính :

a) $408 : 12$ b) $5704 : 46$ c) $18088 : 34$ d) $340 : 13$

.....
.....
.....
.....
.....
.....
.....
.....
.....
.....
.....
.....
.....
.....

e) $1790 : 38$ g) $45\ 200 : 34$ i) $8640 : 24$ $7140 : 35$

.....
.....
.....
.....
.....
.....
.....
.....
.....
.....
.....
.....
.....
.....

Bài 3: Cần phải đóng mỗi bao 50 kg xi măng . Hỏi có 2340 kg xi măng thì đóng đ- ợc nhiều nhất bao nhiêu bao xi măng nh- thế và thừa bao nhiêu kg xi măng ?

.....
.....

Bài 5 : Tìm X

a) $X \times 30 = 2340$

b) $39\ 600 : x = 90$

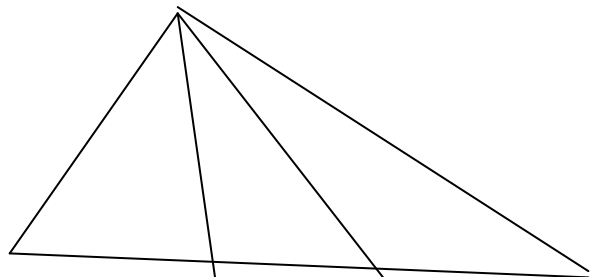
c) $90 : x - 48 : x = 3$

Bài 6 : Một đội sản xuất có 24 ng-ời đ-ợc chia thành 3 tổ . Tổ 1 làm đ-ợc 900 sản phẩm , tổ 2 làm đ-ợc 910 sản phẩm , tổ 3 làm đ-ợc 926 sản phẩm . Hỏi trung bình mỗi ng-ời của đội làm đ-ợc bao nhiêu sản phẩm

Bài 7 : Khoanh vào chữ cái đặt tr-ớc câu trả lời đúng

Trong hình bên có mấy góc nhọn

- A. 7 góc nhọn
- B. 8 góc nhọn
- C. 9 góc nhọn
- D. 10 góc nhọn



Bài 1: đặt tính rồi tính

a) $7692 : 32$

b) $9891 : 48$

c) $5270 : 36$

d) $2566 : 53$

.....
.....
.....
.....
.....
.....
.....
.....
.....
.....

e) $4935 : 43$

g) $9276 : 33$

h) $8556 : 27$

h) $11666 : 38$

.....
.....
.....
.....
.....
.....
.....
.....
.....
.....

Bài 2: Tính giá trị biểu thức :

a) $3517 \times 16 - 49\,372$

b) $45653 + 3454 : 14$

.....
.....
.....
.....

Bài 3 : Một thửa đất hình chữ nhật có nửa chu vi là 70 m . chiều dài hơn chiều rộng 16 m .

Tính diện tích hình chữ nhật đó .

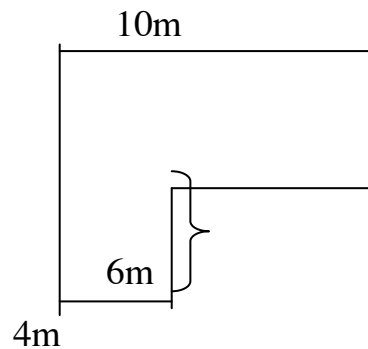
.....
.....
.....
.....

Bài 4: Một bến xe buổi sáng có 1350 lượt hành khách đi. Bến đã điều động 15 chuyến xe và chở hết số khách đó. Hỏi trung bình mỗi xe chở bao nhiêu khách?

Bài 5 : Khoanh vào chữ cái đặt trước câu trả lời đúng :

Chu vi của hình bên là :

- A. 26m
- B. 28m
- C. 36 m
- D. 40m



Hãy giải thích cách làm :

Bài 1: Tính giá trị biểu thức

a) $2403 \times 3 + 12045$

b) $326871 + 117205 \times 12$

c) $4480 : 32 - 52 \times 2$

.....

.....

.....

.....

.....

.....

Bài 2: Tìm x

a) $X \times 30 = 2340$

b) $39600 : X = 90$

c) $X : 234 = 189$

.....

.....

.....

.....

Bài 3: Tìm số trung bình cộng của các số sau : 2001; 2002 ; 2003; 2004; 2005

.....

.....

.....

.....

Bài 4: Tổng hai số là 2870 .nếu viết thêm số 1 vào bên trái số bé thì đ-ợc số lớn . Tìm hai số đó

.....

.....

.....

.....

.....

.....

Bài 1: Phân số nào bằng $\frac{4}{5}$

A. $\frac{12}{20}$

B. $\frac{16}{20}$

C. $\frac{16}{15}$

D. $\frac{16}{25}$

Bài 2: Rút gọn phân số :

$\frac{6}{9} = \dots\dots\dots$; $\frac{4}{14} = \dots\dots\dots$; $\frac{6}{8} = \dots\dots\dots$; $\frac{8}{12} = \dots\dots\dots$; $\frac{27}{36} = \dots\dots\dots$

Bài 3: Viết tất cả các phân số bằng phân số $\frac{3}{4}$ và có mẫu số là số tròn chục có hai chữ số

.....

Bài 4: Tìm x biết :

$\frac{2}{3} = \frac{x}{54}$

$\frac{4}{5} = \frac{68}{x}$

$\frac{x}{17} = \frac{60}{204}$

.....

Bài 5 : Quy đồng mẫu số các cặp phân số sau :

a) $\frac{2}{5}$ và $\frac{3}{4}$

b) $\frac{4}{7}$ và $\frac{5}{6}$

c) $\frac{2}{3}$ và $\frac{3}{4}$

.....

Bài 6 : Quy đồng mẫu số các cặp phân số sau :

a) $\frac{5}{8}$; $\frac{3}{4}$

b) $\frac{9}{10}$; $\frac{4}{5}$

c) $\frac{4}{7}$; $\frac{13}{14}$

Bài 7 : So sánh các phân số trong mỗi cặp sau:

a) $\frac{3}{7}; \frac{4}{7}$

b) $\frac{6}{9}; \frac{1}{3}$

c) $\frac{7}{14}; \frac{16}{28}$

Bài 8 : Sắp xếp các phân số sau theo thứ tự từ bé đến lớn

$\frac{2}{3}; \frac{3}{4}; \frac{3}{5}$

Đề luyện tập môn toán lớp 4

Đề 33 : Luyện tập chia cho số có ba chữ số

Bài 1: Đặt tính rồi tính

$11086 : 483$

$8547 : 316$

$64722 : 161$

$6726 : 177$

.....

.....

.....

.....

.....

.....

Bài 2: Tìm x

$60720 : X = 151$

$X \times 247 = 117\,325$

.....

.....

.....

Bài 3: Khi biết $6942 : 216 = 32$ thì biết phép chia

$6942 : 216$ có thương làvà có số dư là

Bài 4: điền dấu thích hợp vào ô trống

$645 : 215 + 7$

$1575 : 215$

$41535 : 195$

$0 - 187$

.....

.....

.....

.....

.....

Bài 5 : Tính

a) $99999 - 777 : 21 \times 63$

b) $4763 + 1104 : 23 - 60$

.....

.....

.....

.....

Bài 6 : Hai cửa hàng cùng nhận về 7420 m vải . Cửa hàng thứ nhất trung bình mỗi ngày bán được 265 m vải , cửa hàng thứ hai trung bình mỗi ngày bán được 371 m vải . Hỏi Cửa hàng nào bán hết số vải đó sớm hơn và sớm hơn bao nhiêu ngày ?

.....

.....

.....

.....

.....

.....

.....

.....

.....

.....

.....

.....

.....

.....

.....

.....

.....

.....

.....

.....

.....

Bài 8 : Tìm x

a) $(X - 247) \times 213 = 41535$

b) $(X + 1) \times 162 = 1944$

.....

.....

.....

.....

.....

.....

.....

.....

.....

.....

.....

.....

.....

.....

.....

.....

.....

.....

.....

.....

Bài 1: Đặt tính rồi tính

16573×27

45365×19

$155986 : 23$

$126714 : 49$

.....

.....

.....

.....

.....

.....

.....

.....

.....

Bài 2: Tính :

$a) (49 + 35) : 7$

$b) (126 - 30) : 12$

$c) 4980 : (15 \times 4)$

.....

.....

.....

.....

.....

Bài 3: Quy đồng mẫu số các cặp phân số sau :

$a) \frac{5}{6}; \frac{3}{4}$

$b) \frac{7}{8}; \frac{8}{9}$

$c) \frac{9}{10}; \frac{4}{5}$

.....

.....

.....

.....

.....

.....

.....

.....

Bài 4: Rút gọn các phân số sau thành phân số tối giản

Đề ôn tập hè môn toán lớp 3

Bài 1: Đặt tính rồi tính

a) 304×3

193×4

108×8

c) $596 : 4$

$680 : 5$

$606 : 6$

Bài 2: Chuyển phép cộng thành phép nhân rồi đặt tính rồi tính:

a) $2116 + 2116 + 2116$

b) $2015 + 2015 + 2015 + 2015$

c) $1006 + 1006 + 1006 + 1006 + 1006 + 1006 + 1006$

Bài 3: Ba cái bút chì giá 6300 đồng và hai cái l- ọc giá 8000 đồng. Hỏi giá một cái l- ọc nhiều hơn một cái bút chì là bao nhiêu tiền?

Bài 4: Tính chu vi v- òn tr- ờng hình chữ nhật có chiều rộng là 70m, chiều dài hơn chiều rộng 20m.