

Bài 1: Nối ô chữ:

a. Ghế lá

Mẹ mua nhảy dây

Tỉa trái ổi

Bé Hà gỗ

b.Mẹ may bơi lội

Bầy cá áo mới

Cây táo qua khe đá

Sưởi chày thổi xôi đỗ

Bà nội sai trĩu quả

Bụi tre

Bài 2: Chọn âm hay vần thích hợp điền vào chỗ trống:

a. **g** hay **gh**:

.....àô, bànế, ...ồề,i nhớ

b. **k, c, q**:

tổua. Coniến,ây gỗ, phớổ

c. **ua** hay **□a**:

ca m....., bò s....., cà ch.....; quả d.....

d. **ay** hay **ây**:

sưởi ch.....; x..... nhà; đi c.....; c..... cái

ôn tập toán lớp 1

1. Đặt tính rồi tính:

87- 45 93- 62 77- 22 68- 43 55- 32 49- 36

.....
.....
.....
.....
.....
.....

67- 40 93- 80 78 - 50 46- 30 85 - 82 99 - 90

.....
.....
.....
.....
.....
.....

29 - 6 34 - 4 68-7 72- 2 99 - 5 86 - 4 78 - 6

.....
.....
.....

2. Điền dấu >, < =

82 – 41..... 53 - 12 87- 36 42- 21 63- 20..... 97- 53
99 - 89..... 27- 15 96- 74.....36 - 24 68- 21 59 - 12
88 - 48..... 75- 22 86 - 80 19- 3 75- 25..... 63 -33
70 - 2090- 40 80-70..... 30- 20 50 - 10..... 90 - 80

3. Lớp 1B có 36 bạn, trong lớp có 24 bạn gái. Hỏi lớp có bao nhiêu bạn trai?

.....
.....

.....
4. Một quyển truyện có 80 trang. Tùng đã đọc đ- ợc 30 trang. Hỏi còn bao nhiêu trang Tùng ch- a đọc?
.....
.....

5. Gà mẹ ấp 18 quả trứng. Đã nở 8 chú gà con. Hỏi còn lại mấy quả trứng ch- a nở?
.....
.....

6. Trên cành cao có 25 con chim đậu, cành d- ới có 11 con chim đậu. Có 4 con chim bay từ cành trên xuống cành d- ới đậu. Hỏi:

- a. Cành trên còn lại bao nhiêu con chim đậu?
 - b. Cành d- ới còn bao nhiêu con chim đậu?
-
.....
.....

7. Đoạn đ- ờng dài 78 mét. Em bé đã đi đ- ợc 50 mét. Hỏi bé còn phải đi bao nhiêu mét nữa thì tới nơi?
.....
.....
.....

8. a. Một tuần lễ có mấy ngày?.....

b. Viết tên các ngày trong tuần lễ bắt đầu từ thứ hai
.....
.....
.....

c. Gạch chân những ngày em không đến tr- ờng?
.....
.....
.....

9. Viết tên những ngày em đi học trong một tuần?
.....
.....
.....

b. Viết tên các ngày em không đi học?

10. Một tuần lễ có hai ngày em không tới trường. Hỏi một tuần lễ em tới trường mấy ngày?

11. Mỗi tuần em đi học 5 ngày. Hỏi một tuần có mấy ngày em không đi học?

12. Trên tờ lịch ngày hôm nay ghi: tháng..., ngày trong tháng là ngày thứ..., hôm nay là thứ..... trong tuần.

13. Đọc tờ lịch ngày hôm nay, em ghi: Ngày mai là ngày thứ..... của tuần, ngày thứ..... của tháng, tháng này là tháng thứ..... của năm.

14. Hôm nay là ngày 17 của tháng và là ngày thứ t-

Ngày mai là ngày của tháng và là ngày thứ

Ngày kia là ngày của tháng và là ngày thứ

Hôm qua là ngày của tháng và là ngày thứ

Hôm kia là ngày..... của tháng và là ngày thứ

15. Ngày 16 của tháng 7 năm 2001 là ngày thứ hai của tuần

Ngày 17 tháng 7 năm 2001 là ngày thứ của tuần

Ngày 18 tháng 7 năm 2001 là ngày thứ của tuần

Ngày 19 tháng 7 năm 2001 là ngày thứ của tuần

Ngày 20 tháng 7 năm 2001 là ngày thứ của tuần

16. Hôm nay là ngày Chủ nhật. Mấy ngày nữa thì đến ngày chủ nhật liền sau? Vì sao?

17. Hôm nay là thứ năm. Mấy ngày trước đây là thứ năm liền trước? Vì sao?

18. Ngày 5 tháng 8 là ngày chủ nhật.

Ngày 4 tháng 8 là ngày thứ.....

Ngày 3 tháng 8 là ngày thứ.....

Ngày 2 tháng 8 là ngày thứ.....

Ngày 1 tháng 8 là ngày thứ.....

19. Lúc 8 giờ kim ngắn chỉ vào số....., kim dài chỉ vào số.....

Lúc 2 giờ kim ngắn chỉ vào số....., kim dài chỉ vào số.....

Lúc 11 giờ kim ngắn chỉ vào số....., kim dài chỉ vào số.....

Lúc 9 giờ kim ngắn chỉ vào số....., kim dài chỉ vào số.....

Lúc 12 giờ kim ngắn chỉ vào số..... , kim dài chỉ vào số.....

20. Số gồm 3 chục và 0 đơn vị là 30

Số gồm 4 chục và 0 đơn vị là

Số gồm 5 chục và 0 đơn vị là

Số gồm 9 chục và 0 đơn vị là

Số gồm 7 chục và 0 đơn vị là

21. Hình bên có:

- Số hình vuông là.....

- Số hình tam giác là.....

22. Cho các số: 5, 11, 9, 97, 76, 54, 23, 55

a. Viết các số theo thứ tự từ nhỏ đến lớn.....

b. Viết các số theo thứ tự từ lớn đến nhỏ

23. Tìm một số biết rằng lấy số đó cộng với 15, đ- ợc bao nhiêu trừ đi 10 thì đ- ợc kết quả là 25.

.....
.....
.....

24. Trong một tháng ngày 12 trong tháng là thứ hai. Hỏi ngày 19 trong tháng đó là thứ mấy?

25. Đàn gà có 65 con. Ng- ời ta đã bán đi một số gà thì còn lại 23 con gà. Hỏi ng- ời ta đã bán đi bao nhiêu con gà?

Bài 1: Chọn âm hay vần thích hợp điền vào chỗ trống:

e. **g hay gh:**

.....àô, bànế, ...ôề,i nhớ

f. **k,c,q:**

tổua. Coniến,ây gỗ, phốổ

g. ua hay a:

ca m....., bò s....., cà ch.....; quả d.....

h. ay hay ây:

suối ch.....; x..... nhà; đi c.....; c..... cái

Bài 2: Đặt câu với từ: yêu th- ơng, bạn bè.

.....
.....
.....

Bài 3: Tìm các từ có tiếng: thân

.....
.....
.....

Bài 4: Trong gia đình em, em yêu ai nhất? Hãy viết khoảng 5 câu giới thiệu về ng- ời đó.

.....
.....
.....
.....
.....

5. Gạch d- ới từ viết sai chính tả:

Ng- ợng ngiụ	quai xách	cong queo
Quai sách	quả lịu	ngập ngừng

Ôn tập cuối năm Lớp 1

bài 1 : Điền dấu + , - thích hợp vào ô trống:

$12 \square 5 \square 3 = 14$

$32 \square 30 \square 2 = 4$

$14 \square 4 \square 1 = 11$

$45 \square 20 \square 4 = 69$

$16 \square 3 \square 2 = 17$

$84 \square 10 \square 3 = 71$

bài 2 :

Tìm 1 số biết rằng lấy số đó cộng với 5 rồi trừ đi 8 đ- ợc kết quả là 11?

bài 3 : Điền dấu > , < , = thích hợp vào ô trống:

$12 + 6 \square 6 + 4 + 7$

$30 + 40 \square 80 - 20$

$15 + 0 \square 15 - 0$

$90 - 50 \square 10 + 40$

$18 - 5 \square 14 - 4 + 5$

$70 - 40 \square 90 - 60$

$0 + 10 \square 10 + 0$

$30 + 20 \square 10 + 40$

bài 4 :

Nối phép tính với số thích hợp:

$80 - 60$

$20 + 30$

$20 \square 60$

$30 + 30$

$10 + 40$


$50 \square 70 \square 50 + 20$

$60 - 40$

$90 - 30$

$80 - 10$

bài 5 : số ?

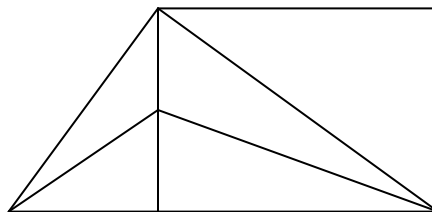


$32 + 46 < \square < 22 + 40$

bài 6 : Điền số thích hợp vào ô trống sao cho cộng các số theo hàng ngang , theo cột dọc , theo đ- ờng chéo của hình vuông có các kết quả đều nh- nhau:

		14
	23	
32	14	

bài 7 :



Hình vẽ trên cótam giác.

Đó là các tam giác

.....

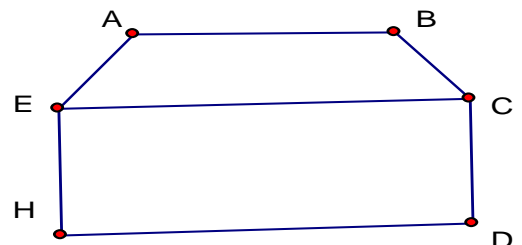
.....

.....

.....

bài 8 :

Đọc tên các điểm đoạn thẳng có trong hình vẽ sau:



Cóđiểm

Là các điểm.....

.....

Có đoạn thẳng

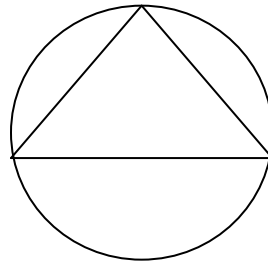
Là các đoạn thẳng

.....

.....

bài 9 :

Vẽ 5 điểm sao cho có 3 điểm ở trong đ- ờng tròn và 4 điểm ở ngoài hình tam giác.



Bài 10 *:Con gà mái của bạn An sau 2 tuần 1 ngày đã đẻ đ- ợc 1 số trứng. bạn An tính rằng cứ 3 ngày nó đẻ đ- ợc 2 quả trứng. Hỏi con gà đó đã đẻ đ- ợc mấy quả trứng ?

.....

.....

.....

.....

.....

Bài 11 *:Hè vừa rồi ,bạn Bình về thăm ông bà nội đ- ợc 1 tuần 2 ngày và thăm ông bà ngoại đ- ợc 1 tuần 3 ngày . Hỏi bạn Bình đã về thăm ông bà nội ngoại đ- ợc bao nhiêu ngày ?

.....

.....

.....

.....

Bài 12 *: An có ít hơn Bình 4 hòn bi, Bình có ít hơn Căn 3 hòn bi. Hỏi Căn có mấy hòn bi, biết rằng An có 5 hòn bi .

Bài 12 *:Số tuổi của An và Ba cộng lại bằng số tuổi của Lan và của H- ơng cộng lại. An nhiều tuổi hơn H- ơng. Hỏi Ba nhiều tuổi hơn hay ít tuổi hơn Lan ?

Bài 13 *: Anh có 15 hòn bi đỏ và 10 hòn bi đen. Anh cho em 5 hòn bi . Hỏi anh còn bao nhiêu hòn bi?

h 1:

h 2:

Bài 14 *:

Điền số thích hợp vào chỗ trống:

} ...3 7
: : ::
}) t }

Bài 15*: Lớp 2 A có 15 học sinh giỏi. Lớp 2 B có ít hơn lớp 2 A là 4 học sinh giỏi. Lớp 2 C có ít hơn lớp 2 A là 3 học sinh giỏi. Tính số học sinh giỏi của 3 lớp đó ?

Bài 15*: Nhà bạn Nam nuôi vịt , ngan , ngỗng. Có 36 con vịt, số ngan ít hơn số vịt 6 con, số ngỗng ít hơn số ngan 10 con. Hỏi nhà bạn Nam có tất cả bao nhiêu con vịt, con ngan ?

Bài 16*: Có 3 loại bi màu xanh, đỏ, vàng đựng trong túi. Biết rằng toàn bộ số bi trong túi nhiều hơn tổng số bi đỏ và bi vàng là 5 viên. Số bi xanh ít hơn số bi vàng là 3 viên và nhiều hơn số bi đỏ là 4 viên. Hỏi trong túi có bao nhiêu viên bi ?

Bài 17*: Điền dấu <, >, = vào ô trống:

$23 + 23 - 11 \quad \square \quad 22 + 22 - 10$

$56 + 21 - 15 \quad \square \quad 21 + 56 - 15$

$44 + 44 - 22 \quad \square \quad 46 + 41 - 26$

Bài 18*: Cho số có 2 chữ số, mà chữ số hàng chục thì lớn hơn chữ số hàng đơn vị là 5. Tính tổng 2 chữ số của nó .

Bài 19 : Nối các điểm dưới đây để được 5 đoạn thẳng sao cho các đoạn thẳng không cắt nhau:

A

B

C

D

Bài 20 : Em hãy nghĩ một số nào đó từ 1 đến 7 . Em cộng số đó với 3 , được bao nhiêu đem trừ đi 1 rồi lại trừ tiếp số đã nghĩ . Kết quả cuối cùng bằng 2, có đúng không ?

Giải

Bài 21: Hùng hỏi Dũng : “ Em bé của bạn mấy tuổi rồi ? ” Dũng đáp “ Nếu bỏ chữ số là số nhỏ nhất có một chữ số ở số nhỏ nhất có 2 chữ số thì được tuổi em mình ”. Hỏi em bé của Dũng mấy tuổi?

Giải

22: Năm khoe với Bốn “ Ba năm nữa thì mình có số tuổi bằng số lớn nhất có một chữ số”. Hỏi bạn n mấy tuổi ?

Giải

23: Hải nói với Hà “ Chị mình bảo tết này thì tuổi chị mình bằng số lớn nhất có một chữ số”. Hà nói n chị mình thì lại bảo , tết này chị còn thiếu 1 tuổi nữa thì bằng số nhỏ nhất có hai chữ số”. Chị của và chị của Hải ai nhiều tuổi hơn?

Giải

24: Chú của bạn Tuấn hỏi bạn Tuấn “ Năm nay cháu học lớp mấy rồi?”. Tuấn đáp “ Lấy số nhỏ t có hai chữ số trừ đi số lớn nhất có một chữ số thì ra lớp cháu đang học”. Vậy Tuấn học lớp mấy ?

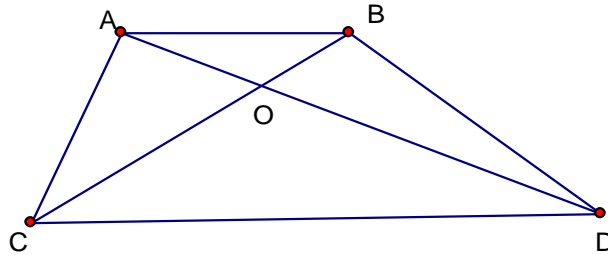
Giải

Bài 25: Trên cành cao có 25 con chim đậu, cành d- ới có 11 con chim đậu. Có 4 con chim bay từ cành trên xuống cành d- ới đậu. Hỏi cành trên còn lại bao nhiêu con chim đậu, cành d- ới còn lại bao nhiêu con chim đậu?

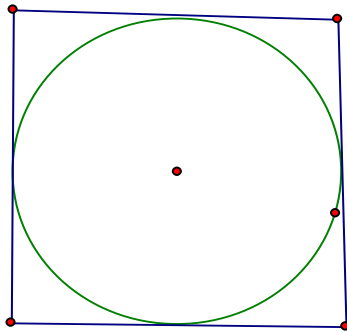
26: Hình vẽ bên có bao nhiêu tam giác? bao nhiêu đoạn thẳng? kể tên?

....đoạn thẳng :

....tam giác :



Bài 27: Vẽ 5 điểm trong đó có 3 điểm ở ngoài hình tròn và có 4 điểm ở ngoài hình vuông



Bài 27:

Với ba chữ số 3,2,5 có thể viết được bao nhiêu số có 2 chữ số khác nhau? Hãy viết các số đó

Bài 28 :

Với ba chữ số 0,2,5 có thể viết được bao nhiêu số có 2 chữ số khác nhau ? Hãy viết các số đó

Bài 29 : Tìm tất cả các số có 2 chữ số với 2 chữ số giống nhau

Bài 30 : Nối hai phép tính có cùng kết quả với nhau

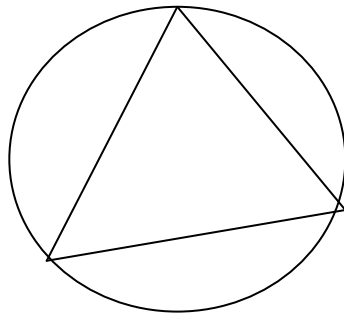
$97 - 24$	$43 + 24$	$35 + 54$
$14 + 75$	$12 + 61$	$88 - 21$

Bài 31 : Mẹ đi chợ về lúc 8 giờ sáng , bố đi làm về lúc 11 giờ . Hỏi bố với mẹ ai đi về nhà sớm hơn và sớm hơn người kia mấy giờ ?

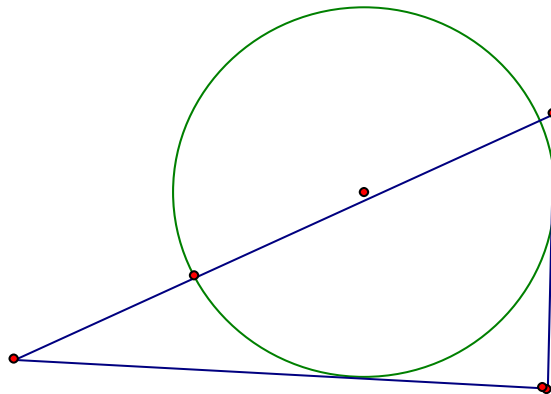
Bài 32 : Hùng đi học lúc 6 giờ sáng , Dũng đi học lúc 7 giờ sáng .Hỏi ai đi học muộn hơn ?

Đi muộn hơn bạn kia mấy giờ ?

Bài 33 : Vẽ 5 điểm sao cho có 3 điểm ở trong hình tròn và có 4 điểm nằm ngoài hình tam giác



Bài 34 : Vẽ 5 điểm ở trong hình tròn và ở ngoài tam giác



Bài 35 : Cho các số 0 , 10 ,20, 30 ,40 ,50,60, 70 ,80 ,90 . Hãy tìm các cặp hai số sao cho khi cộng hai số đó thì có kết quả bằng 70.

Bài 36 : Cho các số 0 , 10 ,20, 30 ,40 ,50,60, 70 ,80 ,90 . Hãy tìm các cặp hai số sao cho khi lấy số lớn trừ đi số bé thì có kết quả là 50

Bài 37 : Có đoạn thẳng

Tên các đoạn thẳng đó là :.....

.....



Bài 38 :

Bình hỏi Minh : “ Năm nay chị bao nhiêu tuổi ? ” Minh đáp : “ Tuổi mình nhiều hơn 5 tuổi nhưng ít hơn 7 tuổi . Mình kém chị mình 4 tuổi ” Hỏi chị của Minh năm nay bao nhiêu tuổi ?

Bài 39 : Tìm 5 số khác nhau mà khi cộng lại có kết quả bằng 10

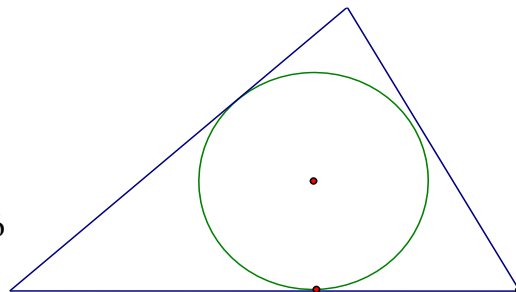
Bài 40 : Một nhóm học sinh đi đến trường . Bạn đi đầu đi trước 2 bạn , bạn đi giữa đi giữa 2 bạn , bạn đi sau đi sau 2 bạn , Hỏi nhóm đó có mấy bạn ?

Bài 41 : Tìm hai số mà khi cộng lại thì bằng số nhỏ nhất có 2 chữ số . Nếu lấy số lớn trừ đi số bé thì kết quả cũng bằng số nhỏ nhất có 2 chữ số

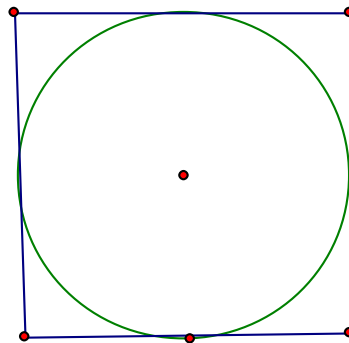
Bài 42 : Tìm hai số mà nếu đem cộng lại thì có kết quả bằng số lớn nhất có một chữ số .Nếu lấy số lớn trừ số bé thì kết quả cũng bằng số lớn nhất có một chữ số

Bài 43 : Vẽ 4 điểm ở trong hình tam giác , trong đó có 2 điểm ở ngoài hình tròn

Bài 44: Hãy vẽ 5 điểm trong đó
điểm ở trong hình vuông



có 3 điểm ở ngoài hình tròn và 4



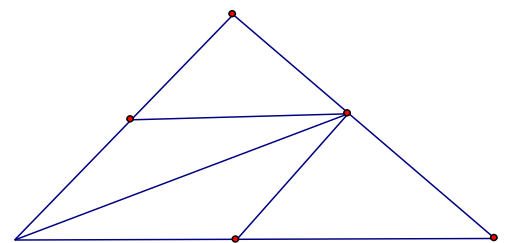
Bài 45 : Nếu mẹ cho Dũng thêm 3 viên kẹo thì Dũng có tất cả 10 viên kẹo . Hỏi Dũng có tất cả bao nhiêu viên kẹo ?

Bài 46 : Lan cho Hồng 5 quyển sách , Lan còn lại 12 quyển sách .Hỏi Lan có bao nhiêu quyển sách

Bài 47 : Toàn có một số bi xanh và đỏ . Biết rằng số bi của Toàn bé hơn 10 . Số bi đỏ nhiều hơn số bi xanh là 7 . Hãy tính xem Toàn có bao nhiêu bi xanh , bao nhiêu bi đỏ ?

Bài 48 : Hình vẽ d- ới đây có bao nhiêu hình tam giác

Cóhình tam giác
Là những tam giác
.....
.....
.....



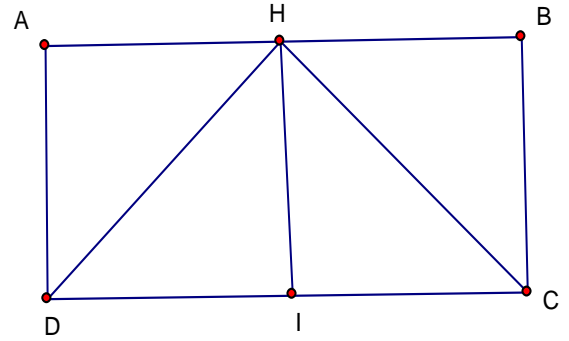
Bài 49 : Hình vẽ d- ới đây có bao nhiêu điểm , bao nhiêu đoạn thẳng ?

Cóđiểm
 Là những đoạn thẳng

.....

Cóthẳng
 Là những đoạn thẳng.....

.....



Bài 50 :

hãy chục liền tr- ớc	hãy chục đã biết	hãy chục liền sau
	20	
	30	
	40	
	50	
	60	
	70	
	80	
	90	

1. Tính

$17 + 2 =$

$12 + 6 =$

$19 + 0 =$

$17 - 3 =$

$15 - 5 =$

$18 - 3 =$

$14 + 5 - 2 =$

$17 - 2 + 3 =$

$13 - 3 - 6 =$

$10 + 7 - 4 =$

$13 - 2 + 5 =$

$3 + 7 + 9 =$

2. Viết các số 7; 14; 20; 16; 8

a) Theo thứ tự từ lớn đến bé:

b) Theo thứ tự từ bé đến lớn:

3. Giải bài toán theo lời tóm tắt:

Tóm tắt

Bài giải

Đoạn thẳng AB: 7 cm

Đoạn thẳng BC: 2 cm

Cả hai đoạn thẳng: ...cm?

4. a) Khoanh tròn vào chữ cái đúng trước số bé nhất:

A. 28

B. 12

C. 33

D. 47

b) Khoanh tròn vào chữ cái đúng trước số lớn nhất:

A. 82

B. 21

C. 33

D. 7

c) Khoanh tròn vào chữ cái đúng trước số có hai chữ số khác nhau:

A. 33

B. 55

C. 98

D.11

d) Khoanh tròn vào chữ cái đúng trước số lớn nhất có hai chữ số khác nhau

A. 98

B. 10

C. 99

D.11

1. Viết (theo mẫu)

Viết số	Đọc số
30	Ba mươi
50	
70	
90	

số	số
mười	
hơn mười	
mười	
đi	

b)

Sáu chục: 60

Hai chục: ...

Tám chục: ...

Bốn chục: ...

Chín chục: ...

Ba chục: ...

Một chục: ...

Bảy chục: ...

Năm chục: ...

2.Số tròn chục?

--	--	--	--	--	--	--

3.Điền dấu <, > = vào chỗ ... cho đúng.

10 ... 30

50 ... 40

60 ... 40

80 ... 70

60 ... 80

30 ... 10

70 ... 70

70 ... 40

50 ... 50

70 ... 60

4.Số?

20 < ...

30 > ...

20 > ...

60 < ... < 80

... = 20

70 > ...

90 = ...

40 > ... > 20

5. Khoanh tròn vào chữ cái đúng trước số tròn chục:

A. 40

C. 44

E. 11

H. 93

K. 66

B. 35

D. 80

G. 20

I. 60

L. 33

6. Nhà em có 1 chục cái đĩa, Mẹ mua thêm 20 cái đĩa nữa. Hỏi nhà em có tất cả bao nhiêu cái đĩa?

Tóm tắt

Bài giải

1 chục cái đĩa = (cái đĩa)

Có: .. cái đĩa

Thêm: ... cái đĩa

Có tất cả: ... cái đĩa *Đáp số:*

7. Đặt tính rồi tính

50 + 30

60 + 20

30 + 60

40 + 40

70 + 10

.....

.....

.....

.....

.....

.....

.....

.....

.....

.....

.....

.....

.....

.....

.....

1. Tính nhẩm:

30 + 40 =

50 + 20 =

30 + 20 + 40 =

40 + 30 =

20 + 50 =

50 + 30 + 10 =

20 cm + 30 cm =

40 cm + 0 cm =

10 cm + 50 cm =

2. Bình có 30 bút chì, An cho Bình 20 bút chì nữa. Hỏi Bình có tất cả bao nhiêu bút chì?

Tóm tắt

Bài giải

.....
.....
.....

3. Số?

$70 + \dots = 90$

$\dots + 50 = 80$

$40 + 20 + \dots = 70$

5. Nối các ô có kết quả giống nhau ở dòng trên với dòng dưới

$70 + 10$	$40 + 30$	50	$20 + 20$	40	90	$40 + 10$
-----------	-----------	------	-----------	------	------	-----------

$20 + 50$	80	$20 + 20 + 10$	60	$30 + 10$	50
-----------	------	----------------	------	-----------	------

4. Viết tiếp vào chỗ ... (theo mẫu)

Số 70 gồm 7 chục và 0 đơn vị.

Số 50 gồm ... chục và ... đơn vị.

Số ... gồm 6 chục và 0 đơn vị.

Số tròn chục liền trước của 30 là 20.

Số tròn chục liền trước của 50 là ...

Số tròn chục liền trước của ... là 80.

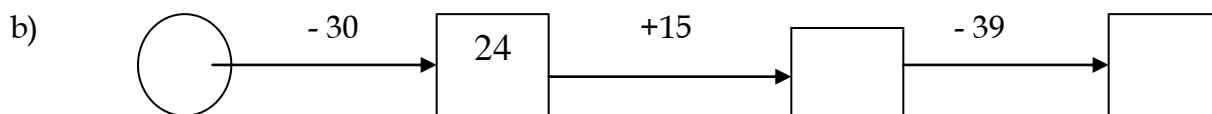
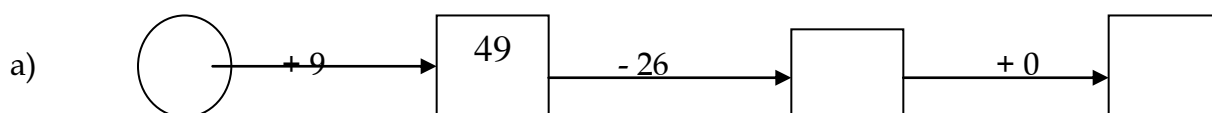
Ôn tập toán lớp 1

ĐỀ 1:

Bài 1 :

$<$ $>$ $=$	$1 + 6 + 11$	<input type="checkbox"/>	$2 + 14 + 2$
	$22 + 2 + 3$	<input type="checkbox"/>	$5 + 20 + 1$
	$62 + 15 - 30$	<input type="checkbox"/>	$62 + 30 - 42$

Bài 2 : Số ?



Bài 3 :

Điền dấu (+, -) thích hợp vào ô trống

39 38 90 $61 = 30$

Bài 4 :

Bạn Ngọc có 47 viên bi , bạn Ngọc có nhiều hơn bạn Hoàng 15 viên bi . Hỏi cả 2 bạn Ngọc và Hoàng có tất cả bao nhiêu viên bi ?

Bài 5 :

Viết các số có 2 chữ số mà số hàng chục hơn số hàng đơn vị là 5

Bài 6 :

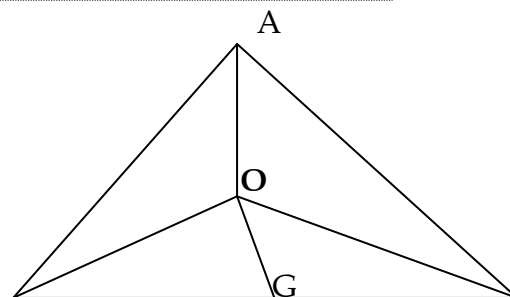
Tìm số liền tr- ớc của số bé nhất có 2 chữ số

Bài 7 :

Hình vẽ bên cóđiểm

Cótam giác

Cóđoạn thẳng



B



C

Ôn tập toán lớp 1

Đề 2 :

Bài 1 : Tính

$$4 + 40 - 20 =$$

$$94 - 43 + 15 =$$

$$28 + 30 - 57 =$$

$$48 - 16 - 22 =$$

Bài 2 : số ?

a) $\square - 20 + 40 = 48$

b) $37 - \square + 30 = 56$

Bài 3 :

<
>
=

$$28 + 10 \square 30 + 7$$

$$43 - 33 \square 20 - 10$$

$$93 - 33 \square 50 + 11$$

$$7 + 31 \square 99 - 59$$

Bài 4 : Cho các chữ số 6 và 5 . Hãy viết tất cả các số có 2 chữ số . Mỗi chữ số chỉ viết 1 lần trong mỗi số?

Bài 5 : Lớp 1 A có 20 bạn gái , số bạn trai nhiều hơn số bạn gái là 4 học sinh . Hỏi lớp 1 A có bao nhiêu học sinh nam ?

Bài 6 :

Hình vẽ bên có :

Cóđiểm

là các điểm

Cótam giác

là các tam giác

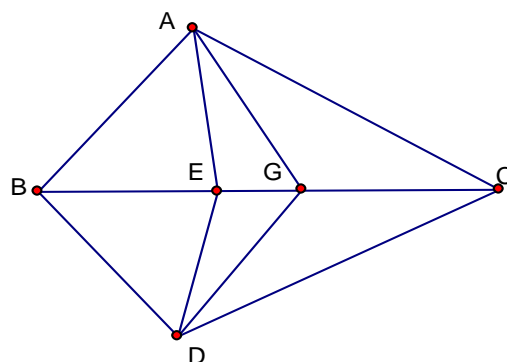
.....

.....

Cóđoạn thẳng

là các đoạn thẳng

.....



Bài 7 :

Viết tất cả các số có 2 chữ số biết rằng chữ số hàng đơn vị hơn chữ số hàng chục là 4



Ôn tập toán lớp 1

Đề 3 :

Bài 1 : Viết số bé nhất có 2 chữ số

Viết số lớn nhất có 2 chữ số khác nhau.....

Bài 2 : số ?

$$11 + \square + 37 = 99$$

$$62 - \square + 46 = 88$$

$$27 + 51 - \square = 64$$

Bài 3 : Tìm 1 số biết rằng số đó trừ đi 20 rồi cộng với 39 thì đ- ợc kết quả bằng 59

.....

Bài 4 : Tổ em có 12 bạn , trong đó có 5 bạn gái . Hỏi số bạn trai tổ em nhiều hơn số bạn gái là bao nhiêu ?

.....

.....

.....

.....

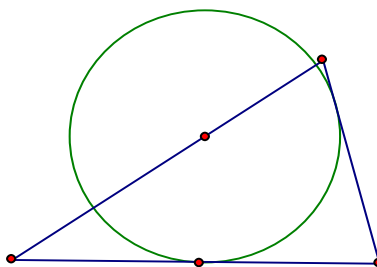
.....

.....

Bài 5 : Viết các số có 2 chữ số mà các số hàng chục hơn các số hàng đơn vị là 8

.....

Bài 6 : Vẽ 5 điểm ở trong tam giác và ở ngoài hình tròn



Ôn tập toán lớp 1

Đề 4 :



Hã t [^] n
Líp
ŞiÓm :

Bài 1 : Điền số thích hợp vào ô trống :

Số liền tr- ớc	Số đã biết	Số liền sau
----------------	------------	-------------

	67	
	42	

Bài 2 : Điền dấu > , < , =

$15 + 33 \square 65 - 25$

$95 - 15 \square 40 + 4$

$81 + 17 \square 95 + 4$

$32 + 15 \square 93 - 83 - 40$

Bài 3 : Số ?

$28 + 10 - \square = 13$

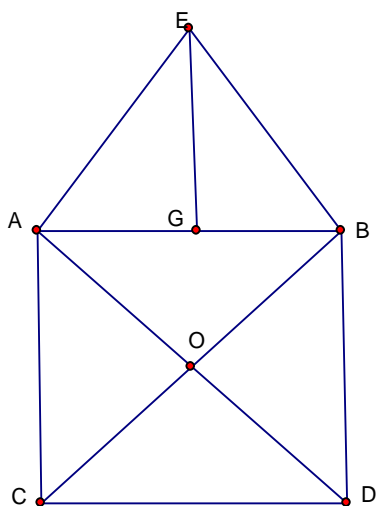
$43 + \square - 56 = 12$

$\square - 21 + 12 = 82$

$\square - 56 = 0$

Bài 4 : Bạn Trinh có 24 viên bi .Bạn Lâm có ít hơn bạn Trinh 3 viên bi . Hỏi cả 2 bạn có bao nhiêu viên bi ?

Bài 5 :



* Hình vẽ bên có..... điểm
 là các điểm

* Có đoạn thẳng
 là các đoạn thẳng

* Có hình vuông

* Có tam giác
 là các tam giác

Ôn tập toán lớp 1

Đề 5 :

Bài 1 : tính

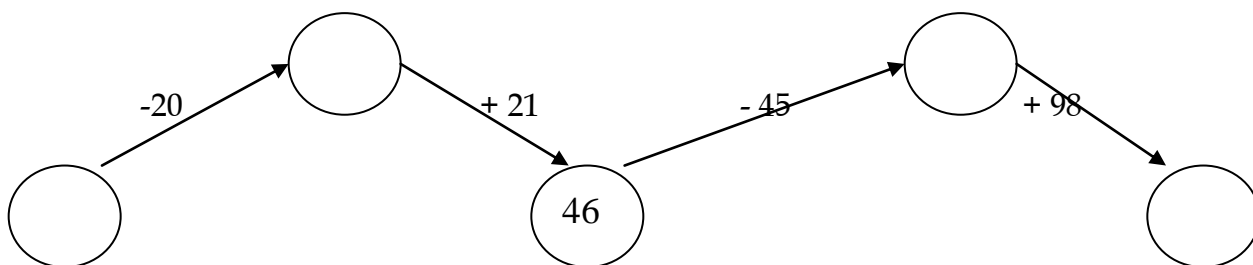
$$74 - 34 + 10 =$$

$$53 + 15 - 28 =$$

$$60 + 10 - 50 =$$

$$90 + 9 - 98 =$$

Bài 2 : số



Bài 3 :

- a) Viết số lớn nhất có 2 chữ số khác nhau :
- b) Viết số nhỏ nhất có 2 chữ số giống nhau :

Bài 4 :

Tìm số liền tr- ớc của số lớn nhất có 1 chữ số :

.....
.....

Bài 5 :

Tìm 2 số sao cho khi cộng lại đ- ợc kết quả là 8 và lấy số lớn trừ đi số bé có kết quả bằng 4

.....
.....

Bài 6 : Trong ô tô thứ nhất có 21 hành khách . Đến một bến có 6 ng- ời lên và 5 ng- ời xuống xe . Hỏi trong ô tô sau lúc đó có bao nhiêu hành khách ?

.....
.....

7:

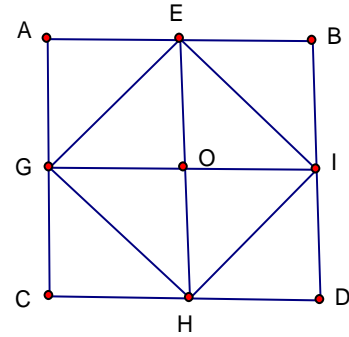
h vẽ bên có :

.....hình vuông

.....tam giác

.....điểm

.....đoạn thẳng



tập toán lớp 1

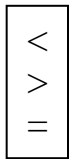
6:

Bài 1:

a) Viết số liền sau của các số sau : 38, 64, 79, 99, 0

b) Viết số liền tr- ớc của các số sau : 69, 68, 80, 1, 100

Bài 2 :



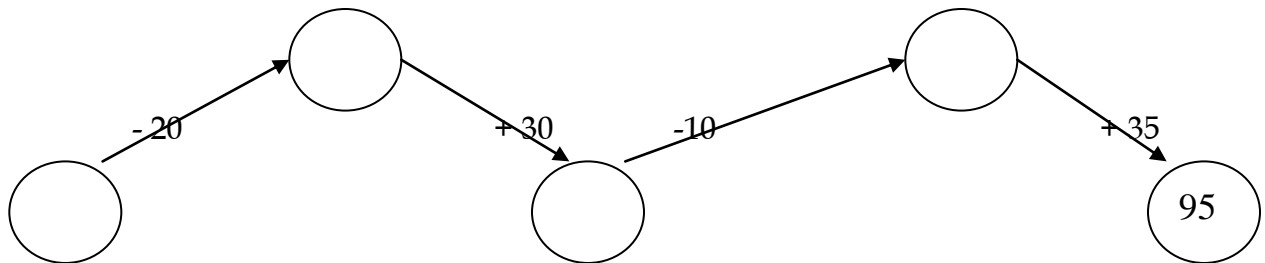
$61 + 37 \square 99 - 1$

$24 + 15 \square 31 + 5$

$60 + 30 \square 99 - 1$

$62 - 12 \square 32 + 11$

Bài 3 : Số ?



Bài 4 : Có 10 que diêm , hãy xếp thành 3 hình vuông ?

Bài 5 : Một thanh gỗ dài 98 cm , lần thứ nhất bố em c- a bớt đi 2 cm , lần thứ 2 c- a bớt đi 5cm . Hỏi thanh gỗ còn lại dài bao nhiêu cm ?

Ôn tập toán lớp 1

Đề 7 :

Bài 1:

Sắp xếp các số sau: 68, 49, 56, 23, 81, 90.

- a) Theo thứ tự từ lớn đến bé
- b) Theo thứ tự từ bé đến lớn

Bài 2: Số ?

$$\square + 24 - 83 = 12$$

$$69 - \square + 10 = 50$$

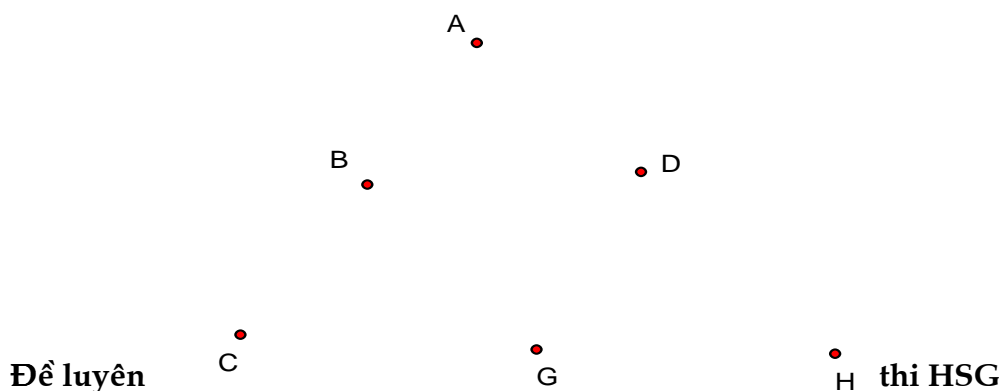
$$39 + \square - 15 = 24$$

Bài 3 : Viết tất cả các số có 2 chữ số mà cộng 2 chữ số của mỗi số được kết quả là 4

Bài 4 : Bạn Ph- ốc có 24 viên bi , bạn Hạnh có ít hơn bạn Ph- ốc 3 viên bi .Hỏi bạn Hạnh có bao nhiêu viên bi ?

Bài 5 : Tìm 2 số khác nhau khi cộng lại được kết quả là số nhỏ nhất có hai chữ số giống nhau và số nhỏ nhất là số liền trước của số lớn ?

Bài 6 : Cho các điểm hãy vẽ tạo thành 9 tam giác ?



lớp 1

Đề số 1

Các số bé hơn 10

I) Lý thuyết

- Dãy số tự nhiên là: 1,2,3,4,5,6,....

- Các số có 1 chữ số là : 0,1,2,3,4,5,6,7,8,9.

- Số bé nhất có 1 chữ số là: 0
- Số lớn nhất có 1 chữ số là 9
- Dãy số chẵn là: 0,2,4,6,8,10....
- Dãy số lẻ là: 1,3,5,7,9...

II) Bài tập:

Bài 1 :

- Viết các số chẵn bé hơn 8:.....
- Viết các số lẻ bé hơn 9:.....
- Viết các số lớn hơn 6 nh- ng bé hơn 9:.....

Bài 2: Điền dấu :+ , - , =

$$\begin{array}{ll} 1 \square 1 \square 1 = 3 & 2 \square 2 \square 1 = 1 \\ 1 \square 1 \square 1 = 3 & 2 \square 2 \square 1 = 3 \\ 2 \square 2 \square 1 = 5 \end{array}$$

Bài 3 : Điền dấu : > , < , =

$$\begin{array}{ll} 5 \dots 1 + 1 + 3 & 4 + 1 \dots 5 - 0 \\ 5 \dots 2 + 2 - 1 & 5 - 1 \dots 5 + 0 \end{array}$$

Đề số 2

Bài 1: Điền số còn thiếu vào ô trống

1

1	3			
---	---	--	--	--

		4	5			
--	--	---	---	--	--	--

Bài 2: Có 3 ô tô màu xanh và đỏ . ô tô màu xanh ít hơn ô tô màu đỏ . Hỏi có mấy ô tô màu xanh , mấy ô tô màu đỏ?

.....
.....

Bài 3 : Điền dấu(+ , -)

$$\begin{array}{ll} 5 \square 2 \square 2 = 1 & 5 \square 2 > 3 \square 1 \\ 5 \square 2 \square 2 = 5 & 5 \square 2 < 3 \square 1 \end{array}$$

Bài 4: Số

$4 = \square + 1 + 1$

$6 > 5 + \square$

$5 = 2 + \square + 2$

$6 < \square + 2$

Đề số 3

I) Lý thuyết :

- Một đôi đũa có 2 cái đũa
- Một đôi bạn có 2 bạn
- Một cặp bánh có 2 cái bánh
- Một cặp số có 2 số.

II) Bài tập

Bài 1: Cho các số từ 0 đến 5:

- Tìm các cặp số cộng lại có kết quả bằng 5:

.....
.....

- Tìm các cặp số khi lấy số lớn trừ đi số bé có kết quả bằng 2:

.....
.....

Bài 2 : Cho 3 số : 1, 2, 3 và các dấu + , - , =

Hãy lập các phép tính đúng :

.....
.....
.....

Bài 3 : Điền dấu: + , -

$5 \square 4 \square 3 \square 2 \square 1 = 1$

$5 \square 4 \square 3 \square 2 \square 1 = 3$

$5 \square 4 \square 3 \square 2 \square 1 = 5$

Bài 4 : Có 4 quả bóng xanh và đỏ , biết số bóng xanh bằng số bóng đỏ . Hỏi có mấy

.....
.....
.....

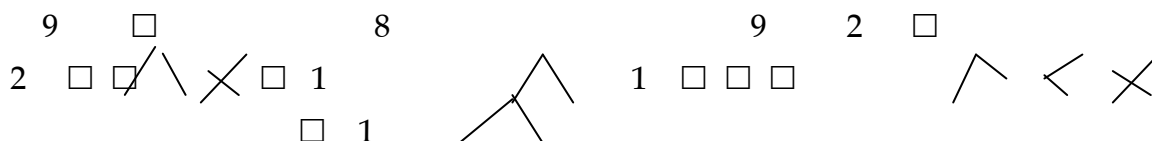
Đề số 4

Bài 1: Phát hiện quy luật viết tiếp:

0, 3,,,

8, 6,,,

Bài 2 : Tách số :



Bài 3: Cho các số : 1,2,3

- Lập các phép tính có kết quả bé hơn 3

.....

- Lập các phép tính có kết quả lớn hơn 3.

.....

Bài 4 : Điền số thích hợp:

$\square = 3 - 1$	$\square - 5 = 5$	$4 + \square = 5 - 1$
$1 + \square = 1 - \square$	$\square + \square = 0$	$\square + \square = 5 - 0$

Đề số 5

Bài 1: Số nào lấy nó cộng với nó , lấy nó trừ đi nó có kết quả là chính nó ?

.....

Bài 2:Điền số

$\square - 2 > 1 + 1$	$\square - 1 < 1 + 2$	$6 - \square = 3 + 3$
$5 + \square = 5 - \square$	$1 + \square > 1 + \square$	$\square + 2 = 2 + \square$

Bài 3: Khoanh số có thể điền vào ô trống

$3 + \square > 2$	0, 1, 2, 3, 4, 5
-------------------	------------------

$5 - \square < 2$

0 , 1 , 2 , 3 , 4 , 5

$\square - 3 < 2$

0 , 1 , 2 , 3 , 4 , 5

Đề 6:

Bài 1 : Điền số

The image shows several geometric shapes: triangles, squares, and circles. Some shapes have numbers written above them, and others have empty boxes. The numbers and boxes are: 7, 5, 8, 3, 6, 1, 8, and several empty boxes. The shapes are arranged in a way that suggests a counting exercise where the student needs to identify and count specific shapes.

Bài 2: Viết tiếp

.....,, 4 , 2 , 0

.....,, 3 , 0.

Bài 3 : Cho các số : 1 , 2 , 3 , dấu + , - , =

Hãy lập các phép tính đúng

.....

Bài 4 : Có 4 quả bóng xanh , đỏ . Bóng đỏ ít hơn bóng xanh . Hỏi có mấy quả bóng đỏ , mấy quả bóng xanh ?

.....

Đề 7

Bài 1 : Điền dấu > , < , =

$5 + 1 \dots 5 - 1$

$5 - 1 \dots 4 + 2$

$4 - 2 \dots 4 + 2$

$1 - 1 \dots 1 + 1$

$6 + 0 \dots 6 - 0$

$5 + 1 \dots 1 + 5$

Bài 2:

- Số liền tr- ớc 5 là

- Số liền tr- ớc 6 là

- Số liền sau 5 là

- Số ở giữa 4 và 6 là

Bài 3 : Điền số ;

$6 = \square + 1 + 1$

$5 + 1 > \square + 1$

$4 = 2 + \square + 2$

$5 - 1 < \square - 1$

Bài 4:

Tìm một số biết rằng khi lấy số đó cộng với 4 rồi trừ đi 1 thì được 5.

Số đó là.....vì

.....

.....

Đề 8

Bài 1:

- Số liền trước số 7 là.....

- Số liền sau số 7 là....

Bài 2: Điền dấu

$4 + 2 \dots 2$

$5 \dots 3 + 2$

$6 - 2 \dots 2$

$6 \dots 5 - 2$

$4 + 2 \dots 4$

$4 \dots 2 + 3$

Bài 3: Khoanh số có thể điền vào ô trống

$6 - \square < 4$

0, 1, 2, 3, 4, 5.

$\square + 0 < 4$

0, 1, 2, 3, 4, 5.

$\square - 1 < 4 - 1$

0, 1, 2, 3, 4, 5.

Bài 4 : Điền số

$3 + 3 = \square + 1$

$\square - 4 < 3 + 0$

$3 - 1 > 2 - \square$

$6 - \square > 5 - 0$

Bài 5 : Tính

$1 + 3 + 2 =$

$6 - 4 - 1 =$

$6 - 4 - 2 =$

$6 - 4 + 3 =$

Đề 9

Bài 1 :

- Số lẻ liền sau số 1 là :.....

- Số chẵn bé nhất khác 0 là :.....

- Số ở giữa 6 và 8 là số chẵn hay số lẻ :.....

Bài 2:

Cho các số 0, 1, 2, 3, 4

- Tìm cặp số có kết quả bằng 5:

.....
.....

- Tìm cặp số khi lấy số lớn trừ đi số bé có kết quả bằng 2:

.....
.....

Bài 3 :Điền dấu > , < , =

$6 + 0 \dots 5 + 1$

$8 - 4 \dots 5 - 4$

$8 + 1 \dots 9 + 1$

$8 - 0 \dots 0 + 8$

$4 - 3 \dots 8 - 0$

$6 + 2 \dots 8 - 1$

Bài 4 : Đúng ghi Đ sai ghi S

$x > 5$

$x = 1, 2, 3, 4, 5, 6, 7, 8$

$5 < x$

$x = 1, 2, 3, 4, 5, 6, 7, 8$

$1 < x < 5$

$x = 1, 2, 3, 4, 5, 6, 7, 8$

Bài 5:

Có 5 viên bi ba màu vàng , xanh , đỏ . Bi vàng ít nhất , xanh bằng đỏ . Hỏi mỗi loại có mấy viên bi?

.....
.....
.....
.....
.....
.....

Đề 10

Bài 1: Tính

$7 + 0 + 2 =$

$7 - 1 - 6 =$

$6 + 1 + 2 =$

$3 + 4 + 1 =$

$8 - 5 - 2 =$

$7 - 5 + 2 =$

Bài 2 : Số

$... + 5 = 9$

$8 - ... = 6$

$3 + = 7$

$... - 6 = 1$

$... + ... = 8$

$.... - = 4$

Bài 3: Khoanh vào số đúng

$x > 3$

$x = 0, 1, 2, 3, 4, 5, 6$

$x < 3$

$x = 0, 1, 2, 3, 4, 5, 6$

$2 < x < 6$

$x = 0, 1, 2, 3, 4, 5, 6$

Bài 4 : Cho các số : 1, 2, 3, 4, 5

- Tìm các cặp khi cộng có kết quả bằng 5:

.....
.....
.....

- Tìm các cặp số khi trừ có kết quả bằng 3:

.....
.....
.....

Bài 5:

Hai bạn chơi cờ với nhau, mỗi bạn chơi 3 ván. Hỏi 2 bạn chơi mấy ván cờ ?

.....
.....
.....

Đề 11

Bài 1 :

- Tìm hai số khác nhau có hiệu bằng số nhỏ ?

.....

- Viết 3 thành tổng của các số giống nhau :

.....
.....

-Viết 3 thành tổng các chữ số khác nhau :

.....
Bài 2: Điền số

$$\square - 5 < 6$$

$$3 + 5 > \square - 0$$

$$6 - \square > 2 + 1$$

$$\square + \square < 9 - 0$$

Bài 3: Đúng ghi Đ sai ghi S

$$9 - 8 + 3 = 7 \quad \square$$

$$5 + 4 - 9 > 0 \quad \square$$

$$9 - 8 + 6 = 7 \quad \square$$

$$6 + 3 < 8 - 0 \quad \square$$

Bài 4 : Tính

$$9 - 8 + 8 =$$

$$1 + 7 + 1 =$$

$$9 - 7 + 3 =$$

$$8 - 4 + 3 =$$

$$6 + 3 - 9 =$$

$$6 - 6 + 0 =$$

Bài 5 : Hình bên có :

- Có đoạn thẳng .

ĐỀ 12

Bài 1 : Điền dấu + , -

$$1 \square 3 \square 4 \square 1 = 2$$

$$4 \square 1 \square 1 \square 4 = 6$$

$$4 \square 1 \square 1 \square 4 = 2$$

$$4 \square 1 \square 1 \square 4 = 0$$

Bài 2 : Có 5 bông hoa cắm vào 2 bình để mỗi bình đều có hoa . Có mấy cách cắm?
.....
.....
.....

Bài 3 : Tìm tất cả các số có thể

$$x < 3$$

$$x = \dots\dots\dots$$

$$x > 5$$

$$x = \dots\dots\dots$$

Bài 4:

- Viết 3 số bằng nhau khi cộng lại bằng 6 :.....

- Viết 3 số khác nhau khi cộng lại có kết quả bằng 6 :
.....
.....

- Tổng 3 số tự nhiên liên tiếp bằng 6 là :

Bài 5 :

Cho 3 chữ số 6 , 2, 8 dùng dấu + , - , = để lập các phép tính đúng .
.....
.....

Đề 13

Điền số vào ô trống sao cho khi cộng 3 số liền nhau có kết quả bằng 6

	1					2					
--	---	--	--	--	--	---	--	--	--	--	--

Bài 2 : Tìm x , biết :

$1 < x < 4$ $x =$

$1 < x < 8$ $x =$

$x > 1$ $x =$

$1 + 2 < x < 7$ $x =$

Bài 3 : Số

$1 + \square + \square = 7$

$3 - \square > 1 + 1$

$6 > \square > 2$

$5 - \square < 5 - 2$

$\square - 5 > 1 + 2$

$2 + \square < 10 - \square$

Bài 4 :

Có 6 quả bóng gồm 3 màu : màu xanh ít nhất , màu đỏ nhiều nhất , còn lại là màu vàng .
 Hỏi mỗi loại có bao nhiêu quả?

.....

Đề 14

Điền số vào ô trống sao cho khi cộng 3 số liền nhau có kết quả bằng 7.

		2				1				
--	--	---	--	--	--	---	--	--	--	--

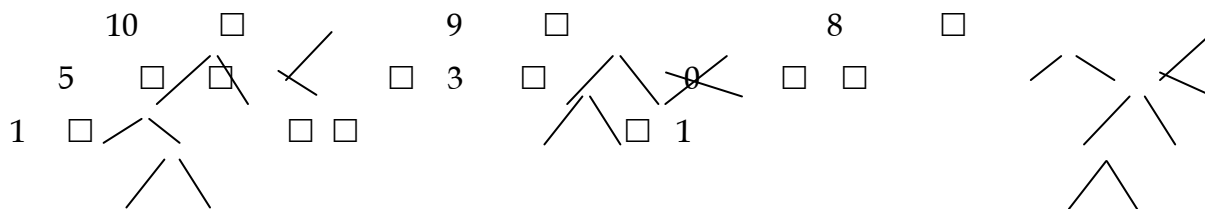
Bài 2 :

- Viết 4 thành tổng các số giống nhau :
- Viết 4 thành tổng các số khác nhau :

Bài 3 : Điền Đ vào phép tính đúng

$8 - 4 > 4 - 4$ $7 - 4 + 3 > 6 + 1$
 $3 + 6 < 9 - 0$ $4 + 5 - 6 < 4 + 5 - 5$

Bài 5 : Điền số



□ □

□ □

Đề 15

Bài 1

- a) Số lớn hơn 8 nh- ng lại bé hơn 10.....
b) Số trừ đi 3 thì còn lại 7
c) Số trừ đi 9 thì bằng 0.....

Bài 2: Điền dấu > , < , =

$$\begin{array}{ll} 5 + 3 \dots 9 - 1 & 8 + 2 \dots 10 - 4 \\ 10 - 7 \dots 4 + 2 & 7 - 2 \dots 9 - 5 \\ 10 - 6 \dots 8 - 4 & 6 - 1 \dots 8 + 1 \end{array}$$

Bài 3 : Cho các số 1 , 2, 3 , 4 , 5, 6

- a) Tìm các cặp số mà khi cộng lại có kết quả bằng 6

.....
.....

- b) Tìm các cặp số mà khi lấy số lớn trừ đi số bé có kết quả bằng 4

.....
.....

Bài 4:Đúng ghi Đ sai ghi S

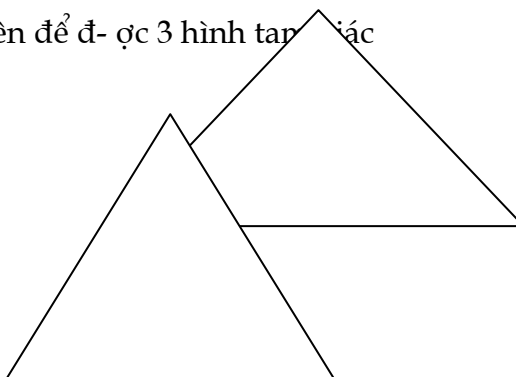
$9 + 1 > 7 + 3 \quad \square$

$9 - 9 + 1 < 11 - 9 + 1 \quad \square$

$8 - 6 < 10 - 7 \quad \square$

$10 - 7 + 4 > 10 - 8 + 4 \quad \square$

Bài 5 : Kẻ thêm 2 đoạn thẳng vào hình vẽ bên để đ- ợc 3 hình tam giác



ĐỀ 16

Bài 1

a) Số có hai chữ số đầu tiên em học là gì ?

.....

b) Tìm 2 số lẻ khác nhau có tổng là số nhỏ nhất có 2 chữ số

.....

c) Số 10 sẽ là số nào khi ta đổi chỗ các chữ số của nó ?

.....

Bài 2 : Tính

a) $a + 0 =$

$0 + a =$

$a - 0 =$

$a - a =$

b) $a + b + 1 =$

với $a = 9, b = 2$

$9 - b + c =$

với $b = 0, c = 1$

$x + 8 - y =$

với $x = 5, y = 4$

Bài 3 : Cho các số 0, 1, 2, 3, 4, 5, 6

Tìm các nhóm mỗi nhóm có 3 số cộng lại có kết quả bằng 9

.....

.....

.....

.....

$$a + b - 2 = \dots\dots\dots$$
$$m - n = \text{với } m = 10, n = 6 \dots\dots\dots$$

Đề 18

Bài 1 : Tìm tất cả các số lớn hơn số nhỏ nhất có một chữ số nhỏ hơn số lớn nhất có một chữ số.

.....
.....

Bài 2: Đánh dấu x vào kết quả đúng .

$$10 - 8 + 2 > 10 - 7 + 3 \quad \square \qquad 8 + 2 > 7 + 3 > 6 + 4 \quad \square$$
$$6 + 3 + 1 = 1 + 3 + 6 \quad \square \qquad 10 - 9 < 10 - 8 < 10 - 7 \quad \square$$
$$4 + 6 - 10 < 10 - 10 + 1 \quad \square \qquad 6 + 2 < 7 - 1 < 8 - 5 \quad \square$$

Bài 3: Cho các số 2, 3, 4, 5, 6, 7

a) Tìm các cặp số có tổng bằng 9 :

.....
.....

b) Tìm các cặp số có hiệu bằng 4:

.....
.....

c) Tìm các nhóm 3 số có tổng bằng 9:

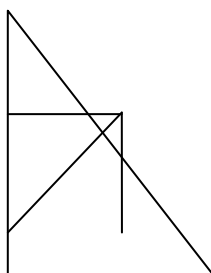
.....
.....

Bài 4: Tính

$$a + 7 - b = \text{với } a = 3, b = 9 \dots\dots\dots$$
$$10 - x - y = \text{với } x = 6, y = 2 \dots\dots\dots$$
$$m - n + 5 = \text{với } m = 10, n = 7 \dots\dots\dots$$

Bài 5: Hình bên có

- hình tam giác
- hình vuông
- đoạn thẳng



Đề 19

Bài 1:

- Viết số chẵn bé hơn 9 và lớn hơn 2:.....

- Số nào cộng với nó hoặc trừ đi nó thì bằng chính nó:

Bài 2:

Cô có 6 cái bánh chia cho 3 bạn . Lan đ- ọc nhiều nhất , An đ- ọc ít nhất , Hà nhiều hơn An nh- ng ít hơn Lan. Số bánh của 3 bạn là 3 số tự nhiên liên tiếp . Tìm số bánh của mỗi bạn ?

.....
.....
.....

Bài 3: Điền dấu + , -

$8 \square 2 > 10 - 1$

$9 \square 3 > 10 - 4$

$10 \square 7 > 10 \square 8$

$10 > 6 \quad 3 > 6 \square 2$

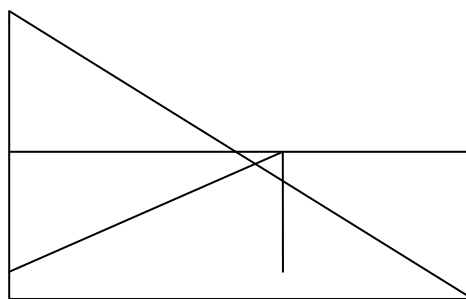
Bài 4:

Mai có quả cam , Mai cho bạn 2 quả , Mai còn lại 6 quả . Hỏi lúc đầu Mai có mấy quả cam ?

.....
.....
.....

Bài 5 : Hình vẽ bên có:

- Có hình tam giác .
- Có hình tứ giác .
- Có đoạn thẳng .



Đề 20

Bài 1 :

- Tìm 3 số tự nhiên liên tiếp có tổng bằng 9 :.....
- Viết tất cả các số nhỏ hơn số nhỏ nhất có hai chữ số và lớn hơn số chẵn nhỏ nhất có một chữ số khác 0 .

.....
.....

Bài 2: Cho các số 1 ,2 ,3 . Hãy lập các phép tính để có kết quả bằng : 6 , 4 , 2 , 0

Bài 3: Tính

$$x - 3 + y = \quad \text{với } x = 10 , y = 1 \text{}$$

$$10 - x + y = \quad \text{với } x = 8 , y = 6 \text{.....}$$

$$a + b - 10 = \quad \text{với } a = 6 , b = 4 \text{}$$

Bài 4 : Đặt đề toán theo tóm tắt sau rồi giải .

Cành trên : 6 quả

Cành dưới : 3 quả

Hai cành có : quả ?

Đề 21:

Bài 1 :

- Số lẻ lớn hơn 0 và nhỏ hơn 8 là :
- Số ở giữa 7 và 9 là số chẵn hay số lẻ :
- Viết 9 thành tổng của 3 số giống nhau:

Bài 2 : Điền dấu + , -

$7 \square 3 = 0 \square 10$

$3 \square 6 = 10 \square 1$

$10 \square 8 > 10 \square 9$

$7 \square 3 < 1 \square 4 < 10 \square 3$

Bài 3 : Điền Đ hay S

$10 - 5 + 1 > 10 - 6 + 2 \square$

$10 - 8 + 7 > 9 + 1 - 1 \square$

$3 + 4 - 1 < 6 - 0 + 2 \square$

$10 - 10 + 0 = 0 + 9 - 9 \square$

Bài 4 : Khoanh số có thể điền vào ô trống :

$3 + 2 < \square < 8 - 1 \quad 2, 3, 4, 5, 6, 7$

$10 - 6 > \square > 10 - 10 \quad 1, 2, 3, 4, 5$

Bài 5 : Giải bài toán theo tóm tắt sau:

Đàn gà có : 1 chục con

Bán : 6 con

Còn : con ?

Đề 22 :

Bài 1 :

- Số lẻ liền sau số 5 là :

- Viết các số lẻ mà em đã học :

- Số ở giữa số 6 và 8 là số chẵn hay lẻ Bài 2 :

Tìm một số biết rằng lấy 4 cộng với số đó rồi trừ đi 8 thì bằng 2 .

Bài 3: Cho các số từ 0 đến 6 .

a) Tìm các cặp số có kết quả bằng 8 :

b) Tìm nhóm 3 số có kết quả bằng 8 :

c) Tìm các cặp số có hiệu bằng 4 :

Bài 4: Điền Đ vào phép tính đúng .

$$10 - 7 + 3 = 6 + 2 - 1 \quad \square \qquad 9 - 9 + 9 < 10 - 10 + 10 \quad \square$$

$$4 + 6 - 7 > 10 - 8 + 1 \quad \square \qquad 1 + 9 - 1 < 9 - 1 + 1 \quad \square$$

Bài 5 : Điền phép tính đúng

Có máy bay Bay đi : 6 máy bay

Còn : 3 máy bay ?

ĐỀ 1

Lớp : 1B

Họ Và Tên:

đề kiểm tra hs giỏi môn toán

1. Điền vào chỗ chấm:
 - a. Có.....số có một chữ số. Là các số.....
 - b. Các số tròn chục vừa lớn hơn 30 vừa bé hơn 10 chục là:.....
 - c. Các số có hai chữ số giống nhau lớn hơn 30 là:.....
 - d. Các số có hai chữ số mà khi lấy chữ số hàng chục cộng với chữ số hàng đơn vị có kết quả bằng 8 là:.....
 - e. Các số có hai chữ số mà khi lấy chữ số hàng đơn vị trừ đi chữ số hàng chục có kết quả bằng 4 là:.....

2.Điền số?

$$36 - \dots + 20 = 50$$

$$78 - \dots + 30 = 50$$

$$87 - \dots + 34 = 67$$

$$40 + \dots + 14 = 76$$

$$35 + \dots - 70 = 9$$

$$55 + \dots - 24 = 75$$

$$100 - \dots + 25 = 65$$

$$20 + \dots - \dots = 0$$

3.Kết quả của: $45 + 23$ nhỏ hơn các số nào d- ới đây?

A: 68 B:87 C:58 D:78

Kết quả của: $95 - 23$ lớn hơn các số nào d- ới đây?

A: 72 B:70 C:58 D:78

4. Câu trả lời nào sau đây không đúng:

- A: Số bé nhất có hai chữ số giống nhau là: 10
- B: Số bé nhất có hai chữ số giống nhau là: 11
- C: Số lớn nhất có hai chữ số giống nhau là: 90
- D: Số lớn nhất có hai chữ số giống nhau là: 99
- E; Nếu hôm nay là thứ ba ngày 6 thì thứ năm là ngày 8.
- G: Nếu ngày 10 là thứ sáu thì ngày 12 là thứ bảy.

5. Điền số và ô trống sao cho khi cộng các số hàng dọc, hàng ngang, đ- ờng chéo có kết quả bằng nhau:

30		20	3		2
	30			3	
40			4		

5. Điền số và ô trống sao cho khi cộng các số ở 3 ô liên nhau có kết quả nh- nhau:

6. Đặt bài toán theo tóm tắt rồi giải:

7. Tóm tắt rồi giải bài toán sau:

Có 95 con vịt. Trên bờ có 3 chục con, số vịt còn lại bơi ở d- ới hồ. Hỏi d- ới hồ có bao nhiêu con vịt?

8. Hà có số bi xanh bằng số bé nhất có hai chữ số giống nhau và bi đỏ là 5 chục viên. Hỏi Hà có tất cả bao nhiêu viên bi?

Đề 2

Lớp : 1B

Họ Và Tên:

đề kiểm tra hs giỏi môn toán

1. Điền vào chỗ chấm:

A. Các số tròn chục vừa lớn hơn 60 vừa bé hơn 10 chục là:.....

B. Các số có hai chữ số giống nhau bé hơn 80 là:.....

C. Các số có hai chữ số mà khi lấy chữ số hàng chục cộng với chữ số hàng đơn vị có kết quả bằng 7 là:.....

D. Các số có hai chữ số mà khi lấy chữ số hàng đơn vị trừ đi chữ số hàng chục có kết quả bằng 3 là:.....

E. Cósố có hai chữ số.

2. Điền số?

$$86 - \dots + 20 = 50$$

$$90 - \dots + 30 = 50$$

$$67 - \dots + 34 = 67$$

$$30 + \dots + 14 = 76$$

$$55 + \dots - 70 = 9$$

$$25 + \dots - 24 = 75$$

$$100 - \dots + 45 = 65$$

$$20 + \dots - \dots = 0$$

3. Kết quả của: $65 + 23$ nhỏ hơn các số nào d- ới đây?

A: 88

B: 87

C: 98

D: 89

Kết quả của: $95 - 15$ lớn hơn các số nào d- ới đây?

A: 80

B: 70

C: 60

D: 78

4. Khoanh vào chữ cái đặt tr- ớc câu trả lời đúng:

A: Số bé nhất có hai chữ số giống nhau là: 10

B: Số bé nhất có hai chữ số giống nhau là: 11

C: Số lớn nhất có hai chữ số giống nhau là: 90

D: Số lớn nhất có hai chữ số giống nhau là: 99

E; Nếu hôm qua là thứ ba ngày 6 thì hôm nay là thứ hai ngày 5.

G: Nếu ngày 12 là thứ ba thì ngày 19 là thứ ba.

5. Điền số và ô trống sao cho khi cộng các số ở 3 ô liền nhau có kết quả nh- nhau:

6. Điền số và ô trống sao cho khi cộng các số hàng dọc, hàng ngang, đ- ờng chéo có kết quả bằng nhau:

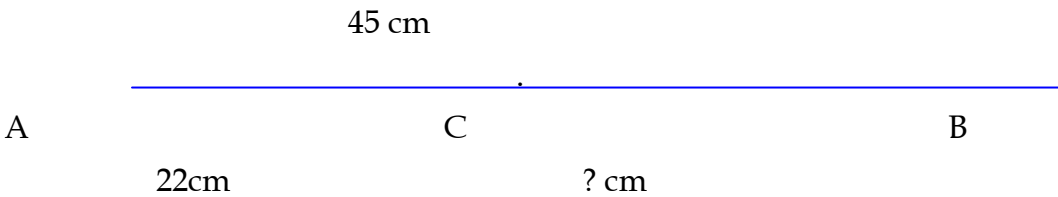
a) Bằng 90

30		20
	30	

b) Bằng 80

	20	
20		10

7. Đặt bài toán theo tóm tắt rồi giải:



8. giải bài toán sau:

Có một mảnh vải, mẹ cắt 3 chục cm để khâu túi, mẹ cắt tiếp 55 cm để làm khăn. Hỏi mảnh vải đã bị ngắn đi bao nhiêu xăng ti met?

9. Hà có số bi bằng số tròn chục lớn nhất, Lê có 4 chục viên bi. Sau đó Hà cho Lê 10 viên bi

- Hỏi a) Hà còn lại bao nhiêu viên bi?
- b) Lê có tất cả bao nhiêu viên bi?

Họ Và Tên:

$5 + 62 - 60 = \dots\dots$ $100 \text{ cm} - 40 \text{ cm} + 38 \text{ cm} = \dots\dots\dots$

$8 + 91 - 57 = \dots\dots$ $4 \text{ cm} + 63 \text{ cm} - 23 \text{ cm} = \dots\dots\dots$

Bài 3:a) Xếp các số: 43, 65, 49, 89, 98, 67, 34 theo thứ tự từ bé đến lớn:

b) Xếp các số: 79, 63, 54, 48, 71, 50, 87, 69 theo thứ tự giảm dần:

Bài 4: Số?

$40 + \dots\dots = 80$ $55 + \dots\dots = 98$ $\dots\dots + \dots\dots = 80$

$\dots\dots - 30 = 70$ $\dots\dots + 34 = 67$ $\dots\dots - \dots\dots = 31$

Bài 5: Trong vườn có 99 cây chuối và cây cam, số cây chuối là 3 chục cây. Hỏi trong vườn có bao nhiêu cây cam?

Bài 6: Nam có một số bi, Nam cho Hà 25 viên bi, cho Tùng 2 chục viên bi. Hỏi Nam đã cho đi bao nhiêu viên bi?

Bài 7: Nếu hôm qua là thứ tư ngày 14 thì:

Hôm nay là.....ngày.....

Ngày mai là.....ngày.....

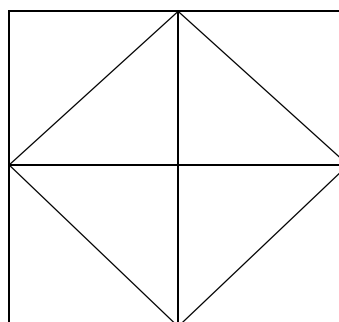
Ngày kia là.....ngày.....

Hôm kia là.....ngày.....

Bài 8: Hình bên có..... hình vuông

Có.....hình tam giác

Có.....đoạn thẳng



Điểm

Bài 1: (2 điểm) Điền dấu ($<$; $>$; $=$) thích hợp vào ụ trống:

$16 + 0 + 14$

$25 + \square - 10$

$12 + 1$

$13 - 1 + 1 \square$

$19 - 16 - 3$

$18 - \square - 2$

$52 - 0 - 32$

$51 - 32 \square$

Bài 2: (2 điểm) Điền số thích hợp vào chỗ chấm:

14 là số liền trước của số.....

Số bộ nhất cú hai chữ số là.....

81 là số liền sau của số

Ba chục tónh là que tónh.

Bài 3: (2 điểm) Đặt tónh rồi tónh.

$20 + 50$

$89 - 27$

$5 + 33$

$49 - 3$

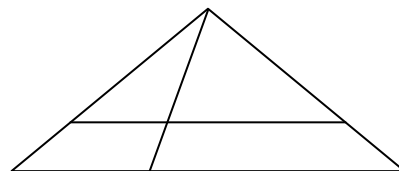
Bài 4: (2 điểm) Bạn An hỏi bạn Bõnh : ô Năm nay bố bạn bao nhiêu tuổi ? ầ. Bõnh trả lời :

ô Tuổi của mẹ tớ là số liền sau của 31, cũn bố tớ hơn mẹ tớ 4 tuổi ầ. Em hóy tónh xem hiện nay bố bạn Bõnh bao nhiêu tuổi ?

Bài 5: (1 điểm) Từ ba số 18 ; 12 ; 6 . Em hóy lập tất cả cõc phõp tónh ðỳng.

Bài 6: (1 điểm) Trong hõnh vẽ bõn, cú bao nhiêu hõnh tam giỏc ?

Trả lời : Hõnh vẽ bõn cútam giỏc.



Cõu 1: (2 điểm) Em hóy viết 5 tiếng cú chứa vần oang, 5 tiếng cú chứa vần uyõn, 3 tiếng cú chứa vần ươt , 3 tiếng cú chứa vần ương.

Cõu 2: (2 điểm) Em hóy tõm 3 từ cú tiếng chứa vần ươu, 3 từ cú tiếng chứa vần iõng.

Cõu 3: (2 điểm) Điền vào chỗ chấm:

- n hay l :àng xúm ;uyẽn tập ;ước uống ; tiếnõn .
- õn hay õng : v..... lời ; bạn th..... ; bàn ch..... ; nhà t.....

Cõu 4: (2 điểm) Em hóy viết 4 ðũng thơ ðầu của bài thơ “ Ngụi nhà” (TV 1 tập II).

Câu 5: (1 điểm) Nối ụ chữ cho phự hợp:

Anh em
Khi cô giáo giảng bài,
Em xem
Đi dưới trời nắng,

em phải đội mũ
phim hoạt hình
chơi bóng chuyền
chúng em chú ý lắng nghe

Câu 6: (1 điểm) Em hóy viết một cõu nủi về một người bạn thõn của em:

.....
.....

bài 1 : Điền dấu + , - thích hợp vào ô trống

$12 \square 5 \square 3 = 14$

$14 \square 4 \square 1 = 11$

$16 \square 3 \square 2 = 17$

$32 \square 30 \square 2 = 4$

$45 \square 20 \square 4 = 69$

$84 \square 10 \square 3 = 71$

bài 2 :

Tìm 1 số biết rằng lấy số đó cộng với 5 rồi trừ đi 8 đ- ợc kết quả là 11?

.....
.....
.....

bài 3 : Điền dấu > , < , = thích hợp vào ô trống

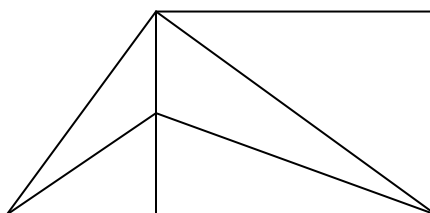
$12 + 6 \square 6 + 4 + 7$

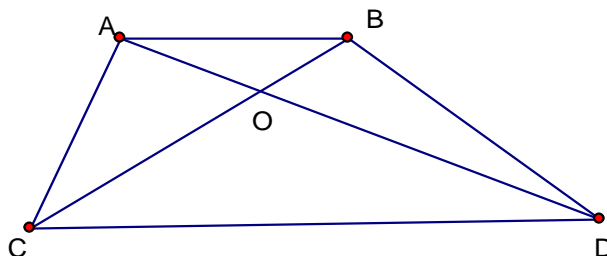
$15 + 0 \square 15 - 0$

$18 - 5 \square 14 - 4 + 5$

$0 + 10 \square 10 + 0$

bài 4 :





Bài 8: Vẽ 5 điểm trong đó có 3 điểm ở ngoài hình tròn và có 4 điểm ở ngoài hình vuông

Bài 9:

Với ba chữ số 3,2,5 có thể viết được bao nhiêu số có 2 chữ số khác nhau ? Hãy viết các số đó

Bài 28 :

Với ba chữ số 0,2,5 có thể viết được bao nhiêu số có 2 chữ số khác nhau ? Hãy viết các số đó

Bài 29 : Tìm tất cả các số có 2 chữ số với 2 chữ số giống nhau

Bài 35 : Cho các số 0 , 10 ,20, 30 ,40 ,50,60, 70 ,80 ,90 . Hãy tìm các cặp hai số sao cho khi cộng hai số đó thì có kết quả bằng 70.

Bài 36 : Cho các số 0 , 10 ,20, 30 ,40 ,50,60, 70 ,80 ,90 . Hãy tìm các cặp hai số sao cho khi lấy số lớn trừ đi số bé thì có kết quả là 50

Bài 39 : Tìm 5 số khác nhau mà khi cộng lại có kết quả bằng 10

Bài 45 : Nếu mẹ cho Dũng thêm 3 viên kẹo thì Dũng có tất cả 10 viên kẹo . Hỏi Dũng có tất cả bao nhiêu viên kẹo ?

Bài 46 : Lan cho Hồng 5 quyển sách , Lan còn lại 12 quyển sách .Hỏi Lan có bao nhiêu quyển sách

Trung Tâm Gia Sư Dạy Kèm Tài Năng Việt
<https://giasudaykem.com.vn/tai-lieu-mon-toan-lop-2.html>

Trung Tâm Gia Sư Dạy Kèm Tài Năng Việt
<https://giasudaykem.com.vn/tai-lieu-mon-toan-lop-2.html>