

ĐỀ SỐ 1

Câu 1 (1 điểm) Viết số vào chỗ trống:

Sáu mươi tư

Bốn mươi lăm.....

Tám mươi hai.....

Một trăm.....

Năm mươi bảy.....

Hai mươi tám.....

Chín mươi bốn.....

Bảy mươi sáu.....

Ba mươi ba.....

Sáu mươi chín.....

Câu 2 : 5 ? (1 điểm)

a)

Số liền trước	Số đã biết
	80
	73
	49
	22
	65

b)

Số liền trước	Số đã biết
99	
57	
11	
39	
63	

Câu 3: (2 điểm) a) Đặt tính rồi tính:

$45 + 32$

$31 + 51$

$87 - 4$

$97 - 67$

.....

.....

.....

.....

.....

.....

.....

.....

.....

.....

.....

.....

b) $79 - 63 = \dots\dots\dots$

$94 + 5 - 4 = \dots\dots\dots$

$16 + 42 = \dots\dots\dots$

$76 - 26 + 10 = \dots\dots\dots$

Câu 4: (1 điểm)

Viết số vào chỗ chấm:

a) Lúc 6 giờ , kim ngắn chỉ vào số kim dài chỉ vào số

b) Lúc 3 giờ , kim ngắn chỉ vào số, kim dài chỉ vào số

Câu 5: (1 điểm)

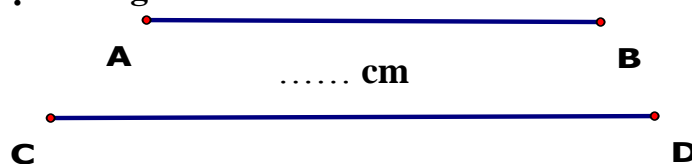
Viết tiếp vào chỗ chấm:

Một tuần lễ có..... ngày là: chủ nhật,.....

.....

Câu 6: (1 điểm)

Đo độ dài các đoạn thẳng rồi viết số đo :



.....cm

Câu 7: (1 điểm)

Đ
S

?

a) $54 - 24 > 45 - 24$

b) $89 - 11 = 36 + 32$

c) $45 + 30 > 35 + 40$

d) $97 - 64 < 78 - 35$

Câu 8: (2 điểm)

a) Hoa gấp được 25 con chim . Mai gấp được 21 con chim. Hỏi cả hai bạn gấp được tất cả bao nhiêu con chim?

.....
.....
.....
.....

b) Một sợi dây dài 79cm. Bó cắt đi 50cm. Hỏi sợi dây còn lại dài bao nhiêu xăngtimet?

.....
.....
.....
.....

ĐỀ SỐ 2

Bài 1:

a) **Viết các số: (1 điểm)**

Ba mươi lăm:

Chín mươi chín:

Bảy mươi sáu:

Một trăm:.....

b) **Viết số thích hợp vào chỗ chấm: (0,5 điểm)**

93;;;; 97;;; 100.

Bài 2: Đặt tính rồi tính: (2 điểm)

$47 + 30$

$76 - 25$

$45 + 52$

$98 - 36$

.....
.....
.....

Bài 3: Tính: (2 điểm)

b) 93; 94; 95; 96; 97; 98; 99; 100.

Bài 2: Đặt tính rồi tính: (2 điểm)

$$47 + 30$$

$$47$$

$$+ 30$$

$$\hline 77$$

$$76 - 25$$

$$76$$

$$- 25$$

$$\hline 51$$

$$45 + 52$$

$$45$$

$$+ 52$$

$$\hline 97$$

$$98 - 36$$

$$- 36$$

$$\hline 62$$

98

Bài 3: Tính: (2 điểm)

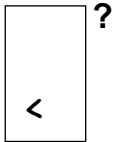
$$34 + 4 - 6 = 32$$

$$40 + 8 - 8 = 40$$

$$15\text{cm} - 10\text{cm} + 4\text{cm} = 9\text{cm}$$

$$30\text{cm} + 10\text{cm} - 20\text{cm} = 20\text{cm}$$

Bài 4: (2 điểm)



$$78 - 7 > 70$$

$$96 - 42 < 50 + 8$$

$$45 + 3 = 43 + 5$$

$$38 = 30 + 8$$

Bài 5:


Bài giải:

Cả hai lớp có tất cả số học sinh là: (0,5đ)

$$33 + 35 = 68 \text{ (học sinh) } \quad (1 \text{ đ})$$


Đáp số: 68 học sinh (0,5 đ)

Bài 6: (0.5 điểm) Nối đồng hồ với số chỉ giờ đúng:



3 giờ

7 giờ



ĐỀ SỐ 3

Câu 1: (0,5 điểm): Số chín mươi viết là:

A. 9

B. 50

C. 90

Câu 2: (0,5 điểm): Số 59 đọc là:

A. Chín mươi lăm

B. Năm mươi chín

Câu 3: (0,5 điểm): Các số: 4, 8, 7, 20, 99 được xếp theo thứ tự từ bé đến lớn là:

A. 4, 7, 8, 20, 99

B. 8, 7, 4, 20, 99

C. 99, 20, 8, 7, 4

Câu 4:(0,5 điểm): Kết quả của phép tính $7 + 5$ là:

A . 21

B. 12

C. 10

Câu 5: (1 điểm): Kết quả của phép tính $90 - 70 + 30$ là:

A . 55

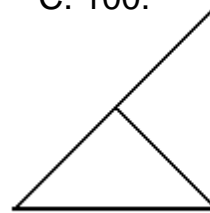
B. 50

C. 100.

Câu 6: (1 điểm). Có mấy hình tam giác:

tam giác.

B. 2 hình tam giác



A. 3 hình

Câu 7: (1 điểm) Em chọn đáp số đúng của bài toán sau:

An có 5 cái kẹo, An cho Bình 2 cái kẹo .Hỏi An còn lại mấy cái kẹo?

A. 7 cái kẹo

B. 3 cái kẹo.

Câu 8 : (1 điểm) Em chọn phép tính đúng của bài toán sau:

Hân có 15 viên bi, chị cho thêm 4 viên bi . Hỏi Hân có tất cả bao nhiêu viên bi ?

A . $15 + 4$

B. $15 - 4$

II. PHẦN TỰ LUẬN (4 điểm)

Câu 9: (2 điểm) Đặt tính rồi tính.

$$13 + 4$$

$$27 - 7$$

$$53 + 35$$

$$89 - 36$$

.....

.....

.....

.....

.....

.....

.....

.....

.....

.....

.....

.....

Câu 10: (2 điểm) Nhà em có 26 con gà, mẹ mua thêm 11 con gà Hỏi nhà em có tất cả mấy con gà?

Tóm tắt:

Nhà em có: con gà.

Mẹ mua thêm :.....con gà

Nhà em có tất cả :.....con gà?

Giải.

.....

ĐÁP ÁN

Khoanh vào chữ cái đặt trước câu trả lời đúng nhất.

Câu 1 (0,5 điểm): Số chín mươi viết là:

- A. 9 ; B. 50 ; C. 90

Câu 2: (0,5 điểm): Số 59 đọc là:

- A : Chín mươi lăm ; B: Năm mươi chín

Câu 3: (0,5 điểm): Các số: 4, 8, 7, 20, 99: Được xếp theo thứ tự từ bé đến lớn là:

- A. 4, 7, 8, 20, 99 ; B. 8, 7, 4, 20, 99 ; C. 99, 20, 8, 7, 4

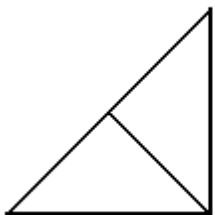
Câu 4:(0,5 điểm): Kết quả của phép tính $7 + 5$ là :

- A . 21 ; B) 12 ; C. 10

Câu 5: (1 điểm): Kết quả của phép tính $90 - 70 + 30$ là:

- A . 55 ; B : 50 ; C. 100.

Câu 6: (1 điểm) Có mấy hình tam giác :



- A: 3 hình tam giác. ; B : 2 hình tam giác

Câu 7: (1 điểm) Em chọn đáp số đúng của bài toán sau:

An có 5 cái kẹo, An cho Bình 2 cái kẹo .Hỏi An còn lại mấy cái kẹo?

A: 7 cái kẹo , **B** : 3 cái kẹo.

Câu 8 : (1 điểm) Em chọn phép tính đúng của bài toán sau:

Hân có 15 viên bi, chị cho thêm 4 viên bi . Hỏi Hân có tất cả bao nhiêu viên bi ?

A. $15 + 4$

B . $15 - 4$

II.PHẦN TỰ LUẬN (4 điểm)

Câu 9: (2 điểm). Đặt tính rồi tính.

$$\begin{array}{r} 13 + 4 \\ 13 \\ + \underline{4} \\ 17 \end{array}$$

$$\begin{array}{r} 27 - 7 \\ 27 \\ - \underline{7} \\ 20 \end{array}$$

$$\begin{array}{r} 53 + 35 \\ 53 \\ + \underline{35} \\ 88 \end{array}$$

$$\begin{array}{r} 89 - 36 \\ 89 \\ - \underline{36} \\ 53 \end{array}$$

Câu 10: (2 điểm) Nhà em có 26 con gà, mẹ mua thêm 11 con gà Hỏi nhà em có tất cả mấy con gà?

Tóm tắt:

Nhà em có: **26** con gà.

Mẹ mua thêm : **11** con gà

Nhà em có tất cả :.....con gà?

Giải.

Nhà em có tất cả số con gà là:

$$26 + 11 = \mathbf{37} \text{ (con gà)}$$

Đáp số : **37** con gà.