

## KIỂM TRA GIỮA HỌC KÌ I MÔN TOÁN 3 ĐỀ 1

**I. TRẮC NGHIỆM:** Em hãy khoanh tròn vào chữ cái đặt trước câu trả lời đúng.

**1. Cho các số: 928; 982; 899; 988. Số lớn nhất là:**

- A. 928                      B. 982                      C. 899                      D. 988

**2.  - 300 = 40. Số thích hợp để điền vào ô trống là:**

- A. 260                      B. 340                      C. 430                      D. 240

**3.  $\frac{1}{3}$  của 24kg là:**

- A. 12kg                      B. 8kg                      C. 6kg                      D. 4kg

**4. Kết quả của phép nhân  $28 \times 5$  là:**

- A. 410                      B. 400                      C. 140                      D. 310

**5. Kết quả của phép chia  $36 : 4$  là:**

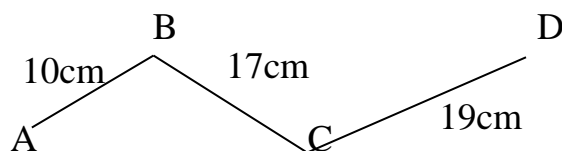
- A. 4                      B. 6                      C. 8                      D. 9

**6. Cho dãy số: 9; 12; 15; ...; ...; ...; Các số thích hợp để điền vào chỗ chấm là:**

- A. 18; 21; 24              B. 16; 17; 18              C. 17; 19; 21              D. 18; 20; 21

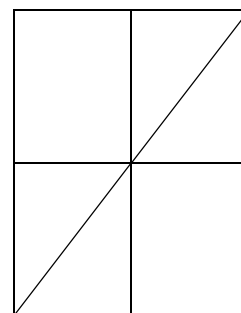
**7. Độ dài của đường gấp khúc ABCD là**

- A. 68cm  
B. 86cm  
C. 46cm D. 76cm



**8. Hình bên có:**

A. 9 hình chữ nhật, 4 hình tam giác  
B. 8 hình chữ nhật, 4 hình tam giác  
C. 9 hình chữ nhật, 6 hình tam giác  
D. 8 hình chữ nhật, 5 hình tam giác



**B. PHẦN TỰ LUẬN:**

**Bài 1: Đặt tính rồi tính**

- a)  $248 + 136$               b)  $375 - 128$               c)  $48 \times 6$                       d)  $49 : 7$

**Bài 2: Tính:**

- a)  $84 \times 7 - 99$                       b)  $23 \times 9 + 15$

**Bài 3: Tìm x:**

a)  $x \times 6 = 42$

b)  $24 : x = 4$

**Bài 4:** Đoạn dây thứ nhất dài 18dm, đoạn dây thứ hai dài gấp 6 lần đoạn dây thứ nhất. Hỏi đoạn dây thứ hai dài bao nhiêu đề-xi-mét ?

**ĐỀ 2**

**KIỂM TRA ĐỊNH KÌ GIỮA HỌC KÌ I - NĂM HỌC 2011-2012**

**Môn: Toán – Lớp 3**

**Thời gian : 40 phút**

**I. Trắc nghiệm:**

Khoanh tròn vào chữ cái đặt trước câu trả lời đúng.

1. Số có ba chữ số lớn nhất là :

- a. 100                                      b. 989                                      c. 900                                      d. 999

2.  $418 + 201 = \dots$  Số cần điền vào chỗ chấm là :

- a. 621                                      b. 619                                      c. 719                                      d. 629

3.  $627 - 143 = \dots$  Số cần điền vào chỗ chấm là :

- a. 474                                      b. 374                                      c. 574                                      d. 484

4.  $6 \times 6 \square 30 + 5$ . Dấu cần điền vào ô trống là :

- a. <                                      b. >                                      c. =

5.  $\frac{1}{5}$  của 35m là .....Số cần điền vào chỗ chấm là

- a. 6m                                      b. 7m                                      c. 8m                                      d. 9m

6. 42 giờ giảm đi 6 lần thì còn.....Số cần điền vào chỗ chấm là :

- a. 7 giờ                                      b. 8 giờ                                      c. 9 giờ                                      d. 10 giờ

7.  $3m4cm = \dots$ cm. Số cần điền vào chỗ chấm là :

- a. 34                                      b.304                                      c. 340                                      d. 7

8. Mỗi tuần lễ có 7 ngày. Hỏi 4 tuần lễ có bao nhiêu ngày ?

- a. 11 ngày                                      b. 21 ngày                                      c. 24 ngày                                      d.28 ngày

**II. Thực hành:**

**Câu 1 :** Đặt tính rồi tính:

$452 + 361$

$541 - 127$

$54 \times 6$

$24 : 6$

**Câu 2 :** Tính:

$5 \times 7 + 27$

$80 : 2 - 13$

**Câu 3 :** Tìm X

$x \times 4 = 32$

$X : 6 = 12$

$\frac{1}{5}$

**Câu 4 :** Một cửa hàng có 40 mét vải xanh và đã bán được số vải đó. Hỏi cửa hàng đó đã bán được bao nhiêu mét vải xanh ?

Bài giải:

.....  
 .....  
 .....

**ĐỀ 3**

**KIỂM TRA ĐỊNH KÌ GIỮA HỌC KÌ I - NĂM HỌC 2011-2012**

**Môn: Toán – Lớp 3**

**Thời gian : 40 phút**

**PHẦN TRẮC NGHIỆM:**

Câu 1: 7 gấp lên 6 lần thì bằng :

- A.1                      B.13                      C.42                      D.48

Câu 2 : 8m2cm = .....cm .Số thích hợp để điền vào chỗ chấm là :

- A.82                      B.802                      C.820                      D.8200

Câu 3: Kết quả của dãy tính  $15 \times 4 + 5$  là :

- A.95                      B.24                      C.65                      D.55

Câu 4: Một tuần lễ có 7 ngày, 5 tuần lễ có số ngày là :

- A.12                      B.25                      C.30                      D.35

Câu 5:  $\frac{1}{6}$  của 48 m là:

- A.8m                      B.42m                      C.54m                      D.65

Câu 6 :Số bảy trăm linh bảy viết là :

- A.770                      B.707                      C.777                      D.700

**Câu 1:** Đặt tính rồi tính

- 635 + 218              426 - 119              56 x 4              45 x 6

.....  
 .....  
 .....  
 .....

**Câu 2:** Tính :

$5 \times 5 + 18$

$5 \times 7 - 23$

$7 \times 7 \times 2$

**Câu 3:** Tìm x

$84 : X = 2$

$X : 4 = 36$

**Câu 4:** Đội tuyển học sinh giỏi Trường Tiểu học Kim Đồng có 78 học sinh, trong đó có  $\frac{1}{3}$  là số học sinh giỏi Toán. Hỏi trường Tiểu học Kim Đồng có bao nhiêu học sinh giỏi toán?

## ĐỀ 4

### KIỂM TRA ĐỊNH KÌ GIỮA HỌC KÌ I - NĂM HỌC 2011-2012

Môn: Toán – Lớp 3

Thời gian : 40 phút

#### Phần I: Trắc nghiệm:

Khoanh vào chữ cái đặt trước câu trả lời đúng.

1.  $8 \times 7 + 42 = ?$

A. 120

B. 98

C. 14

D. 36

2.  $7 \times X = 56$  thì  $X = ?$

A. 392

B. 49

C. 63

D. 8

3.  $\frac{1}{6}$  của 1 giờ là:

A. 15 phút

B. 10 phút

C. 12 phút

D. 20 phút

4. Tìm x biết:

$96 : x = 3$

A.  $x = 32$

B.  $x = 303$

C.  $x = 302$

D.  $x = 203$

5.  $5m6cm = \dots\dots cm$ . Số thích hợp để điền vào chỗ chấm là:

A. 56

B. 506

C. 560

D. 5600

6. Một tuần lễ có 7 ngày, 4 tuần lễ có số ngày là:

A.28

B.21

C.11

D.35

**Phần II: Tự luận:**

**Bài 1: Đặt tính rồi tính:**

$157 + 109$

$548 - 193$

$16 \times 5$

$86 : 2$

**Bài 2: Tìm x:**

a)  $X : 7 = 63$

b)  $X \times 6 = 54$

**Bài 3: Tính:**

a)  $28 \times 7 - 58$

b)  $96 : 3 + 249$

**Bài 4:** Mẹ có một tấm vải dài 48m. Mẹ đã may áo cho cả nhà hết  $\frac{1}{2}$  số vải đó. Hỏi mẹ đã may bao nhiêu mét vải ?

**Bài giải:**

.....  
 .....  
 .....  
 .....

**ĐỀ 5**

**KIỂM TRA ĐỊNH KÌ GIỮA HỌC KÌ I - NĂM HỌC 2011-2012**

**Môn: Toán – Lớp 3**

**Thời gian : 40 phút**

I/ Phân tích : Hãy khoanh vào chữ cái A, B, C hoặc D để trả lời câu hỏi đúng.

1/ 9 lọ kẹo của phép tính nào sau đây?

A.  $8 \times 4$

B.  $36 : 4$

C.  $15 - 7$

D.  $3 \times 9$

2/  $\frac{1}{3}$  của 15 lọ :

A. 3

B. 4

C. 5

D. 15

3/  $4 \times 7$  và  $4 \times 6$  đều hơn hoặc kém nhau bao nhiêu :

A. <

B. >

C. =

4/ Kết quả của phép nhân  $18 \times 5$  là :

A. 87

B. 88

C. 89

C. 90

5/ Kết quả của phép chia  $48 : 6$  là :

A. 6

B. 7

C. 8

D. 9



- A.6                          B.7                          C.8                          D.9
- Câu 3:**  $20 : 4 \times 5 = \dots$   
 Kết quả của phép tính là:  
 A.30                          B.25                          C.20                          D.24
- Câu 4:** 14 giờ 30 phút hay còn gọi là:  
 A.4 giờ chiều                          B.2 giờ chiều                          C.8 2 giờ 30 phút chiều                          D. 2 giờ

**Câu 5:**  $\frac{1}{2}$  của 16 giờ là:.....giờ. Số cần điền vào chỗ chấm là:

- A.6                          B.8                          C.3 2                          D. 14
- Câu 6:**  $32 : X = 8$  .Thì  $X = ?$   
 A.3                          B.4                          C.5                          D.6

**B. PhÇn tù luËn:**

Bài 1: Đặt tính rồi tính :

- a)  $129 + 245$                           b)  $463 - 138$                           c)  $36 \times 7$                           d)  $96 : 3$

Bài 2: Tìm X :

- a)  $27 : X = 3$                           b)  $X : 7 = 18$

Bài 3:Tính:

- a)  $48 \times 4 - 29$                           b)  $77 : 7 + 148$

Bài 4: Lan sưu tầm được 18 con tem, Ngọc sưu tầm được số tem gấp 3 lần số tem của Lan .Hỏi Ngọc sưu tầm được bao nhiêu con tem ?

Bài giải :

.....  
 .....  
 .....

**ĐỀ 7**

**KIỂM TRA ĐỊNH KÌ GIỮA HỌC KÌ I - NĂM HỌC 2011-2012**

**Môn: Toán – Lớp 3**

**Thời gian : 40 phút**

**I.PHẦN TRẮC NGHIỆM :**

**Bài 1:** Khoanh tròn chữ đặt trước kết quả đúng:

a. 32 giảm 4 lần

A.  $32 - 4 = 28$

B.  $32 : 4 = 6$

C.  $32 : 4 = 8$

b. 35 giảm 5 lần

A.  $35 - 5 = 30$

B.  $35 : 5 = 7$

C.  $35 : 5 = 6$

c. 24 giảm 3 lần

A.  $24 - 3 = 21$

B.  $24 : 3 = 7$

C.  $24 : 3 = 8$

**Bài 2:** Viết số thích hợp vào chỗ chấm:

a.  $\frac{1}{5}$  của 40 m là .... m;

b.  $\frac{1}{7}$  của 35 m là .... m;

**Bài 3:** Điền dấu <, >, = thích hợp vào chỗ chấm:

3m6cm....36cm

4dm3cm....43cm

**II. PHẦN TỰ LUẬN:**

**Bài 1:** Đặt tính rồi tính:

156 + 217

463 - 118

45 x 5

54 : 6

**Bài 2:** Tìm x:

a)  $x : 6 = 5$

b)  $x \times 7 = 70$

**Bài 3:** Tính:

a)  $19 \times 4 - 37$

b)  $30 : 3 + 125$

**Bài 4:** Bác An nuôi được 48 con thỏ, Bác Tâm nuôi gấp đôi số thỏ của Bác An. Hỏi Bác Tâm nuôi được bao nhiêu con thỏ.

**Bài giải:**

**ĐỀ 8**

**KIỂM TRA ĐỊNH KÌ GIỮA HỌC KÌ I - NĂM HỌC 2011-2012**

**Môn: Toán – Lớp 3**



**Thời gian : 40 phút**

**I. Trắc nghiệm:** Khoanh vào chữ cái đặt trước câu trả lời đúng:

**Bài 1.** Số 36052 đọc là:

- A. Ba mươi sáu nghìn không trăm năm mươi hai.
- B. Ba mươi sáu nghìn năm trăm hai mươi.
- C. Sáu mươi ba nghìn năm trăm hai mươi
- D. Sáu mươi ba nghìn không trăm năm mươi hai

**Bài 2.** Số thích hợp điền vào chỗ chấm để  $9m\ 2cm = \dots$  cm là:

- A. 92
- B. 902
- C. 920
- D. 9002

**Bài 3.** Tìm y      Biết  $y \times 3 = 93$

- A.  $y = 279$
- B.  $y = 301$
- C.  $y = 31$
- D. Không tìm được y

**Bài 4.**  $\frac{1}{5}$  của 15m là ... m      Số cần điền vào chỗ chấm là:

- A. 5
- B. 3
- C. 4
- D. Không có số nào

**Bài 5.** Đúng ghi Đ sai ghi S vào ô trống:

- a) Kết quả của dãy tính  $7 \times 5 + 27$  là 170
- b) Kết quả của dãy tính  $90 : 3 - 7$  là 23

**II. Phần tự luận:**

**1. Đặt tính rồi tính**

- a)  $457 + 209$
- b)  $784 - 365$
- c)  $17 \times 7$
- d)  $48 : 4$

.....

.....

.....

.....

**2. Tính:**

- a)  $5 \times 7 + 346 =$
- b)  $90 : 3 - 15 =$

.....

.....

**2. Bài toán:** Một thùng dầu có 40 lít. Sau khi sử dụng, số dầu còn lại trong thùng bằng  $\frac{1}{4}$  số dầu đã có. Hỏi trong thùng còn lại bao nhiêu lít dầu?

**ĐỀ 9**

**KIỂM TRA ĐỊNH KÌ GIỮA HỌC KÌ I - NĂM HỌC 2011-2012**

**Môn: Toán – Lớp 3**

**Thời gian : 40 phút**

**I. Phần I:** Em hãy khoanh tròn vào chữ cái trước câu trả lời đúng nhất:

1. Số 365 đọc là:

a/ Ba trăm sáu mươi

c/ Ba trăm sáu mươi lăm

b/ Ba trăm năm mươi sáu

d/ Ba trăm linh năm

2. Số “Chín trăm linh chín” viết là:

a/ 99

b/ 909

c/ 919

d/ 900

3. Có 24 bông hoa,  $\frac{1}{4}$  số bông hoa là:

a/ 6 bông hoa

b/ 24 bông hoa

c/ 4 bông hoa

d/ 8 bông hoa

4. 12 gấp 2 lần được:

a/ 14

b/ 16

c/ 24

d/ 12

5. Kết quả của dãy tính:  $9 \times 5 + 8$  là

a/ 53

b/ 48

c/ 117

d/ 40

6. 1m 5dm bằng:

a/ 15m

b/ 15dm

c/ 10dm

d/ 10m

**II. Phần II:**

1. Đặt tính rồi tính:

a/  $312 + 118$

b/  $443 - 116$

c/  $24 \times 3$

d/  $96 : 3$

2. Tìm X:

a/  $X \times 4 = 32$

b/  $27 : X = 3$

3. Tính:

a/  $27 \times 3 - 19$

b/  $16 \times 4 + 98$

4. Bài toán:

Nga hái được 6 bông hoa. Hằng hái được gấp 3 lần số hoa của Nga hái. Hỏi Hằng hái được mấy bông hoa ?

Bài giải:

**ĐỀ 10**

**KIỂM TRA ĐỊNH KÌ GIỮA HỌC KÌ I - NĂM HỌC 2011-2012**

**Môn: Toán – Lớp 3**

**Thời gian : 40 phút**

**I/ PHẦN TRẮC NGHIỆM:**

Khoanh vào chữ cái trước đáp án em cho là đúng:

Câu 1: Trong phép tính:  $63 : 7 = ?$  kết quả là:

A. 7                      B. 8                      C. 9                      D. 6

Câu 2: Trong phép tính:  $34 \times 4 = ?$  Kết quả là:

A. 124                    B. 136                    C. 140                    D. 30

Câu 3  $1\text{hm} = \dots\text{m}$

A. 10 m                  B. 100m                  C. 1000m                  D. 500m

Câu 4:  $\frac{1}{6}$  của 36 phút là:

A. 6 phút                  B. 8 phút                  C. 9 phút                  D. 10 phút

Câu 5: Một lớp học có 35 bạn, xếp đều thành 5 hàng. Vậy mỗi hàng có bao nhiêu bạn?

A. 5 bạn                  B. 6 bạn                  C. 7 bạn                  D. 8 bạn

Câu 6:  $32 : x = 8$  thì  $x = ?$

A.36                      B.24                      C.8                      D.4

**II. PHẦN THỰC HÀNH:**

Câu 1: Đặt tính rồi tính:

$624 + 284$                        $593 - 327$                        $44 \times 6$                        $84 : 4$

.....

.....

.....

.....

Câu 2: Tính:

a)  $28 \times 3 - 25$

b)  $84 : 4 + 139$

.....

.....

Câu 3: Một buổi tập múa có 7 bạn nam, số bạn nữ gấp 3 lần số bạn nam. Hỏi buổi tập múa có bao nhiêu bạn nữ?

Giải

.....  
 .....  
 .....  
 .....  
 .....

**ĐỀ 11**

**KIỂM TRA ĐỊNH KÌ GIỮA HỌC KÌ I - NĂM HỌC 2011-2012**

**Môn: Toán – Lớp 3**

**Thời gian : 40 phút**

**Phần I: Trắc nghiệm**

Mỗi bài tập dưới đây có các câu trả lời A, B, C, D. Hãy khoanh tròn chữ đặt trước câu trả lời đúng:

1/ Số 42 là kết quả của phép nhân nào?

- A.  $6 \times 6$                       B.  $6 \times 7$                       C.  $6 \times 9$                       D.  $6 \times 5$

2/  $7 \times 8 = \square$  Số cần điền vào ô trống là:

- A. 42                      B. 49                      C. 50                      D. 56

3/  $36 : 6 \square 35 : 7$

Dấu cần điền vào ô trống là:

- A.  $>$                       B.  $<$                       C.  $=$

4/  $8 \text{ hm} \square 80 \text{ m}$

Dấu cần điền vào ô trống là:

- A.  $=$                       B.  $<$                       C.  $>$

5/  $\frac{1}{4}$  của 80 kg là:

- A. 20 kg                      B. 30 kg                      C. 40 kg                      D. 50 kg

6/  $x - 36 = 149$  thì  $x = ?$

- A. 285                      B. 275                      C. 175                      D. 13

**Phần II: Tự luận**

1/Đặt tính rồi tính:

a.  $285 + 108$

b.  $452 - 136$

c.  $48 : 4$

d.  $66 : 6$

2/Tìm x

a)  $439 - x = 145$

b)  $x \times 7 = 70$

3/ Vẽ một đoạn thẳng có độ dài 5 cm

4/ Một cửa hàng bán vải ngày đầu bán được 35 m vải, ngày thứ hai bán được số vải gấp ba lần ngày đầu. Hỏi ngày thứ hai cửa hàng bán được bao nhiêu mét vải?

## ĐỀ 12

### KIỂM TRA ĐỊNH KÌ GIỮA HỌC KÌ I - NĂM HỌC 2011-2012

Môn: Toán – Lớp 3

Thời gian : 40 phút

**PHẦN I: TRẮC NGHIỆM :** Mỗi bài tập dưới đây có kèm theo một số câu trả lời A,B,C,D. Hãy khoanh vào chữ cái in hoa đặt trước câu trả lời đúng :

1. Số bé nhất có 4 chữ số là:

A. 1000

B. 1001

C.1010

D. 1111

2. Số lớn nhất có 3 chữ số là:

A. 990

B.999

C.900

D.100

3. Cho dãy số: 7; 14; 21; 28; .....; .....;49; 56; 63; 70. Hai số còn thiếu là:

A. 30 và 32

B. 36 và 38

C. 35 và 42

D. 38 và 40

4. Trong rổ có 18 quả cam, lấy ra  $\frac{1}{3}$  số quả cam. Như vậy đã lấy ra:

A. 3 quả cam

B. 6 quả cam

C. 15 quả cam

D. 12 quả cam

5.  $\frac{1}{6}$  của 24 giờ là ..... giờ. Số thích hợp điền vào chỗ chấm là:

A. 4

B. 12

C.18

D. 6

6.Trong các phép chia có dư với số chia là 5,thì số dư lớn nhất của các phép chia đó là:

A. 5

B. 4

C. 3

D. 2


7. Hình vẽ bên có ..... góc vuông. Số thích hợp điền vào chỗ chấm là:

A. 12

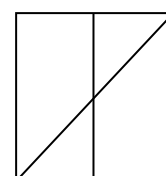
B.10

C. 8

D. 4



8. Trên hình vẽ bên có mấy tam giác, mấy hình vuông?



- A. 5 hình vuông, 4 hình tam giác      B. 4 hình vuông, 5 hình tam giác  
 C. 5 hình vuông, 6 hình tam giác      D. 6 hình vuông, 5 hình tam giác

**PHẦN II : TỰ LUẬN :**

**Bài 1. Đặt tính rồi tính:**

- a.  $426 + 137$                       b.  $590 - 76$                       c.  $27 \times 6$                       d.  $96 : 3$

**Bài 2. Tìm X:**

- a.  $X \times 6 = 54$                       b.  $49 : X = 7$

**Bài 3. Tính :**

- a.  $18 \times 6 - 29$                       b.  $90 : 3 + 108$

**Bài 4. Giải toán :**

Lớp em có 42 học sinh. Tổ em có số bạn bằng  $\frac{1}{7}$  số học sinh cả lớp.

Hỏi tổ em có bao nhiêu bạn ?

**ĐỀ 13**

**KIỂM TRA ĐỊNH KÌ GIỮA HỌC KÌ I - NĂM HỌC 2011-2012**

**Môn: Toán – Lớp 3**

**Thời gian : 40 phút**

**I. TRẮC NGHIỆM :**

Khoanh tròn vào chữ cái đặt trước câu trả lời đúng:

1)  $5m\ 5cm = \dots\dots\dots cm$ . Số cần điền vào chỗ chấm là:

- A. 10                      B. 55                      C. 505                      D. 550

2)  $\frac{1}{3}$  của 30 kg là  $\dots\dots\dots kg$ . Số cần điền vào chỗ chấm là:

- A. 10                      B. 33                      C. 27                      D. 90

3)  $7 \times 6 + 14 = ?$ . Kết quả của phép tính là:

- A. 17                      B. 56                      C. 63                      D. 42

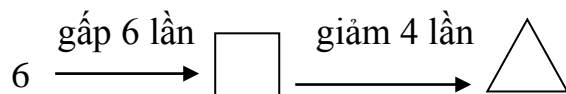
4)  $96 : 3 = ?$  Kết quả của phép tính là:

- A. 93                      B. 23                      C. 32                      D. 99

5)  $48 : x = 6$

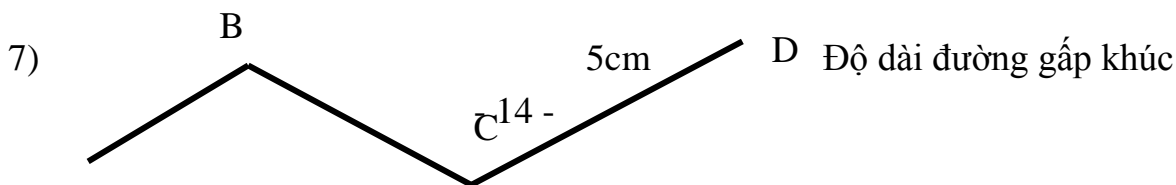
- A.  $x = 42$                       B.  $x = 288$                       C.  $x = 54$                       D.  $x = 8$

6)



Số cần điền vào hình vuông và hình tam giác là:

- A. 36 và 9                      B. 42 và 7                      C. 36 và 6                      D. 8 và 2



ABCD là:

A 3cm 4cm A.9 cm B.10cm C. 11cm D.12 cm

8)  $145 - 28 = ?$ . Kết quả của phép tính là:  
 A. 127 B. 117 C. 163 D. 173

**II: TƯ LUẬN:**

1) Đặt tính rồi tính:

$156 + 127$        $232 - 41$        $12 \times 6$        $68 : 2$

2) Tìm x:

$24 : x = 6$        $x \times 3 = 27$

3) Tính:

a)  $26 \times 7 - 109$       b)  $56 : 7 + 98$

4) Chị hái được 15 quả cam, mẹ hái được gấp đôi số cam của chị. Hỏi mẹ hái được bao nhiêu quả cam?

Bài giải:

.....  
 .....  
 .....

**ĐỀ 14**

**KIỂM TRA ĐỊNH KÌ GIỮA HỌC KÌ I - NĂM HỌC 2011-2012**

**Môn: Toán – Lớp 3**

**Thời gian : 40 phút**

**I. Trắc nghiệm:**

**1. Đúng ghi Đ, sai ghi S vào ô trống**

$7 \times 5 + 15 = 50$   ;  $6 \times 6 + 21 = 47$   ;  $1\text{hm} = 10\text{m}$   ;  $1\text{dm} = 100\text{mm}$

**2. Khoanh vào chữ đặt trước câu trả lời đúng :**

a) Số đã cho là 6, nhiều hơn số đã cho 3 đơn vị là số:

A. 3      B. 9      C. 18      D. 2

b) Số đã cho là 3. Gấp 6 lần số đã cho là số:

A. 9      B. 2      C. 3      D. 18

**3. Viết số thích hợp vào chỗ chấm:**

$2\text{ km} = \dots\dots\dots \text{m}$ ;  $7\text{ m} = \dots\dots\dots \text{dm}$ ;  $3\text{dam} = \dots\dots\dots \text{m}$ ;  $5\text{dm} = \dots\dots\dots \text{mm}$

**II. Tự luận:**

**1. Tính nhẩm:**

$24 : 4 = \dots\dots\dots$        $4 \times 5 = \dots\dots\dots$        $0 : 7 = \dots\dots\dots$        $30 : 6 = \dots\dots\dots$

**2. Đặt tính rồi tính**

$248 + 127$

$518 - 109$

$34 \times 7$

$93 : 3$

.....

.....

.....

.....

**3. Tìm y**

$y - 35 = 46$

$y \times 3 = 24$

$32 : y = 4$

.....

.....

**4. Bài giải:**

Cô giáo chia 36 học sinh thành các nhóm, mỗi nhóm có 4 học sinh. Hỏi chia được bao nhiêu nhóm ?

Bài giải:

.....

.....

.....

.....

**ĐỀ 15**

**KIỂM TRA ĐỊNH KÌ GIỮA HỌC KÌ I - NĂM HỌC 2011-2012**

**Môn: Toán – Lớp 3**

**Thời gian : 40 phút**

**PHẦN I: TRẮC NGHIỆM**

Hãy khoanh vào chữ đặt trước câu trả lời đúng:

Bài 1) Số 981 đọc là :

A. Chín trăm tám mươi mốt

C. Chín trăm tám mươi

B. Chín tám một

D. Chín mươi tám

Bài 2) 8 lít gấp lên 7 lần thì được:

A. 8 lít + 7 = 15 lít

C. 8 lít – 7 = 1 lít

B. 8 lít x 7 = 56 lít

D. 8 lít x 2 = 16 lít



**Bài 3)**  $\frac{1}{3}$  của 69cm là:

A. 18 cm

C. 23 cm

B. 42 cm

D. 22 cm

**PHẦN II : TỰ LUẬN**

**Bài 1:** Tính nhẩm :

$5 \times 7 = \dots$

$6 \times 6 = \dots$

$3 \times 7 = \dots$

$7 \times 8 = \dots$

$49 : 7 = \dots$

$54 : 6 = \dots$

$35 : 5 = \dots$

$42 : 6 = \dots$

**Bài 2:** Đặt tính rồi tính :

$244 + 328$

$351 - 105$

$56 \times 7$

$42 : 6$

**Bài 3:** Tính

a)  $15 \times 7 - 59$

b)  $93 : 3 + 109$

**Bài 4:** Một lớp học có 32 học sinh. Số học sinh giỏi của lớp  $\frac{1}{4}$  chiếm tổng số học sinh của lớp. Hỏi lớp đó có bao nhiêu học sinh giỏi?

Bài giải:

.....

.....

.....

.....

.....

**ĐỀ 16**

**KIỂM TRA ĐỊNH KÌ GIỮA HỌC KÌ I - NĂM HỌC 2011-2012**

**Môn: Toán – Lớp 3**

**Thời gian : 40 phút**

**Phần I: Trắc nghiệm**

**Khoanh vào chữ cái đặt trước câu trả lời đúng.**

1- Tìm x, biết:

$x : 7 = 21 \text{ dư } 3$

A.  $x = 150$

B.  $x = 147$

C.  $x = 144$

2-  $3\text{m } 4\text{cm} = \dots$  Số thích hợp điền vào chỗ chấm là:

A. 340cm

B. 34cm

C. 304cm



**Câu 1:  $6 \times 9 + 6 = \dots$**

Số cần điền vào chỗ chấm là:

- A. 54                      B. 56                      C. 60                      D. 63

**Câu 2:  $7 \times 9 = \dots$**

Số cần điền vào chỗ chấm là:

- A. 63                      B. 36                      C. 64                      D. 70

**Câu 3:  $X \times 6 = 48$**

Số X cần tìm là:

- A. 7                      B. 8                      C. 42                      D. 54

**Câu 4:  $6m3cm = \dots cm$**

Số cần điền vào chỗ chấm là:

- A. 63 cm                      B. 603 cm                      C. 630 cm                      D. 600 cm

**Câu 5: Hồng hái được 6 quả cam, Lan hái được gấp 7 lần số cam của Hồng.**

**Số cam Lan hái được là:**

- A. 13 quả                      B. 35 quả                      C. 43 quả                      D. 42 quả

**Câu 6:  $\frac{1}{7}$  của 56 là:**

- A.63                      B.49                      C.7                      D.8

**II/ Phần thực hành:**

**Câu 1: Tính**

$$\begin{array}{r} 32 \\ \times 3 \\ \hline \end{array}$$

$$\begin{array}{r} 26 \\ \times 4 \\ \hline \end{array}$$

$$84 \overline{)4}$$

$$69 \overline{)3}$$

**Câu 2: Tìm x:**

$$56 : x = 7$$

$$x \times 6 = 42$$

.....  
 .....

**Câu 3: Tính:**

a)  $7 \times 9 - 18$

b)  $6 \times 8 + 134$

.....  
 .....

**Câu 4:** Lớp 3A thu nhặt được 36 kg giấy vụn, lớp 3B thu nhặt được gấp 2 lần số giấy lớp 3A. Hỏi lớp 3B thu nhặt được bao nhiêu ki-lô-gam giấy vụn ?

**ĐỀ 18**

**KIỂM TRA ĐỊNH KÌ GIỮA HỌC KÌ I - NĂM HỌC 2011-2012**

**Môn: Toán – Lớp 3**

**Thời gian : 40 phút**

I/ PHẦN TRẮC NGHIỆM:

Khoanh tròn vào câu trả lời đúng nhất:

1/ Số chín trăm tám mươi ba được viết là:

- A. 903                      B. 938                      C. 983                      D. 389

2/ Bình có 4 hộp kẹo mỗi hộp có 8 cái kẹo. Hỏi Bình có tất cả bao nhiêu cái kẹo?

- A. 30 cái kẹo                      B. 32 cái kẹo                      C. 42 cái kẹo                      D. 28 cái

kẹo

3/  $84 \times 3 = ?$

- A. 522                      B. 225                      C. 252                      D. 242

4/  $48 : 2 = ?$

- A. 96                      B. 24                      C. 84                      D. 42

5/  $7 \times 3 + 29 = ?$

- A. 50                      B. 51                      C. 49                      D. 52

6/  $3m\ 4cm = \dots cm$ . Số thích hợp để điền vào chỗ chấm là:

- A. 3400                      B. 340                      C. 304                      D. 34

II. PHẦN THỰC HÀNH:

1/ Đặt tính rồi tính:

$132 + 248$                        $317 - 109$                        $26 \times 4$                        $86 : 2$

.....  
 .....  
 .....

2/ Tìm x: ( 1 điểm )

$49 : x = 7$

$28 : x = 4$

.....  
 .....

3/ Tính:

a)  $7 \times 9 - 18$

b)  $6 \times 8 + 134$

.....  
 .....

4/ Chị nuôi được 48 con gà, mẹ nuôi được gấp 3 lần số gà của chị. Hỏi mẹ nuôi được bao nhiêu con gà ?

Bài giải

.....  
 .....  
 .....

**ĐỀ 19**

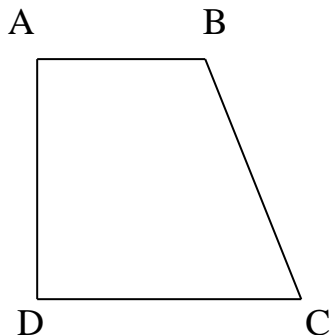
**KIỂM TRA ĐỊNH KÌ GIỮA HỌC KÌ I - NĂM HỌC 2011-2012**

**Môn: Toán – Lớp 3**

**Thời gian : 40 phút**

**I. Phần Trắc nghiệm :**

1.  $\frac{1}{3}$  của 24 kg là :  
 a. 9                      b. 8kg                      c. 18kg                      d. 9kg
2. 2 ngày có :  
 a. 72 giờ                      b. 72 phút                      c. 77 phút                      d. 48 giờ
3. Trong các phép chia sau, phép chia nào là phép chia có dư :  
 a.  $42 : 2$                       b.  $15 : 3$                       c.  $27 : 5$                       d.  $60 : 6$
4. Kết quả của phép tính  $23 : 3$  là :  
 a. 9 ( dư 1 )                      b. 9 ( dư 2 )                      c. 8                      d. 7 ( dư 2 )
5. Lấy số 42 giảm đi 6 lần rồi giảm đi 4 đơn vị thì có số :  
 a. 6                      b. 3                      c. 2                      d. 4
6. Kết quả của dãy tính  $45 : 5 \times 3$  là:  
 a. 32                      b. 36                      c. 27                      d. 21
7. Chu vi của hình tam giác ABC có cạnh :  
 $AB = 24 \text{ cm}, BC = 45 \text{ cm}, CA = 53 \text{ cm}$  là :  
 a. 121                      b. 122 cm                      c. 121 cm                      d. 112cm
8. Hình tứ giác ABCD có mấy góc vuông :



- a. 1
- b. 2
- c. 3
- d. 4

**II. Phần tự luận :**

**1. Đặt tính rồi tính**

- a.  $256 + 537$                       b.  $635 - 327$                       c.  $37 \times 5$                       d.  $69 : 3$

.....

.....

.....

**2. Tìm x :**

- a)  $x : 3 = 5$                       b)  $30 : x = 6$

.....

.....



**Bài 3:** Một trại có 70 con lợn, trại đã bán số lợn đó. Hỏi trại đã bán bao nhiêu con lợn ?

Bài giải :

.....  
 .....  
 .....

**ĐỀ 21**

**KIỂM TRA ĐỊNH KÌ GIỮA HỌC KÌ I - NĂM HỌC 2011-2012**

**Môn: Toán – Lớp 3**

**Thời gian : 40 phút**

**I /PHẦN TRẮC NGHIỆM :**

**Bài 1:** Khoanh tròn vào câu trả lời đúng nhất.

a) Kết quả của phép tính  $5 \times 7 + 59$  là:

- A. 93                      B. 94                      C. 49                      D. 330

b) Chiều dài bước chân em khoảng:

- A. 4m                      B. 4dm                      C. 4cm                      D. 4mm

c) Trong các phép chia dưới đây, phép chia có thương lớn nhất là:

- A.  $45 : 5$                       B.  $40 : 5$                       C.  $42 : 7$                       D.  $42 : 6$

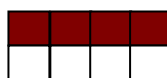
d) Đã tô màu vào  $\frac{1}{4}$  hình nào ?



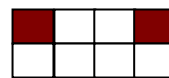
**A**



**B**



**C**



**D**

**Bài 2:.** Đúng ghi Đ, sai ghi S:

a)  $6\text{km} = 6000\text{m}$

b)  $7\text{m} = 7000\text{cm}$

c)  $5\text{m}2\text{dm} = 52\text{dm}$

c)  $4\text{km}5\text{dam} = 405\text{dam}$

**Bài 3:** Viết số thích hợp vào chỗ chấm:

a) Hiện nay em 8 tuổi, tuổi bố gấp 5 lần tuổi em. Hiện nay tuổi của bố là..... tuổi.

b)  $\frac{1}{5}$  của 1m là ..... cm.

II/PHẦN TỰ LUẬN :

**Bài 1:** Đặt tính rồi tính:

- a)  $206 + 139$       b)  $453 - 236$       c)  $35 \times 7$       d)  $84 : 4$

**Bài 2:** Tính:

- a)  $26 \times 7 - 96$       b)  $84 : 4 + 125$

**Bài 3:** Mỗi thùng có 45 quyển sách. Hỏi 6 thùng như thế có tất cả bao nhiêu quyển sách?

**ĐỀ 22**


**KIỂM TRA ĐỊNH KÌ GIỮA HỌC KÌ I - NĂM HỌC 2011-2012**

**Môn: Toán – Lớp 3**

**Thời gian : 40 phút**

**TRẮC NGHIỆM :**

*Khoanh tròn vào chữ đặt trước kết quả đúng:*

|  |   |                  |
|--|---|------------------|
| 1. Kết quả của phép tính $53 \times 4$ là:   | A. 512<br>C. 202  | B. 212<br>D. 221 |
| 2. Kết quả của phép tính $42 : 7 + 5$ là:  | A. 6<br>C. 12   | B. 10<br>D. 11   |
| 3. Kết quả của x trong phép tính $63 : x = 7$ là:  | A. 441<br>C. 442  | B. 9<br>D. 70    |
| 4. $\frac{1}{5}$ của 45m là:   | A. 8m<br>C. 6m  | B. 7m<br>D. 9m   |
| 5. Trong phép chia có dư với số chia là 4 số dư lớn nhất của phép chia đó là:                          | A. 1<br>C. 3  | B. 2<br>D. 4     |
| 6. Đồng hồ chỉ:<br> | A. 1 giờ 50 phút      B. 5 giờ 10 phút<br>C. 1 giờ 25 phút      D. 2 giờ 5 phút |                  |
| 7. Em có 26 quyển vở, sau khi dùng thì số vở của em giảm đi 2 lần. Hỏi em đã dùng mấy                  | A. 24<br>C. 12  | B. 20<br>D. 13   |



|   |                  |                    |
|---|------------------|--------------------|
| quyển vở ?  |                  |                    |
| 8 . 6m4cm = .....cm .Số thích hợp để điền vào chỗ chấm là : | A : 64<br>C .640 | B .604<br>C . 6400 |

### TỰ LUẬN

**Bài 1:** Đặt tính rồi tính :

$$137 + 125 \qquad 316 - 108 \qquad 27 \times 5 \qquad 96 : 3$$

**Bài 2:** Tìm x :

$$X \times 6 = 54 \qquad 49 : X = 7$$

**Bài 3:** Tính

a)  $15 \times 4 - 28$

b)  $36 : 3 + 129$

**Bài 4:**

Một cửa hàng ngày đầu bán được 28 kg đường. Ngày thứ hai bán gấp đôi ngày đầu. Hỏi ngày thứ hai cửa hàng bán được bao nhiêu ki-lô-gam đường ?

## ĐỀ 23

### KIỂM TRA ĐỊNH KÌ GIỮA HỌC KÌ I - NĂM HỌC 2011-2012

**Môn: Toán – Lớp 3**

**Thời gian : 40 phút**

#### I. PHẦN TRẮC NGHIỆM :

Khoanh vào chữ cái đặt trước câu trả lời đúng :

1. Số sáu trăm linh bảy viết là :

A.670      B.607      C.67      D.76

2.  $x : 7 = 6$  thì  $x = ?$

A .1      B.6      C.131      D.42

3.  $\frac{1}{7}$  của 42 là :

A.294      B.49      C.35      D.6

4. Kết quả của phép tính  $137 + 246$  là :

A.373      B.383      C.113      D.131

5.  $2m3cm = \dots\dots cm$  .Số thích hợp để điền vào chỗ chấm là :

A.2300      B.230      C.203      D.23

6. 7 gấp lên 3 lần thì bằng :

A.10      B.4      C. 14      D.21

#### II. PHẦN TỰ LUẬN:

1. Đặt tính rồi tính:

$127 + 315$

$423 - 106$

$59 \times 6$

$93 : 3$

2. Tính:

$a/ 7 \times 5 + 15$

$b/ 36 : 4 + 32$

3. Tính:

$a/ 42 : x = 7$

$b/ X \times 6 = 30$

4. Bài toán:

Mẹ có 54 quả cam, sau khi đem bán thì số cam còn lại giảm đi 6 lần. Hỏi mẹ còn lại bao nhiêu quả cam ?

**Bài giải**

## ĐỀ 24

### KIỂM TRA ĐỊNH KÌ GIỮA HỌC KÌ I - NĂM HỌC 2011-2012

Môn: Toán – Lớp 3

Thời gian : 40 phút

#### I. PHẦN TRẮC NGHIỆM :

Khoanh vào chữ cái đặt trước câu trả lời đúng:

a) Trong các phép chia có dư với số chia là 3, số dư lớn nhất của các phép chia là:

A. 3

B. 2

C. 1

D. 0

b) Phép nhân nào có kết quả bằng 30:

A.

B.

C.

D.

c)  $3\text{dm } 4\text{mm} = \dots \text{cm}$  . Số thích hợp để điền vào chỗ chấm là :

A. 34                      B.304                      C.340                      D. 3400

d)  $x : 7 = 8$  thì  $x = ?$

A. 13                      B. 35                      C. 45                      D. 56

e) Năm nay con 6 tuổi, tuổi mẹ gấp 6 lần tuổi con . Vậy tuổi mẹ là :

A.12                      B.30                      C.36                      D.38

g)  $\frac{1}{5}$  của 35 là :

A. 40                      B.30                      C.7                      D. 5

## II.PHẦN TỰ LUẬN:

**Bài 1:** Đặt tính rồi tính:

a)  $137 + 125$                       b)  $340 - 128$                       c)  $18 \times 7$                        $69 : 3$

**Bài 2:** Tìm x:

a)  $x : 4 = 36$                        $x \times 4 = 84$

**Bài 3:**

a) Vẽ một đoạn thẳng AB có độ dài 9 cm

b) Vẽ đoạn thẳng CD có độ dài bằng  $\frac{1}{3}$  độ dài đoạn thẳng AB

**Bài 4:** Con hái được 7 quả cam, mẹ hái được số cam gấp 5 lần số cam của con. Hỏi mẹ hái được bao nhiêu quả cam?

## ĐỀ 25

### KIỂM TRA ĐỊNH KÌ GIỮA HỌC KÌ I - NĂM HỌC 2011-2012

**Môn: Toán – Lớp 3**

**Thời gian : 40 phút**

**I. TRẮC NGHIỆM:** Em hãy khoanh tròn vào chữ cái đặt trước kết quả đúng:

1/ Số liền trước số lớn nhất có ba chữ số là:

A. 999                      B. 900                      C. 998                      D. 1000

2/ Trong một phép trừ có số trừ là 476 và hiệu là 183 thì số bị trừ là:

A. 476                      B. 293                      C. 183                      D. 659

3/ Biết  $x \times 3 = 27$ , giá trị của  $x$  bằng:

A.  $x = 3$                       B.  $x = 81$                       C.  $x = 9$                       D.  $x = 27$

4/ Kết quả của phép nhân  $15 \times 7$  là:

- A. 75                      B. 105                      C. 95                      D. 115

5/  $9\text{dm } 4\text{cm} = \dots\dots \text{cm}$ ?

- A. 904cm                      B. 94cm                      C. 13cm                      D. 49cm

6/  $\frac{1}{3}$  của 24kg là:

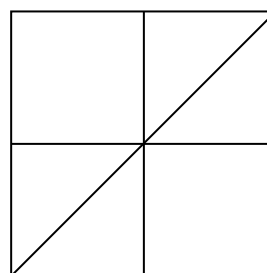
- A. 12kg                      B. 8kg                      C. 6kg                      D. 72kg

7/ Kết quả của phép chia  $88 : 2$  là:

- A. 44                      B. 33                      C. 42                      D. 32

8/ Hình bên có:

- A. 4 hình vuông, 4 hình tam giác  
 B. 5 hình vuông, 4 hình tam giác  
 C. 5 hình vuông, 6 hình tam giác  
 D. 5 hình vuông, 5 hình tam giác



**II. PHẦN TỰ LUẬN:**

**Bài 1:** Tính giá trị của biểu thức:

a)  $34 \times 2 + 125$

b)  $84 \times 3 - 95$

**Bài 2:** Điền dấu (>, <, =)

a)  $5\text{hm } 17\text{m} \square 517\text{m}$

b)  $1\text{m } 15\text{cm} \square 105\text{cm}$

**Bài 3:** Đặt tính rồi tính:

$258 + 136$

$188 - 49$

$64 \times 4$

$96 : 3$

**Bài 4:** Năm nay Tùng 7 tuổi. Số tuổi của bố gấp 6 lần số tuổi của Tùng. Hỏi năm nay bố Tùng bao nhiêu tuổi?

**ĐỀ 26**

**KIỂM TRA ĐỊNH KÌ GIỮA HỌC KÌ I - NĂM HỌC 2011-2012**

**Môn: Toán – Lớp 3**

**Thời gian : 40 phút**

**I/ PHẦN TRẮC NGHIỆM:** Khoanh tròn vào chữ cái đặt trước câu trả lời đúng:

**Câu 1:** Kết quả phép tính  $5 \times 7 = ?$

- A. 12                      B. 35                      C. 53                      D. 21

**Câu 2:** Kết quả phép tính  $48 : 6 = ?$

A. 6    B. 7    C. 8    D. 9

Câu 3:  $\frac{1}{6}$  của 42 m là:

A. 5 m    B. 6 m    C. 7 m    D. 8 m

Câu 4: 2 m 14 cm = ?


A. 16 cm    B. 34 cm    C. 2014 cm    D. 214 cm

Câu 5: 9 gấp lên 6 lần là:

A. 45    B. 54    C. 3    D. 15

Câu 6: Độ dài đoạn thẳng AB là:

A    B



A. 4 cm    B. 5 cm  
C. 6 cm    D. 8 cm

## II/ PHẦN TỰ LUẬN:

1. Đặt tính rồi tính

a)  $46 \times 7$     b)  $432 - 108$     c)  $15 \times 4$     d)  $82 : 2$

2. Tìm x:

a)  $x : 7 = 14$     b)  $48 : x = 6$

3. Tính

a)  $6 \times 9 - 15$     b)  $7 \times 6 + 19$

4. Tổ Một trồng được 18 cây, tổ Hai trồng được gấp 3 lần số cây của tổ Một. Hỏi tổ Hai trồng được bao nhiêu cây?

## **ĐỀ 27**

### **KIỂM TRA ĐỊNH KÌ GIỮA HỌC KÌ I - NĂM HỌC 2011-2012**

**Môn: Toán – Lớp 3**

**Thời gian : 40 phút**

#### **PHẦN I: TRẮC NGHIỆM**

Khoanh vào chữ cái đặt trước câu trả lời đúng

**Câu 1:** Khoanh vào trước câu trả lời đúng 1dam = ....m

- A. 5m,                  B. 6m,                  C. 9m,                  D. 10m

**Câu 2:** Tích của 7 và 6 là:

- A. 56                  B. 54                  C. 42                  D. 36

**Câu 3:**  $\frac{1}{6}$  của 36 là:

- A. 42                  B. 30                  C. 20                  D. 6

**Câu 4:** Kết quả của phép cộng  $145 + 239$  là:

- A. 374                  B. 384                  C. 474                  D. 574

**Câu 5:** Số ba trăm linh năm viết là:

- A. 530                  B. 503                  C. 350                  D. 305

**Câu 6:**  $127 - x = 18$  thì  $x = ?$

- A. 145                  B. 135                  C. 109                  D. 119

**PHẦN II: TỰ LUẬN**

**Câu 1:** Tính

a)  $28 \times 4 - 57$

b)  $96 : 3 + 127$

.....  
 .....

**Câu 2:** Đặt tính rồi tính:

a)  $53 \times 4$

b)  $345 + 120$

c)  $627 - 127$

c)  $84 : 4$

.....  
 .....  
 .....  
 .....

**Câu 3:** Tìm x

a)  $x + 12 = 36$

b)  $42 : x = 6$

.....  
 .....

**Câu 4:** Trong thùng có 36 lít dầu. Sau khi sử dụng, số lít dầu trong thùng bằng  $\frac{1}{3}$  số dầu đã có. Hỏi trong thùng còn lại bao nhiêu lít dầu?

**Bài giải**

.....  
 .....  
 .....

**ĐỀ 28**

**KIỂM TRA ĐỊNH KÌ GIỮA HỌC KÌ I - NĂM HỌC 2011-2012**

**Môn: Toán – Lớp 3**

**Thời gian : 40 phút**

**I. PHẦN TRẮC NGHIỆM:**

Khoanh tròn vào chữ cái trước câu trả lời đúng.

Câu 1: Số lớn nhất trong các số: 536; 499; 563; 601.

- A. 536                      B. 499                      C. 563                      D. 601

Câu 2:  $\frac{1}{5}$  của 40 m là:

- A. 7m                      B. 8m                      C. 6m                      D. 9m

Câu 3: Kết quả của biểu thức:  $8 : 4 \times 3 = \dots$  là:

- A. 6                      B. 12                      C. 2                      D. 24

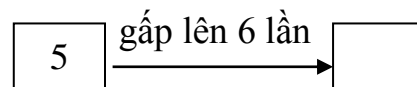
Câu 4: Có 48kg gạo chia đều vào 4 túi. Số kg gạo mỗi túi có là:

- A. 14 kg                      B. 21 kg                      C. 12 kg                      D. 24 kg

Câu 5: Có 30 viên bi,  $\frac{1}{6}$  số bi đó là:

- A. 6 viên bi                      B. 5 viên bi                      C. 3 viên bi                      D. 10 viên bi

Câu 6: Chữ số thích hợp để điền vào ô trống bên là:



- A. 11                      B. 25                      C. 30                      D. 35

**II. PHẦN TỰ LUẬN:**

Bài 1: Đặt tính rồi tính:

265 + 127                      704 – 62                      45 x 4                      84 : 4

.....  
 .....  
 .....

Bài 2: Tìm x. .

56 : x = 7    x : 6 = 5

Bài 3.Tính:

a) 26 x 7 – 35    86 : 2 + 138

.....  
 .....

Bài 4: Một cửa hàng có 42 m vải , sau một ngày bán hàng thì số mét vải còn lại giảm đi 6 lần. Hỏi cửa hàng còn lại bao nhiêu mét vải?

**ĐỀ 29**

**KIỂM TRA ĐỊNH KÌ GIỮA HỌC KÌ I - NĂM HỌC 2011-2012**

**Môn: Toán – Lớp 3**

**Thời gian : 40 phút**

**I. PHẦN TRẮC NGHIỆM :**

Khoanh vào chữ cái đặt trước câu trả lời đúng :

Câu 1 : cửa 56m là:

- A.63m                      B.49m                      C.39m                      D.8m

Câu 2 :  $X - 18 = 35$  thì  $X = ?$

- A.17                      B.27                      C. 43                      D.53

Câu 3:  $4m2cm = \dots cm$ . Số thích hợp để điền vào chỗ chấm là :

- A.42                      B.402                      C. 420                      D.4200

Câu 4 :  $422 - 108 = \dots$ . Số thích hợp điền vào chỗ chấm là :

- A.224                      B.324                      C.314                      D.530

Câu 5: 48 giảm đi 6 lần thì bằng :

- A.288                      B.54                      C.42                      D.8

Câu 6: Số bốn trăm bốn mươi viết là :

- A.404                      B.440                      C.4040                      D.4400

**II. PHẦN TRẮC NGHIỆM :**

Bài 1: Đặt tính rồi tính :

$328 + 134$                        $430 - 127$                        $87 \times 6$                        $96 : 3$

.....

.....

.....

Bài 2: Tính :

a)  $15 \times 7 - 29$                       b)  $48 \times 6 + 95$

.....

.....

Bài 3: Tìm x :

a)  $X \times 5 = 25$                       b)  $49 : x = 7$

.....

.....

Bài 4: Lan có 7 cái tem ,số tem của Huệ gấp 6 lần số tem của Lan .Hỏi Huệ có bao nhiêu cái tem ?

**Bài giải:**



.....  
 .....  
 .....  
 .....

**ĐỀ 30**

**KIỂM TRA ĐỊNH KÌ GIỮA HỌC KÌ I - NĂM HỌC 2011-2012**

**Môn: Toán – Lớp 3**

**Thời gian : 40 phút**

**I/ Phần trắc nghiệm :**

Em hãy khoanh tròn vào chữ cái đặt trước câu trả lời đúng .

**Câu 1:** Kết quả phép tính  $7 \times 8$  là:

- A. 40                      B. 56                      C. 65

**Câu 2:**  $49 : 7 = \dots\dots\dots$

Số cần điền vào chỗ chấm là:

- A. 6                      B. 5                      C. 7

**Câu 3:** Kết quả phép tính  $: 27 \times 6$  là:

- A. 162                      B. 216                      C. 126

**Câu 4:**  $\frac{1}{6}$  của 54 phút là .....phút

Số cần điền vào chỗ chấm là:

- A. 6                      B. 9                      C. 7

**Câu 5 :**  $4m\ 7cm = \dots\dots\dots cm$

- A. 470                      B. 740                      C. 407

**Câu 6 :**  $x : 3 = 18$  thì  $x = ?$

- A. 15                      B. 21                      C. 34

**II/ Phần tự luận**

**Câu 1: Tính :**

$$\begin{array}{r} 234 \\ + \\ \hline 432 \end{array}$$

$$\begin{array}{r} 652 \\ - \\ \hline 126 \end{array}$$

$$\begin{array}{r} 57 \\ \times \\ \hline 6 \end{array}$$

$$64 \overline{) 2}$$

.....  
 .....  
 .....  
 .....

**Câu 2: Tìm X**

a)  $x \times 6 = 30$

b)  $40 : x = 10$

.....  
 .....

.....  
 Câu 3: Tính:

a)  $16 \times 7 - 38$

b)  $96 : 3 + 139$

**Câu 4 :** Trong thùng có 69 lít dầu .Sau khi sử dụng số dầu còn lại trong thùng bằng  $\frac{1}{3}$  số dầu đã có . Hỏi trong thùng còn bao nhiêu lít dầu ?

Bài giải

.....  
 .....

**ĐỀ 31**

**KIỂM TRA ĐỊNH KÌ GIỮA HỌC KÌ I - NĂM HỌC 2011-2012**

**Môn: Toán – Lớp 3**

**Thời gian : 40 phút**

**Phần I: Trắc nghiệm**

Em hãy khoanh vào chữ đặt trước câu trả lời đúng nhất:

1. Tích của 7 và 8 là:

A. 15

B. 49

C. 56

D. 63

2.  $6\text{km } 7\text{dam} = \dots\dots\text{dam}$

A. 76

B. 67

C. 607

D. 670

3.  $54 : x = 6$ . x có kết quả là:

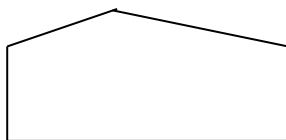
A. 9

B. 324

C. 19

D. 48

4. Hình bên có bao nhiêu góc vuông?



A. 1 góc vuông

B. 2 góc vuông

C. 3 góc vuông

D. 4 góc vuông

5. Điền  $<$ ,  $>$ ,  $=$  ?

a.  $27 + 15 - 15 \square 27$

b.  $49 : 7 + 7 \square 7$

6. Con 7 tuổi, tuổi mẹ gấp 4 lần tuổi con. Vậy mẹ mấy tuổi?

A. 11 tuổi

B. 28 tuổi

C. 32 tuổi

D. 36 tuổi

**Phần II: Tự luận**

**Bài 1:** Đặt tính rồi tính

a)  $428 + 190$

b)  $809 - 67$

c)  $27 \times 3$

d)  $84 : 4$

.....  
 .....

**Bài 2:** Tìm x

a)  $x - 115 = 68$

b)  $30 : x = 5$

**Bài 3:** Tính

a)  $7 \times 8 - 26$

b)  $6 \times 6 + 125$

**Bài 4:** Trong thùng có 69l dầu. Sau khi sử dụng, số dầu còn lại trong thùng bằng  $\frac{1}{3}$  số dầu đã có. Hỏi trong thùng còn lại bao nhiêu lít dầu?

**ĐỀ 32**

**KIỂM TRA ĐỊNH KÌ GIỮA HỌC KÌ I - NĂM HỌC 2011-2012**

**Môn: Toán – Lớp 3**

**Thời gian : 40 phút**

**I. Phần trắc nghiệm:**

Hãy khoanh tròn vào chữ cái trước câu trả lời đúng:

**Câu 1:** Số lớn nhất trong các số 375, 735, 537, 753 là:

A. 375

B. 753

C. 735

D. 537

**Câu 2:** Kết quả của phép tính  $24 : 3$  là:

A. 24

B. 3

C. 8

D. 4

**Câu 3:**  $\frac{1}{6}$  của 48m là:

A. 6m

B. 8m

C. 4m

D. 5m

**Câu 4:**  $6m3cm = \dots\dots cm$ . Số thích hợp điền vào chỗ chấm là:

A. 63

B. 630

C. 603

D. 36

**Câu 5:** 7 gấp 8 lần là:

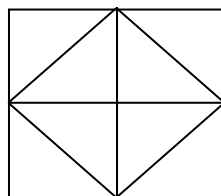
A. 13

B. 49

C. 56

D. 36

**Câu 6:** Trong hình bên có ..... hình vuông



**II. Phần tự luận:**

**Bài 1:** Đặt tính rồi tính:

$415 + 514$

$433 - 25$

$38 \times 3$

$93 : 3$

**Bài 2:** Tìm x:

$$x + 45 = 76$$

$$45 : x = 5$$

**Bài 3:** Tính:

a)  $6 \times 7 + 214$

b)  $7 \times 8 - 29$

**Bài 4:** Nhà em nuôi 48 con gà. Sau khi đem bán thì số gà giảm đi 4 lần. Hỏi nhà em còn lại bao nhiêu con gà?

### ĐỀ 33

#### KIỂM TRA ĐỊNH KÌ GIỮA HỌC KÌ I - NĂM HỌC 2011-2012

**Môn: Toán – Lớp 3**

**Thời gian : 40 phút**

#### **I. PHẦN TRẮC NGHIỆM:**

Khoanh tròn vào chữ cái đặt trước câu trả lời đúng:

1.  $1 \text{ m} = \dots \text{ dm}$   
 A. 10                                      B. 100                                      C. 101                                      D. 111
2.  $\frac{1}{4}$  của 36 m là:  
 A. 6 m                                      B. 7 m                                      C. 8 m                                      D. 9 m
3.  $42 : 6 = ?$   
 A. 5                                      B. 6                                      C. 7                                      D. 8
4. 4 gấp lên 7 lần là:  
 A. 11                                      B. 28                                      C. 47                                      D. 74
5. Số thích hợp điền vào chỗ chấm là: 12, 16, 20, ....., 28  
 A. 14                                      B. 18                                      C. 22                                      D. 24
6. Mỗi tuần lễ có 7 ngày. Vậy 2 tuần lễ có bao nhiêu ngày?  
 A. 12 ngày                                      B. 13 ngày                                      C. 14 ngày                                      D. 15 ngày

#### **II. PHẦN TỰ LUẬN:**

1. Đặt tính rồi tính  
 a)  $37 \times 2$                                       b)  $15 \times 6$                                       c)  $84 : 4$                                       d)  $66 : 3$

.....  
 .....  
 .....  
 .....

2. Tính:

|   |   |
|---|---|
| a) $7\text{cm} + 6\text{cm} = \dots\dots\dots$                | b) $63\text{m} - 45\text{m} = \dots\dots\dots$            |
| c) $6 \times 5 + 24 = \dots\dots\dots$<br>= $\dots\dots\dots$ | d) $36 : 4 + 10 = \dots\dots\dots$<br>= $\dots\dots\dots$ |

3. Tìm y

|                |                      |
|----------------|----------------------|
| a) $y : 6 = 5$ | b) $4 \times y = 28$ |
|----------------|----------------------|

.....  
 .....

4. Một cửa hàng có 36 lít nước mắm và đã bán được  $\frac{1}{4}$  số nước mắm đó. Hỏi cửa hàng đã bán bao nhiêu lít nước mắm?

Bài giải

.....  
 .....  
 .....

**ĐỀ 34**

**KIỂM TRA ĐỊNH KÌ GIỮA HỌC KÌ I - NĂM HỌC 2011-2012**

**Môn: Toán – Lớp 3**

**Thời gian : 40 phút**

**I. PHẦN TRẮC NGHIỆM:**

**1. Khoanh vào chữ đặt trước câu trả lời đúng**

- |  |      |       |       |
|--|------|-------|-------|
| a) Số đã cho là 6, nhiều hơn số đã cho 3 đơn vị là số: |      |       |       |
| A. 3   | B. 9 | C. 18 | D. 2  |
| b) Số đã cho là 3. Gấp 6 lần số đã cho là số:          |      |       |       |
| A. 9   | B. 2 | C. 3  | D. 18 |

**2. Đúng ghi Đ, sai ghi S vào ô trống**

$7 \times 5 + 15 = 50$   ;  $6 \times 6 + 21 = 47$   ;  $1\text{hm} = 10\text{m}$   ;  $1\text{dm} = 100\text{mm}$

**3. Viết số thích hợp vào chỗ chấm:**

$3\text{km} = \dots\dots\dots \text{m}$ ;  $7\text{m} = \dots\dots\dots \text{dm}$ ;  $3\text{dam} = \dots\dots\dots \text{m}$ ;  $4\text{dm} = \dots\dots\dots \text{mm}$

**II. PHẦN TỰ LUẬN:**

**1. Tính nhẩm:**

$24 : 4 = \dots\dots$        $3 \times 5 = \dots\dots$        $0 : 7 = \dots\dots$        $24 : 6$   
 $= \dots\dots$

**2. Tính:**

$$\begin{array}{r} 36 \\ \times 3 \\ \hline \dots\dots \end{array}$$

$$\begin{array}{r} 14 \\ \times 6 \\ \hline \dots\dots \end{array}$$

$$66 \overline{) 6}$$

$$60 \overline{) 2}$$

**3. Tìm y:**

$y - 18 = 15$

$y - 35 = 46$

$y \times 3 = 24$

$32 : y = 4$

.....  
.....

.....  
.....

.....  
.....

.....  
.....

**4. Bài giải:**

Cô giáo chia 36 học sinh thành các nhóm, mỗi nhóm có 4 học sinh. Hỏi chia được bao nhiêu nhóm ?

Bài giải:

.....  
.....  
.....  
.....  
.....  
.....  
.....  
.....

**ĐỀ 35**

**KIỂM TRA ĐỊNH KÌ GIỮA HỌC KÌ I - NĂM HỌC 2011-2012**

**Môn: Toán – Lớp 3**

**Thời gian : 40 phút**

**Phần I: Trắc nghiệm**

Em hãy khoanh tròn vào chữ cái trước câu trả lời đúng nhất:

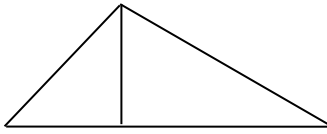
- $6 \times 7 = \dots$ . Số cần điền vào dấu ba chấm là:

A. 13                      B. 42                      C. 32                      D. 41
- $\frac{1}{4}$  của 36 cm là:

A. 8 cm                      B. 7 cm                      C. 6 cm                      D. 9 cm
- 4 gấp 8 lần là:

A. 32                      B. 34                      C. 36                      D. 38
- Trong phép chia có dư, với số chia là 4 thì số dư lớn nhất trong phép chia đó là:

A. 2                      B. 1                      C. 3                      D. 5
- Hình bên có bao nhiêu hình tam giác:



- A. 1 hình tam giác
- C. 3 hình tam giác

- B. 2 hình tam giác
- D. 4 hình tam giác

6. Con 5 tuổi, tuổi mẹ gấp 6 lần tuổi con. Vậy mẹ mấy tuổi?

- A. 11 tuổi
- B. 28 tuổi
- C. 30 tuổi
- D. 35 tuổi

**Phần II: Tự luận**

1. Đặt tính rồi tính:

- a)  $352 + 95$
- b)  $417 - 98$
- c)  $26 \times 4$
- d)  $86 : 2$

.....  
 .....  
 .....

2. Tìm x:

- a)  $x : 4 = 17$
- b)  $56 : x = 7$

.....  
 .....  
 .....

3. Tính:

- a)  $4 \times 8 + 26$
- b)  $6 \times 6 - 25$

.....  
 .....

3. Trong vườn có 35 cây ăn quả,  $\frac{1}{5}$  số cây đó là cây cam. Hỏi trong vườn có bao nhiêu cây cam?

.....  
 .....  
 .....

**ĐỀ 36**

**KIỂM TRA ĐỊNH KÌ GIỮA HỌC KÌ I - NĂM HỌC 2011-2012**

**Môn: Toán – Lớp 3**

**Thời gian : 40 phút**

**I. Phần trắc nghiệm:**

Số nh X vµo « Óng

1.  $1 \text{ hm} = \dots\dots\dots m ?$

- a. 1
- b. 10
- c. 100
- d. 1000

2.  $T \times m \text{ Y biÕt} :$

$36 : Y = 4$





s,ng. Hái buæi chiÒu cõa húng b,n ®-íc bao nhiªu lýt dÇu ?

**ĐỀ 37**

**KIỂM TRA ĐỊNH KÌ GIỮA HỌC KÌ I - NĂM HỌC 2011-2012**

**Môn: Toán – Lớp 3**

**Thời gian : 40 phút**

**I. Phần trắc nghiệm**

**Khoanh tròn vào chữ đặt trước câu trả lời đúng:**

1. Kết quả của phép cộng  $645 + 302$  là:  
 A. 847                      B. 957                      C. 947                      D. 907
2. Kết quả của phép trừ  $671 - 424$  là:  
 A. 147                      B. 246                      C. 247                      D. 347
3. Kết quả của phép nhân  $6 \times 7$  là:  
 A. 45                      B. 35                      C. 32                      D. 42
4. Kết quả của phép nhân  $7 \times 8$  là:  
 A. 49                      B. 72                      C. 65                      D. 56
5. Kết quả của phép chia  $54 : 6$  là:  
 A. 6                      B. 7                      C. 9                      D. 8
6. Hình tam giác có độ dài các cạnh là: 15cm, 12cm, 18cm, thì chu vi hình tam giác đó là:  
 A. 48cm                      B. 55cm                      C. 45cm                      D. 54cm

**II. Phần tự luận:**

**1. Thực hiện các phép tính:**

$$\begin{array}{r} 30 \\ \times 7 \\ \hline \dots\dots\dots \\ \dots\dots\dots \end{array}$$

$$\begin{array}{r} 83 \\ \times 6 \\ \hline \dots\dots\dots \\ \dots\dots\dots \end{array}$$

$$\begin{array}{r} 88 \overline{) 4} \\ \hline \end{array}$$

$$\begin{array}{r} 69 \overline{) 3} \\ \hline \end{array}$$

**2. Tính**

a)  $5 \times 7 + 14 = \dots\dots\dots$   
 $= \dots\dots\dots$

b)  $48 : 6 + 13 = \dots\dots\dots$   
 $= \dots\dots\dots$

**3. Tìm x**

a)  $3 \times x = 93$

b)  $x : 5 = 25$

.....  
 .....  
 .....

Mẹ nuôi được 24 con gà, số vịt mẹ nuôi nhiều gấp 4 lần số gà. Hỏi mẹ đã nuôi được bao nhiêu con vịt?

**ĐỀ 38**

**KIỂM TRA ĐỊNH KÌ GIỮA HỌC KÌ I - NĂM HỌC 2011-2012**

**Môn: Toán – Lớp 3**

**Thời gian : 40 phút**

**I. Phần trắc nghiệm:**

Khoanh tròn vào chữ cái đặt trước câu trả lời đúng:

1. Trong các số 375, 421, 753, 735 số lớn nhất là :  
 A.375                      B. 421                      C.753                      D.735
2.  $\frac{1}{4}$  của 24 lít là ..... lít  
 A. 5                      B. 7                      C. 6                      D. 8
3.  $42 : 7 = ?$   
 A. 5                      B. 6                      C. 7                      D. 8
4. 6 gấp lên 7 lần là:  
 A. 36                      B. 42                      C. 48                      D. 54
5. Điền dấu  $>$ ,  $<$ ,  $=$  thích hợp vào chỗ chấm:  
 6dm 7cm ..... 67cm                      8m 6dm ..... 860dm
6. Trong hình bên:



- A. Có 2 hình tứ giác                      B. Có 1 hình tứ giác  
 C. Có 3 hình tứ giác                      D. Có 4 hình tứ giác

**II. Phần Tự luận**

1. Đặt tính rồi tính:

256 + 125                      347 – 28                      35 x 4                      99 : 3

.....  
 .....  
 .....  
 .....

2. Tìm  $x$ :

a)  $80 - x = 30$                       b)  $42 : x = 7$

.....  
 .....

3. Tính:

a)  $6 \times 8 - 26$                       b)  $66 : 6 + 25$

.....  
 .....  
 .....  
 4. Chị Lan có 84 quả cam, sau khi đem bán thì số quả cam giảm đi 4 lần. Hỏi chị Lan còn bao nhiêu quả cam ?  
 .....  
 .....  
 .....  
 .....

**ĐỀ 39**

**KIỂM TRA ĐỊNH KÌ GIỮA HỌC KÌ I - NĂM HỌC 2011-2012**

**Môn: Toán – Lớp 3**

**Thời gian : 40 phút**

**I. PHẦN TRẮC NGHIỆM:**

Khoanh tròn vào chữ cái đặt trước câu trả lời đúng:

1.  $8m3cm = \dots\dots\dots cm$ . Số thích hợp điền vào chỗ chấm là:  
 A. 83                                      B. 830                                      C. 803                                      D. 38
2.  $\frac{1}{4}$  của 32 m là:  
 A. 6 m                                      B. 7 m                                      C. 8 m                                      D. 9 m
3.  $42 : 7 = ?$   
 A. 5                                      B. 6                                      C. 7                                      D. 8
4. 7 gấp lên 4 lần là:  
 A. 11                                      B. 28                                      C. 47                                      D. 74
5.  $57 : 6 = 9$  số dư là:  
 A. 4                                      B. 3                                      C. 8                                      D. 7
6. Mỗi tuần lễ có 7 ngày. Vậy 3 tuần lễ có bao nhiêu ngày?  
 A. 20 ngày                                      B. 21 ngày                                      C. 22 ngày                                      D. 23 ngày

**II. PHẦN TỰ LUẬN:**

1. Đặt tính rồi tính:

- a)  $684 + 275$                                       b)  $492 - 29$                                       c)  $96 : 3$                                       d)  $68 \times 6$
- .....  
 .....  
 .....  
 .....

2. Tìm x:

$$x + 32 = 68$$

$$42 : x = 6$$

.....  
 .....

3. Tính

a)  $7 \times 8 + 64 =$ .....  
 =.....

b)  $49 : 7 + 13 =$ .....  
 =.....

4. Năm nay mẹ 42 tuổi, tuổi con bằng  $\frac{1}{6}$  tuổi mẹ. Hỏi con bao nhiêu tuổi?

.....  
 .....

**ĐỀ 40**

**KIỂM TRA ĐỊNH KÌ GIỮA HỌC KÌ I - NĂM HỌC 2011-2012**

**Môn: Toán – Lớp 3**

**Thời gian : 40 phút**

**I. PHẦN TRẮC NGHIỆM:**

Khoanh tròn vào chữ cái đặt trước câu trả lời đúng:

1.  $\frac{1}{7}$  của 49 kg là .... kg  
 A. 7                                      B. 6                                      C. 5                                      D. 8
2.  $\frac{1}{6}$  của 54 phút là ..... phút  
 A. 8                                      B. 7                                      C. 9                                      D. 6
3. 8hm = .... m  
 A. 8                                      B. 80                                      C. 800                                      D. 8000
4. Số thích hợp điền vào chỗ chấm là: 14; 18; 22; .....; 30  
 A. 16                                      B. 20                                      C. 24                                      D. 28
5. Mỗi tuần lễ có 7 ngày. Vậy 4 tuần lễ có bao nhiêu ngày?  
 A. 24 ngày                                      B. 28 ngày                                      C. 30 ngày                                      D. 32 ngày
6. Điền dấu >, <, = thích hợp vào chỗ chấm:  
 7dm 8cm ..... 78cm                                      6m 7dm ..... 670dm

**II. PHẦN TỰ LUẬN:**

1. Đặt tính rồi tính:

$$29 \times 7$$

$$16 \times 6$$

$$93 : 3$$

$$88 : 4$$

.....  
 .....

2. Tìm  $x$

$$x : 7 = 6$$

$$x \times 7 = 49$$

3. Lớp 3A trồng được 27 cây, lớp 3B trồng được gấp 3 lần số cây lớp 3A. Hỏi lớp 3B trồng được bao nhiêu cây ?

Bài giải

4. a) Vẽ đoạn thẳng AB có độ dài 10cm :

b) Vẽ đoạn thẳng CD có độ dài bằng  $\frac{1}{5}$  độ dài đoạn thẳng AB

## ĐỀ 41

### KIỂM TRA ĐỊNH KÌ GIỮA HỌC KÌ I - NĂM HỌC 2011-2012

Môn: Toán – Lớp 3

Thời gian : 40 phút

#### I. PHẦN TRẮC NGHIỆM:

1. Điền số thích hợp vào chỗ trống:

a)  $\frac{1}{5}$  của 15 lít = .....lít.

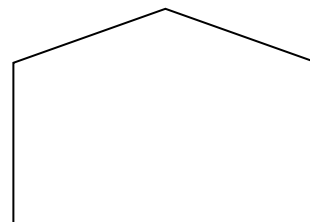
c)  $\frac{1}{6}$  của 54 phút = ..... phút

b) 4m 4dm = .....dm.

d) 8cm = .....mm.

2. a) Trong hình vẽ bên có ..... góc vuông.  
 Trong hình vẽ bên có ..... góc không vuông.

b) Hãy vẽ thêm 1 đoạn thẳng vào hình bên để trong hình có 4 góc vuông.



#### II. PHẦN TỰ LUẬN:

Bài 1: Đặt tính rồi tính :

a)  $487 + 302$

b)  $100 - 75$

c)  $18 \times 5$

d)  $84 : 4$

Bài 2: Tìm  $x$ :

a)  $63 : x = 7$

b)  $80 - x = 7$

Bài 3: Tính

a)  $6 \times 7 - 36$

b)  $42 : 6 + 54$

Bài 4: Buổi sáng, cửa hàng bán được 36 bao gạo. Số gạo bán trong buổi chiều giảm đi 3 lần so với buổi sáng. Hỏi buổi chiều, cửa hàng đó bán được bao nhiêu bao gạo?

**Bài giải**

**ĐỀ 42**

**KIỂM TRA ĐỊNH KÌ GIỮA HỌC KÌ I - NĂM HỌC 2011-2012**

**Môn: Toán – Lớp 3**

**Thời gian : 40 phút**

**I. PHẦN TRẮC NGHIỆM:**

Hãy khoanh vào chữ đặt trước câu trả lời đúng:

1. 7 lít gấp lên 6 lần thì được:

A. 13 lít

B. 14 lít

C. 42 lít

D. 48 lít

2.  $\frac{1}{3}$  của 69cm là:

A. 18 cm

B. 23 cm

C. 42 cm

D. 22 cm

3.  $54 : x = 6$ .  $x$  có kết quả là:

A. 9

B. 324

C. 19

D. 48

4. Con 4 tuổi, tuổi mẹ gấp 7 lần tuổi con. Vậy mẹ mấy tuổi?

A. 11 tuổi

B. 28 tuổi

C. 32 tuổi

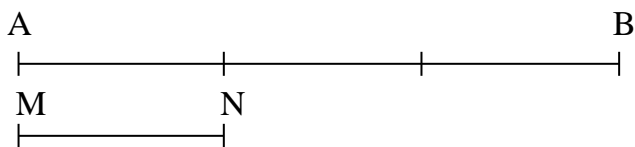
D. 36 tuổi

5. Điền dấu  $>$ ,  $<$ ,  $=$

6dm 8cm ..... 68cm

7m 6dm ..... 760dm

6. Điền số thích hợp vào chỗ chấm:



Độ dài đoạn thẳng MN bằng .....đoạn thẳng AB

**II. PHẦN TƯ LUẬN:**

**Bài 1:** Tính nhẩm :

|                      |                      |                      |                      |
|----------------------|----------------------|----------------------|----------------------|
| $5 \times 7 = \dots$ | $6 \times 6 = \dots$ | $3 \times 7 = \dots$ | $7 \times 8 = \dots$ |
| $49 : 7 = \dots$     | $54 : 6 = \dots$     | $35 : 5 = \dots$     | $42 : 6 = \dots$     |

**Bài 2:** Đặt tính rồi tính :

|               |               |          |          |
|---------------|---------------|----------|----------|
| $24 \times 6$ | $35 \times 7$ | $69 : 3$ | $84 : 4$ |
|---------------|---------------|----------|----------|

.....

.....

.....

.....

**Bài 3:**

Một lớp học có 32 học sinh. Số học sinh giỏi của lớp chiếm  $\frac{1}{4}$  tổng số học sinh của lớp. Hỏi lớp đó có bao nhiêu học sinh giỏi?

.....

.....

.....

.....

**ĐỀ 43**

**KIỂM TRA ĐỊNH KÌ GIỮA HỌC KÌ I - NĂM HỌC 2011-2012**

**Môn: Toán – Lớp 3**

**Thời gian : 40 phút**

**I. PHẦN TRẮC NGHIỆM:**

1. Đúng ghi Đ, sai ghi S.

|   |  |  |   |
|---|--|--|---|
| $\begin{array}{r} 527 \\ + \\ \hline 145 \\ \hline 662 \end{array}$ | $\begin{array}{r} 555 \\ - \\ \hline 44 \\ \hline 115 \end{array}$ | $\begin{array}{r} 14 \\ \times \\ \hline 5 \\ \hline 70 \end{array}$ | $\begin{array}{r} 54 \overline{) 6} \\ \underline{54} \\ 0 \end{array}$ |
| <input type="checkbox"/>  | <input type="checkbox"/>   | <input type="checkbox"/>   | <input type="checkbox"/>  |

2. Điền dấu >, <, = :





- A. 5 lần                      B. 3 lần                      C. 6 lần                      D. 2 lần
3. Gấp 3 lít lên 5 lần thì được:  
 A. 8 lít                      B. 2 lít                      C. 20 lít                      D. 15 lít
4.  $\frac{1}{7}$  của 63 kg là :  
 A. 441 kg                      B. 9 kg                      C. 15 kg                      D. 11 kg
5. Trong các phép chia có dư với số chia là 6, số dư lớn nhất của các phép chia đó là :  
 A. 3                      B. 4                      C. 6                      D. 5
6. Điền dấu >, <, = thích hợp vào chỗ chấm:  
 2m 20cm .....2m 25cm                      4cm 3mm ..... 403mm

**II. Phần tự luận:**

1. Đặt tính rồi tính:

24 x 5

35 x 6

63 : 3

48 : 4

2. Tính:

7 x 9 – 18 = .....

36 : 6 + 14 = .....

3. a) Vẽ đoạn thẳng AB dài 9 cm.

.....  
 .....

b) Vẽ đoạn thẳng CD có độ dài bằng  $\frac{1}{3}$  độ dài đoạn thẳng AB .

.....  
 .....

4. Một cửa hiệu buổi sáng bán được 25 quyển vở. Buổi chiều bán nhiều gấp 3 lần buổi sáng. Hỏi cửa hiệu đó, buổi chiều bán bao nhiêu quyển vở ?

.....  
 .....  
 .....  
 .....

**ĐỀ 45**

**KIỂM TRA ĐỊNH KÌ GIỮA HỌC KÌ I - NĂM HỌC 2011-2012**

**Môn: Toán – Lớp 3**

**Thời gian : 40 phút**

**I. phần trắc nghiệm :**

Em hãy khoanh vào câu trả lời đúng nhất

1. Số **s, u tr m linh n m** viết là:

- A. 506 B. 600  
 C. 605 D. 650

2. Cho các số : 538 , 209 , 789 , 120 , thø từ các số **tổ nhá Ôn lín** là :

- A. 120 , 538 , 209 , 789  
 B. 120 , 209 , 538 , 789  
 C. 209 , 120 , 538 , 789  
 D. 789 , 538 , 209 , 120

3.  $X \times 7 = 35$  ,  $X = \dots\dots$

- A. 5 B. 7  
 C. 8 D. 4

4.  $\frac{1}{6}$  của 42 kg là..... kg

- A. 6 B. 4  
 C. 5 D. 7

5. Cho dãy số : 12 , 15 , 18 , ... Số thích hợp liền vào chỗ chấm là :

- A. 17 B. 21  
 C. 24 D. 32

6. Số cần điền vào « trống trong dãy sau là :



- A. 30 B. 36  
 C. 42 D. 60

**II. phần tự luận :**

1. Đặt tính rồi tính:

- a)  $26 \times 6$  b)  $38 \times 7$   
 c)  $63 : 3$  d)  $84 : 4$

.....  
 .....  
 .....

2. Tính :

$6 \times 3 + 135 = \dots\dots\dots$   $20 \times 3 : 6 = \dots\dots\dots$

3. Một cửa hàng buổi sáng bán 52 lít dầu, số lít dầu bán ra trong buổi chiều gấp 3 lần so với buổi

s,ng. Hái buæi chiÒu ca hÛng ®ã b,n ®-íc bao nhi^a u lÿt dÇu?

.....

.....

.....

4. SiÒn sè vÛo « trng:

|   |   |   |   |   |
|---|---|---|---|---|
| 2 |   | 2 |   | 5 |
| x | □ | x | □ |   |
| 3 | □ | □ | □ |   |
| 8 | 8 | 0 | □ |   |

**ĐỀ 46**

**KIỂM TRA ĐỊNH KÌ GIỮA HỌC KÌ I - NĂM HỌC 2011-2012**

**Môn: Toán – Lớp 3**

**Thời gian : 40 phút**

**I. Phần trắc nghiệm:**

Khoanh vào chữ cái trước câu trả lời đúng cho mỗi bài tập dưới đây:

1. Gấp 3 lít lên 5 lần thì được:
 

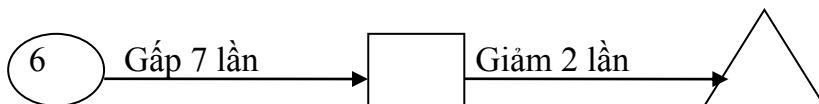
|          |          |           |           |
|----------|----------|-----------|-----------|
| A. 8 lít | B. 2 lít | C. 20 lít | D. 15 lít |
|----------|----------|-----------|-----------|
2.  $\frac{1}{7}$  của 49 kg là :
 

|           |         |          |          |
|-----------|---------|----------|----------|
| A. 343 kg | B. 7 kg | C. 42 kg | D. 11 kg |
|-----------|---------|----------|----------|
3. Mẹ 30 tuổi, con 6 tuổi. Hỏi tuổi mẹ gấp mấy lần tuổi con?
 

|          |          |          |          |
|----------|----------|----------|----------|
| A. 5 lần | B. 3 lần | C. 6 lần | D. 2 lần |
|----------|----------|----------|----------|
4. Trong các phép chia có dư với số chia là 5, số dư lớn nhất của các phép chia đó là :
 

|      |      |      |      |
|------|------|------|------|
| A. 3 | B. 4 | C. 6 | D. 2 |
|------|------|------|------|
5. Điền dấu >, <, = thích hợp vào chỗ chấm:
 

|                      |                     |
|----------------------|---------------------|
| 2m 30cm .....2m 35cm | 4cm 6mm ..... 406mm |
|----------------------|---------------------|
6. Điền số thích hợp vào ô trống:



**II. Phần tự luận:**

**Bài 1:** Tính

- |         |         |          |
|---------|---------|----------|
| 7 x 5 = | 1 x 7 = | 36 : 6 = |
| 6 x 7 = | 6 x 6 = | 42 : 7 = |
| 6 x 4 = | 6 x 0 = | 0 : 7 =  |

**Bài 2:** Đặt tính rồi tính



.....  
 .....  
 .....  
 .....  
 .....

2. Tìm  $x$ :

a)  $x \times 6 = 48$

b)  $63 : x = 7$

.....  
 .....

3. Tính:

a)  $47 \times 2 - 18$

b)  $69 : 3 + 239$

.....  
 .....

4. Chị nuôi được 12 con gà , mẹ nuôi được nhiều gấp 3 lần số gà của chị . Hỏi mẹ nuôi được bao nhiêu con gà ?

.....  
 .....  
 .....  
 .....  
 .....

**ĐỀ 48**

**KIỂM TRA ĐỊNH KÌ GIỮA HỌC KÌ I - NĂM HỌC 2011-2012**

**Môn: Toán – Lớp 3**

**Thời gian : 40 phút**

**Phần I: Trắc nghiệm .**

**Khoanh vào chữ cái đặt trước câu trả lời đúng.**

1- Tìm  $x$ , biết:

$x : 7 = 21$  dư 3

A.  $x = 150$

B.  $x = 147$

C.  $x = 144$

2-  $3m\ 4cm = \dots$  Số thích hợp điền vào chỗ chấm là:

A. 340cm

B. 34cm

C. 304cm

3- Một hình tam giác có 3 cạnh bằng nhau, mỗi cạnh là 7cm. Chu vi hình tam giác đó là:

A. 15cm

B. 21cm

C. 28cm

4- Con hái được 7 quả cam, mẹ hái được gấp 5 lần số cam của con. Vậy mẹ hái được số quả cam là:

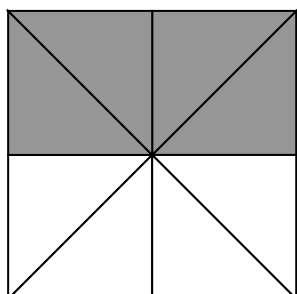
A. 35 quả

B. 12 quả

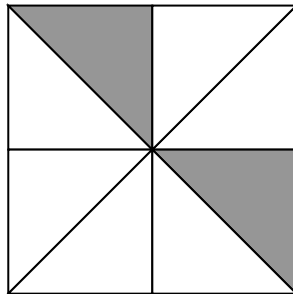
C. 2 quả

5- Đã tô màu vào  $\frac{1}{4}$  số hình tam giác của hình nào?

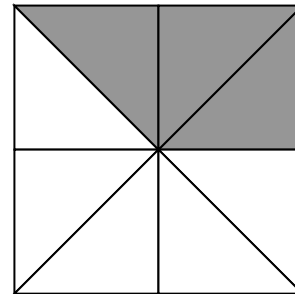
A.



B.



C.

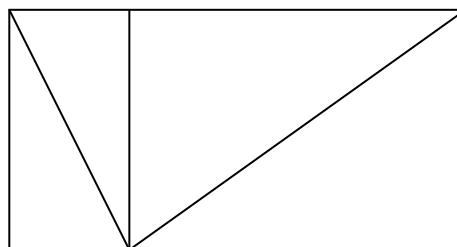


6. Hình bên có bao nhiêu hình tam giác?

A. 3 hình tam giác

B. 4 hình tam giác

C. 5 hình tam giác



### Phần 2: Tự luận

1- Đặt tính rồi tính:

$$37 + 415$$

$$300 - 48$$

$$53 \times 6$$

$$84 : 4$$

2- Tính:

a)  $6 \times 9 - 8 =$

b)  $42 : 7 + 15 =$

3- Một cửa hàng có 40m vải xanh và đã bán được  $\frac{1}{5}$  số vải đó. Hỏi cửa hàng đó đã bán bao nhiêu mét vải xanh?

### ĐỀ 49

### KIỂM TRA ĐỊNH KÌ GIỮA HỌC KÌ I - NĂM HỌC 2011-2012

Môn: Toán – Lớp 3

Thời gian : 40 phút

### Phần I: Trắc nghiệm

Em hãy khoanh tròn vào chữ cái trước câu trả lời đúng nhất:

1.  $5 \times 6 = \dots$  Số cần điền vào dấu ba chấm là:

A. 35

B. 30

C. 38

D. 32

2.  $7 \times 8 = \dots$  Số cần điền vào dấu ba chấm là:

A. 50

B. 52

C. 56

D. 65

3.  $\frac{1}{6}$  của 48 cm là:

- A. 7 cm                      B. 6 cm                      C. 8 cm                      D. 5 cm
4. 5 gấp 7 lần là:  
 A. 36                      B. 37                      C. 35                      D. 38
5.  $58 : 6 = 9$  số dư là:  
 A. 4                      B. 3                      C. 8                      d) 7
6. Đoạn thẳng AB dài 60 cm. Vậy  $\frac{1}{6}$  đoạn thẳng AB dài:  
 A. 10 cm                      B. 1 cm                      C. 36 cm                      D. 12 cm

**Phần II: Tự luận**

1. Đặt tính rồi tính:

- a)  $17 \times 6$                       b)  $64 \times 7$                       c)  $69 : 3$                       d)  $84 : 4$

.....

.....

.....

.....

.....

.....

2. Tìm  $x$ :

- a)  $87 - x = 30$                       b)  $42 : x = 6$

.....

.....

.....

3. Tính:

- a)  $7 \times 8 - 26 = \dots\dots\dots$                       b)  $48 : 4 + 25 = \dots\dots\dots$

.....

4. Trong vườn có 63 cây ăn quả,  $\frac{1}{7}$  số cây đó là cây bưởi. Hỏi trong vườn có bao nhiêu cây bưởi?

.....

.....

.....

**ĐỀ 50**

**KIỂM TRA ĐỊNH KÌ GIỮA HỌC KÌ I - NĂM HỌC 2011-2012**

**Môn: Toán – Lớp 3**

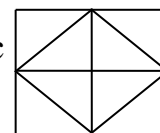
**Thời gian : 40 phút**

**Phần I: Trắc nghiệm**

Hãy khoanh tròn vào chữ cái đặt trước câu trả lời đúng nhất:

1. Số bé nhất có 3 chữ số là:  
 A. 990                      B. 900                      C. 999                      D. 100

2. Số lớn nhất có 4 chữ số là:  
 A. 1111                      B. 1001                      C. 9999                      D. 1000
3. Cho dãy số: 8; 12; 16; 20; .....; .....; 32; 36; 40. Hai số còn thiếu là:  
 A. 24 và 26                      B. 26 và 30                      C. 24 và 28                      D. 28 và 32
4. Thùng thứ nhất chứa 12 lít dầu, thùng thứ hai chứa gấp 5 lần thùng thứ nhất. Như vậy thùng thứ hai chứa :  
 A. 17 lít dầu                      B. 20 lít dầu                      C. 50 lít dầu                      D. 60 lít dầu
5.  $\frac{1}{3}$  của 24 giờ là ..... giờ. Số thích hợp điền vào chỗ chấm là:  
 A. 12                      B. 8                      C. 6                      D. 4
6. Trên hình vẽ bên có mấy tam giác?  
 A. 8 hình tam giác                      B. 10 hình tam giác  
 C. 12 hình tam giác                      D. 15 hình tam giác



**Phần 2: Tự luận**

1. Đặt tính rồi tính:

- a)  $426 + 137$                       b)  $590 - 76$                       c)  $22 \times 6$                       d)  $96 : 3$

.....  
 .....  
 .....

2. Tìm  $x$ :

- a)  $x \times 5 = 55$                       b)  $49 : x = 7$

.....  
 .....

3. Tính:

- a)  $7 \times 8 - 26 =$  .....                      b)  $48 : 4 + 25 =$  .....

.....

3. Năm nay mẹ em 36 tuổi, tuổi em bằng  $\frac{1}{4}$  tuổi mẹ em . Hỏi em năm nay bao nhiêu tuổi ?

**ĐỀ 51**

**KIỂM TRA ĐỊNH KÌ GIỮA HỌC KÌ I - NĂM HỌC 2011-2012**

**Môn: Toán – Lớp 3**

**Thời gian : 40 phút**



**I. Phần trắc nghiệm:**

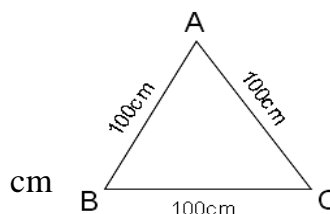
Hãy khoanh vào chữ cái đặt trước câu trả lời đúng:

1. Số ba trăm năm mươi viết là:

- A. 305                      B. 503                      C. 350                      D. 530

2. Chu vi hình tam giác ABC là:

- A. 200 cm  
B. 310 cm  
C. 300 cm  
D.                      400



3. Gấp 6 lên 5 lần thì được:

- A. 11                      B. 25                      C. 28                      D. 30

4. Kết quả của dãy tính 4: 2 + 16 là:

- A. 6                      B. 10                      C. 18                      D. 12

5.  $\frac{1}{6}$  của 30 lít là:

- A. 3 lít                      B. 4 lít                      C. 5 lít                      D. 6 lít

6. Số lớn nhất có 2 chữ số là:

- A. 99                      B. 90                      C. 10                      D. 89

**II. Phần tự luận:**

**Câu 1:** Đặt tính rồi tính:

- a)  $124 + 367$                       b)  $563 - 56$                       c)  $48 \times 6$                       d)  $96 : 3$

.....  
 .....  
 .....

**Câu 2:** Tính:

- a.  $40 \times 2 - 50 =$                       b.  $30 + 50 - 20 =$

.....  
 .....  
 .....

**Câu 3:** Tìm x:

- a.  $x \times 6 = 48$                       b.  $x : 6 = 5$

.....  
 .....

**Câu 4: Bài toán:**

Có 35 lít dầu chia đều vào các can, mỗi can chứa 5 lít dầu. Hỏi cần bao nhiêu các can như vậy để chứa hết số dầu?

Bài giải:

.....  
 .....  
 .....

**ĐỀ 52**

**KIỂM TRA ĐỊNH KÌ GIỮA HỌC KÌ I - NĂM HỌC 2011-2012**

**Môn: Toán – Lớp 3**

**Thời gian : 40 phút**

**I. Phần trắc nghiệm:**

Khoanh vào chữ đặt trước câu trả lời đúng:

1. Số liền trước của 150 là:  
 A. 151                                      B. 140                                      C. 149                                      D. 160
2. Số liền sau của 99 là:  
 A. 98    B. 99    C. 101                                      D. 100
3. Gấp 4 lên 6 lần thì được:  
 A. 20    B. 24    C. 28    D. 30
4. Giảm 42 đi 7 lần thì được:  
 A. 8    B. 7    C. 6    D. 5
5. Mỗi tuần lễ có 7 ngày. Vậy 2 tuần lễ có bao nhiêu ngày?  
 A. 12 ngày                                      B. 13 ngày                                      C. 14 ngày                                      D. 15 ngày
6. Điền dấu >, <, = thích hợp vào chỗ chấm:  
 a) 6dm 5cm .....65cm                                      b) 5 km.....5000 m

**II. Phần tự luận:**

**Bài 1:** Tính nhẩm:

|                |                |                |                |
|----------------|----------------|----------------|----------------|
| $6 \times 6 =$ | $6 \times 9 =$ | $7 \times 6 =$ | $7 \times 7 =$ |
| $36 : 6 =$     | $54 : 6 =$     | $42 : 7 =$     | $49 : 7 =$     |

**Bài 2:** Đặt tính rồi tính:

|               |   |               |   |          |   |          |
|---------------|---|---------------|---|----------|---|----------|
| $35 \times 6$ | ; | $75 \times 3$ | ; | $55 : 5$ | ; | $84 : 4$ |
|---------------|---|---------------|---|----------|---|----------|

.....

.....

.....

.....

.....

**Bài 3:** Tìm x

|                      |                 |
|----------------------|-----------------|
| a) $3 \times x = 93$ | b) $x : 5 = 25$ |
|----------------------|-----------------|

.....

.....

.....

.....

**Bài 4:** Một cửa hàng có 30 kg kẹo, buổi sáng cửa hàng đã bán được  $\frac{1}{6}$  số kẹo đó. Hỏi buổi sáng cửa hàng đó đã bán được bao nhiêu ki-lô-gam kẹo?

**Bài giải:**

.....

.....

.....

**ĐỀ 53**

**KIỂM TRA ĐỊNH KÌ GIỮA HỌC KÌ I - NĂM HỌC 2011-2012**

**Môn: Toán – Lớp 3**

**Thời gian : 40 phút**

**Phần 1: Trắc nghiệm**

Hãy khoanh tròn vào chữ cái đặt trước câu trả lời đúng nhất:

- $\frac{1}{6}$  của 18 phút là:  
 A. 6 phút                      B. 3 phút                      C. 4 phút                      D. 2 phút
- Trong các phép chia sau, phép chia có thương bé nhất là:  
 A.  $12 : 2$                       B.  $12 : 6$                       C.  $12 : 4$                       D.  $12 : 3$
- Hiện nay em 7 tuổi, tuổi của cha gấp 8 lần tuổi của em. Tuổi của cha hiện nay là:  
 A. 42 tuổi                      B. 49 tuổi                      C. 56 tuổi                      D. 63 tuổi
- $2m\ 2dm = \dots\dots\dots dm$  Số thích hợp viết vào chỗ chấm là;  
 A. 220                      B. 22                      C. 202                      D. 2020
- Đúng ghi Đ, sai ghi S vào ô trống:  
 $20 \times 2 : 5 = 40$                         $42 : 7 + 34 = 40$
- Viết dấu  $<$ ,  $>$ ,  $=$  thích hợp vào chỗ chấm:  
 $\frac{1}{3}$  giờ  $\dots\dots\dots$  20phút ;                       $\frac{1}{2}$  giờ  $\dots\dots\dots$  25phút ;

**Phần 2: Tự luận**

- Tính nhẩm:  
 $6 \times 9 = \dots\dots\dots$                        $7 \times 8 = \dots\dots\dots$                        $42 : 7 = \dots\dots\dots$                        $45 : 5 = \dots\dots\dots$
- Đặt tính rồi tính:  
 $177 + 432$                        $792 - 344$                        $52 \times 7$                        $48 : 4$   
 .....  
 .....  
 .....
- Trong thùng có tất cả 36 lít dầu. Sau khi sử dụng, số dầu còn lại trong thùng bằng  $\frac{1}{3}$  số dầu đã có. Hỏi trong thùng còn lại bao nhiêu lít dầu ?  
 .....  
 .....

4.

a) Vẽ đoạn thẳng AB dài 10 cm

b) Vẽ đoạn thẳng CD có độ dài bằng  $\frac{1}{2}$  độ dài đoạn thẳng AB.

**ĐỀ 54**

**KIỂM TRA ĐỊNH KÌ GIỮA HỌC KÌ I - NĂM HỌC 2011-2012**

**Môn: Toán – Lớp 3**

**Thời gian : 40 phút**

**Phần I: Trắc nghiệm**

Khoanh vào chữ đặt trước câu trả lời đúng:

1. Số liền trước của 150 là:  
 A. 151                                      B. 140                                      C. 149                                      D. 160
2. Số liền sau của 99 là:  
 A. 98    B. 99    C. 101                                      D. 100
3. Gấp 4 lên 6 lần thì được:  
 A. 20    B. 24    C. 28    D. 30
4. Giảm 42 đi 7 lần thì được:  
 A. 8    B. 7    C. 6    D. 5
5.  $\frac{1}{6}$  của 30 lít là:  
 A. 3 lít    B. 4 lít    C. 5 lít    D. 6 lít
6. Điền dấu >, <, = thích hợp vào chỗ chấm:  
 a) 6dm 5cm .....65cm                                      b) 5 km.....5000 m

**Phần II: Tự luận**

1. Tính nhẩm:  
 $7 \times 8 =$                                        $7 \times 6 =$                                        $6 \times 5 =$                                        $7 \times 5 =$   
 $42 : 6 =$                                        $49 : 7 =$                                        $54 : 6 =$                                        $63 : 7 =$
2. Đặt tính rồi tính:  
 $47 \times 5$                                        $28 \times 3$                                        $69 : 3$                                        $84 : 4$   
 .....  
 .....  
 .....  
 .....
3. Tính:  
 $63 : 7 + 30 =$  .....  
 .....  
 $7 \times 8 - 37 =$  .....  
 .....



a)  $421 + 29$

b)  $516 - 324$

c)  $43 \times 6$

d)  $68 : 2$

**Bài 2:** Tính:

a)  $45 : 5 + 231$

b)  $26 \times 5 - 34$

**Bài 3:** Tìm x:

a)  $36 : x = 4$

b)  $x : 7 = 4$

**Bài 4:** Một lớp học có 36 học sinh, trong đó có  $\frac{1}{3}$  số học sinh là học sinh giỏi. Hỏi lớp học đó có bao nhiêu học sinh giỏi ?

**ĐỀ 56**

**KIỂM TRA ĐỊNH KÌ GIỮA HỌC KÌ I - NĂM HỌC 2011-2012**

**Môn: Toán – Lớp 3**

**Thời gian : 40 phút**

**A. Phần Trắc nghiệm:**

Hãy khoanh tròn vào chữ cái đặt trước câu trả lời đúng nhất :

1. Số lớn nhất trong các số 346; 436; 464; 435 là:

A. 346

B. 436

C. 464

D. 435

2. Số bé nhất trong các số 468, 369, 396, 486 là:

A. 468

B. 369

C. 396

D. 486

3. Kết quả của phép tính  $500 + 50 + 4$  là:

A. 554

B. 545

C. 504

D. 550

4. Số ba trăm bảy mươi lăm viết là:

A. 573

B. 375

C. 357

D. 300705

5. Kết quả của phép chia  $49 : 7$  là:

A. 5

B. 6

C. 7

D. 8

6.  $\frac{1}{3}$  của 15m là:

A. 4

B. 5

C. 6

D. 7

**B. Phần tự luận:**

1. Đặt tính rồi tính:

$234 + 432$

$356 - 156$

$16 \times 6$

$84 : 4$

.....  
 .....

.....  
 .....  
 .....  
 .....

2. Tìm  $x$ :

a)  $87 - x = 30$

b)  $42 : x = 6$

.....  
 .....

3. Tính:

a)  $7 \times 8 - 26 =$  .....

b)  $48 : 4 + 25 =$  .....

.....

4. Mai làm được 30 bông hoa bằng giấy, Mai tặng bạn  $\frac{1}{6}$  số bông hoa đó. Hỏi Mai tặng bạn bao nhiêu bông hoa?

.....  
 .....  
 .....  
 .....  
 .....  
 .....  
 .....  
 .....  
 .....

**ĐỀ 57**  
**KIỂM TRA ĐỊNH KÌ GIỮA HỌC KÌ I - NĂM HỌC 2011-2012**  
**Môn: Toán – Lớp 3**  
**Thời gian : 40 phút**

**Phần 1: Trắc nghiệm**

**Bài 1:**

Hãy khoanh tròn vào chữ cái đặt trước câu trả lời đúng nhất :

1. Hiện nay em 7 tuổi, tuổi của mẹ gấp 6 lần tuổi của em. Tuổi của mẹ hiện nay là:

- A. 32                                      B. 40                                      C. 42                                      D. 45

2. Trong các phép chia có dư với số chia là 6 thì số dư lớn nhất của các phép chia đó là:

A. 6

B. 5

C. 4

D. 0

3.  $\frac{1}{4}$  của 28 phút là:

A. 8 phút

B. 6 phút

C. 7 phút

D. 5 phút

4. 2m 1dm = ..... dm Số thích hợp viết vào chỗ chấm là;

A. 210

B. 21

C. 201

D. 2010

**Bài 2:** Đúng ghi Đ, sai ghi S vào ô trống

a.  $20 \times 2 : 5 = 40$

b.  $42 : 7 + 34 = 40$

**Phần 2: Tự luận**

Bài 1. Tính nhẩm:

a)  $6 \times 8 = \dots\dots$     b)  $7 \times 7 = \dots\dots\dots$     c)  $42 : 6 = \dots\dots\dots$     d)  $63 : 7 = \dots\dots\dots$

Bài 2. Đặt tính rồi tính:

$15 \times 6$

$43 \times 3$

$77 : 7$

$84 : 4$

Bài 3. Tìm x:

a)  $x : 3 = 10$

b)  $28 : x = 10 - 3$

Bài 4. Một tấm vải dài 45m, người ta đã bán đi  $\frac{1}{5}$  tấm vải đó. Hỏi người ta đã bán đi bao nhiêu mét vải?

.....  
 .....

**ĐỀ 58**

**KIỂM TRA ĐỊNH KÌ GIỮA HỌC KÌ I - NĂM HỌC 2011-2012**

**Môn: Toán – Lớp 3**

**Thời gian : 40 phút**

**I. Phần trắc nghiệm:**

**1. Khoanh vào chữ đặt trước câu trả lời đúng:**

a) Số đã cho là 6, nhiều hơn số đã cho 3 đơn vị là số:



A. 3                      B. 9                      C. 18                      D. 2

b) Số đã cho là 3. Gấp 6 lần số đã cho là số:

A. 9                      B. 2                      C. 3                      D. 18

**2. Đúng ghi Đ, sai ghi S vào ô trống:**

$7 \times 5 + 15 = 50$   ;  $6 \times 6 + 21 = 47$   ;  $1 \text{ hm} = 10 \text{ m}$   ;  $1 \text{ dm} = 100 \text{ mm}$

**3. Viết số thích hợp vào chỗ chấm:**

2 km = ..... m; 7 m = ..... dm; 3 dam = ..... m; 5 dm = ..... mm

**II. Phần tự luận:**

**1. Tính nhẩm:**

$24 : 4 = \dots\dots\dots$                        $4 \times 5 = \dots\dots\dots$                        $0 : 7 = \dots\dots\dots$                        $30 : 6 = \dots\dots\dots$

**2. Đặt tính rồi tính:**

a)  $36 \times 6$                       b)  $14 \times 6$                       c)  $36 : 3$                       d)  $66 : 6$

.....  
 .....  
 .....

**3. Tìm x**

$x - 18 = 15$                        $x - 35 = 46$                        $x \times 3 = 24$                        $32 : x = 4$

.....  
 .....

**4. Bài giải:**

Cô giáo chia 36 học sinh thành các nhóm, mỗi nhóm có 4 học sinh. Hỏi chia được bao nhiêu nhóm ?

Bài giải:

.....  
 .....  
 .....

**ĐỀ 59**

**KIỂM TRA ĐỊNH KÌ GIỮA HỌC KÌ I - NĂM HỌC 2011-2012**

**Môn: Toán – Lớp 3**

**Thời gian : 40 phút**

**I. Trắc nghiệm:**

Khoanh vào chữ đặt trước câu trả lời đúng:

1. 4 dam 7 m = .....m. Số thích hợp viết vào chỗ chấm là:

- A. 407                      B. 47                      C. 470                      D. 7

2.  $\frac{1}{3}$  giờ = ..... phút. Số thích hợp viết vào chỗ chấm là:

- A. 12                      B. 15                      C. 20                      D. 30

3. Đoạn thẳng AB dài 12 cm, đoạn thẳng CD gấp 3 lần đoạn AB . Độ dài đoạn thẳng CD là:


- A. 3                      B. 4                      C. 24                      D. 36

4. Trong phép chia có số chia là 6, số dư lớn nhất của phép chia đó là:

- A. 5                      B. 6                      C. 7                      D. 8

5. Hình bên có mấy góc vuông?

- A. 1 góc vuông                      B. 2 góc vuông  
C. 3 góc vuông                      D. 4 góc vuông



6. Điền dấu <, =, > vào ô trống:

7 m 4 cm  74 m

6m 8 dm  68 dm

**II. Tự luận:**

**Bài 1:** Đặt tính rồi tính:

67 + 723

38 x 7

859 – 474

93 : 3

.....  
 .....  
 .....

**Bài 2:** Tìm x.

57 – x = 19

48 : x = 6

.....  
 .....

**Bài 3:** Tính:

a) 45 : 5 + 762

b) 26 x 5 – 34

.....  
 .....

**Bài 4:** Bao gạo thứ nhất cân nặng 66 kg. Bao gạo thứ hai nặng gấp 3 lần bao gạo thứ nhất. Hỏi bao gạo thứ hai cân nặng bao nhiêu kilôgam?

.....  
 .....  
 .....  
 .....

**ĐỀ 60**

**KIỂM TRA ĐỊNH KÌ GIỮA HỌC KÌ I - NĂM HỌC 2011-2012**

**Môn: Toán – Lớp 3**

**Thời gian : 40 phút**

**I. Trắc nghiệm :**

Khoanh tròn vào chữ cái trước câu trả lời đúng:

1. Số gồm 3 đơn vị 5 trăm 7 chục viết là :  
 A . 357                      B. 573                      C. 375                      D. 537
2. Chữ số 5 trong số 9853 chỉ :  
 A. 5 đơn vị                      B. 5 chục                      C. 5 trăm                      D. 5 nghìn
3. Liên trước số 298 là số :  
 A. 299                      B. 300                      C. 289                      D. 297
4. 4 hm = .....m  
 A. 40                      B. 4                      C. 400                      D. 4000
5. So sánh 6 m 3cm .... 603 cm  
 A. 6 m 3cm > 603 cm                      B. 6 m3cm = 603cm  
 C. 6 m3cm < 603cm                      D. Không so sánh được
6. Trong phép chia có dư với số chia là 6, số dư lớn nhất của phép chia đó là?  
 A. 6                      B. 4                      C. 1                      D. 7

**II. Tự luận:**

1. Tính nhẩm:

- |               |         |          |         |
|---------------|---------|----------|---------|
| a) $42 : 6 =$ | 6 x 8 = | 28 : 7 = | 6 x 4 = |
| b) $63 : 7 =$ | 7 x 5 = | 54 : 6 = | 7 x 8 = |

2. Đặt tính rồi tính:

- |           |           |           |           |
|-----------|-----------|-----------|-----------|
| a) 27 x 6 | b) 45 x 7 | c) 63 : 3 | d) 84 : 4 |
|-----------|-----------|-----------|-----------|

.....  
 .....  
 .....

3. Một cửa hàng buổi sáng bán được 24 ki - lô - gam đường. Buổi chiều bán được gấp 4 lần buổi sáng. Hỏi cửa hàng buổi chiều bán được bao nhiêu ki - lô - gam đường?

.....  
 .....  
 .....  
 .....

4. Đoạn thẳng AB dài 42cm, đoạn thẳng CD có độ dài bằng  $\frac{1}{7}$  độ dài đoạn thẳng AB. Hãy vẽ đoạn thẳng CD.

**ĐỀ 61**

**KIỂM TRA ĐỊNH KÌ GIỮA HỌC KÌ I - NĂM HỌC 2011-2012**

**Môn: Toán – Lớp 3**

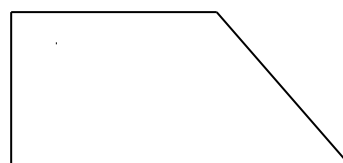
**Thời gian : 40 phút**

**Phần I: Trắc nghiệm**

Khoanh vào chữ đặt trước câu trả lời đúng:

1. Số góc vuông của hình tứ giác bên là:

- A. 1      B. 2      C. 3      D. 4



2.  $2\text{hm} + 4\text{dam} = ?$

- A. 24m                      B. 204m                      C. 240m                      D. 402m

3. Trong các phép chia có dư với số chia là 7, số dư lớn nhất của các phép chia đó là:

- A. 7                      B. 8                      C. 5                      D. 6

4.  $\frac{1}{5}$  của 35m là:

- A. 8m                      B. 7m                      C. 6m                      D. 8m

5. Kết quả của  $64 \times 3$  là:

- A. 192                      B. 182                      C. 172                      D. 162

6. Đúng ghi Đ, sai ghi S:

$$\begin{array}{r} 48 \quad | \quad 6 \\ \underline{48} \quad | \quad 8 \\ 0 \quad \quad \square \end{array}$$

$$\begin{array}{r} 30 \quad | \quad 6 \\ \underline{24} \quad | \quad 4 \\ 6 \quad \quad \square \end{array}$$

**Phần 2: Tự luận**

**Bài 1:** Tính:

$6 \times 3 =$

$6 \times 4 =$

$36 : 6 =$

$63 : 7 =$

$4 \times 7 =$

$7 \times 7 =$

$54 : 6 =$

$56 : 7 =$

**Bài 2:** Đặt tính rồi tính:

$365 + 418$

$628 - 275$

$47 \times 7$

$48 : 4$

.....

.....

.....

.....

.....

.....

.....

.....

.....

.....

.....

.....

**Bài 3:** Tìm  $x$ :

a)  $36 : x = 4$

b)  $x : 7 = 4$

**Bài 4:**

Con hái được 17 bông hoa, mẹ hái được gấp 3 lần số bông hoa của con. Hỏi mẹ hái được bao nhiêu bông hoa?

**Bài giải:**

.....  
 .....  
 .....  
 .....

**ĐỀ 62**

**KIỂM TRA ĐỊNH KÌ GIỮA HỌC KÌ I - NĂM HỌC 2011-2012**

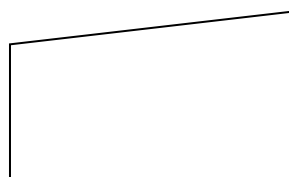
**Môn: Toán – Lớp 3**

**Thời gian : 40 phút**

**PHẦN I: Trắc nghiệm**

*Khoanh tròn vào chữ cái đặt trước đáp án đúng:*

- Số liền trước của **900** là:  
 A. 999                      B. 899                      C. 800                      D. 898
- $\frac{1}{7}$  của 42kg là bao nhiêu ?  
 A. 6                              B. 6kg                      C. 7kg                      D. 8kg
- Số cần điền vào ô trống trong phép tính  $\square : 6 = 12$  là số nào ?  
 A. 72                              B. 32                              C. 12                              D. 42
- Đoạn thẳng AB dài 4cm, đoạn thẳng CD dài gấp 6 lần đoạn thẳng AB. Hỏi đoạn thẳng CD dài bao nhiêu ?  
 A. 24mm                      B. 24                              C. 24dm                      D. 24cm
- Mỗi tuần lễ có 7 ngày , hỏi 4 tuần lễ có tất cả bao nhiêu ngày ?  
 A. 11 ngày                      B. 24 ngày                      C. 28 ngày                      D. 32 ngày
- Số góc vuông có trong hình vẽ bên là:  
 A. 1  
 B. 2  
 C. 3  
 D. 4



**PHẦN II: Tự luận**

**Bài 1:** Đặt tính rồi tính :

- |              |              |           |           |
|--------------|--------------|-----------|-----------|
| a) 541 - 127 | b) 168 + 503 | c) 35 x 6 | d) 46 : 5 |
| .....        | .....        | .....     | .....     |
| .....        | .....        | .....     | .....     |
| .....        | .....        | .....     | .....     |

**Bài 2:** Tìm **x** :

- |                      |                      |
|----------------------|----------------------|
| a) 42 : <b>x</b> = 7 | b) <b>x</b> x 6 = 30 |
| .....                | .....                |

**Bài 3:** Tính:

a)  $45 : 5 + 347$

b)  $26 \times 5 - 34$

**Bài 4:**

Một công việc làm bằng tay hết 40 giờ, nếu làm bằng máy thì thời gian giảm 5 lần. Hỏi làm công việc đó bằng máy thì hết bao nhiêu giờ ?

**Bài giải:**

**ĐỀ 63**

**KIỂM TRA ĐỊNH KÌ GIỮA HỌC KÌ I - NĂM HỌC 2011-2012**

**Môn: Toán – Lớp 3**

**Thời gian : 40 phút**

**A. Phần I : Trắc nghiệm**

Khoanh tròn vào chữ cái đặt trước kết quả đúng

1. Cho các số : 399; 421; 573; 241; 735; 142. Số lớn nhất trong các số trên là :  
 A. 573                      B. 735                      C. 142                      D. 399
2.  $5 \times 7 \dots 5 \times 6$ , Dấu cần điền vào chỗ trống là :  
 A. <                      B. >                      C. = ;                      D. không có dấu nào
3. Có 10 quả cam xếp vào các đĩa, mỗi đĩa 2 quả. Hỏi xếp được vào mấy đĩa?  
 A. 20 đĩa                      B. 4 đĩa                      C. 5 đĩa                      D. 10 đĩa
4. 5 gấp 8 lần là :  
 A. 40                      B. 42                      C. 45                      D. 35
5.  $4 \times 6 + 7 = ?$   
 A. 17                      B. 27                      C. 31                      D. 33
6.  $\frac{1}{6}$  của 24 m là :  
 A. 7 m                      B. 6 m                      C. 5 m                      D. 4 m

**B. Phần II: Tự luận**

1. Đặt tính rồi tính :

a)  $234 + 432$

b)  $765 - 146$

c)  $28 \times 6$

d)  $48 : 4$

2. Tìm x :

$$x : 6 = 9$$

$$x \times 5 = 35$$

.....  
 .....  
 .....

3. Tính:

a)  $7 \times 8 - 26 = \dots\dots\dots$       b)  $48 : 4 + 25 = \dots\dots\dots$

.....

4. Một cửa hàng có 40 m vải xanh. Cửa hàng đã bán được  $\frac{1}{5}$  số vải đó. Hỏi cửa hàng đã bán mấy mét vải xanh?

**Bài giải :**

.....  
 .....  
 .....  
 .....

**ĐỀ 64**

**KIỂM TRA ĐỊNH KÌ GIỮA HỌC KÌ I - NĂM HỌC 2011-2012**

**Môn: Toán – Lớp 3**

**Thời gian : 40 phút**

**I. Phần trắc nghiệm:**

Khoanh tròn vào trước chữ cái đặt trước kết quả đúng.

**Câu 1:** Trong các số sau : 375, 421, 241, 735. Số bé nhất là :

- A. 375                      B. 735                      C. 421                      D. 241

**Câu 2 :**  $20 : 2 \times 3 = \dots\dots\dots$  Số cần điền vào chỗ chấm là :

- A. 10                      B. 30                      C. 20                      D. 40

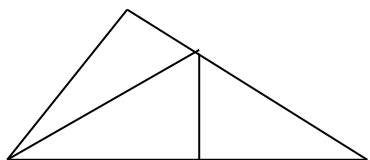
**Câu 3 :** Số dư của phép chia  $37 : 5$  là:

- A. 1                      B. 2                      C. 3                      D. 4

**Câu 4:**  $21 : x = 7$ . Số điền vào chữ  $x$  là:

- A. 28                      B. 147                      C. 14                      D. 3

**Câu 5:**



Số hình tam giác trong hình vẽ trên là;

- A. 2 hình                      B. 3 hình                      C. 4 hình                      D. 5 hình

**Câu 6:** Có 10 quyển vở ,  $\frac{1}{2}$  số quyển vở là:

- A. 2 quyển vở                      B. 3 quyển vở                      C. 4 quyển vở                      D. 5 quyển vở

**II. Phần tự luận:**

1. Đặt tính rồi tính:

a)  $63 \times 4$

b)  $27 \times 6$

c)  $86 : 2$

d)  $63 : 3$

.....  
 .....  
 .....

2. Tính giá trị của biểu thức:

a)  $7 + 6 + 18 =$  .....

b)  $42 : 7 + 5 =$ .....

.....  
 .....

3. Tìm  $x$ :

a)  $20 : x = 5$

b)  $x \times 6 = 42$

.....  
 .....

4. Trong vườn có 63 cây ăn quả,  $\frac{1}{7}$  số cây đó là cây bưởi. Hỏi trong vườn có bao nhiêu cây bưởi ?

.....  
 .....  
 .....