

**ĐỀ THI GIỮA HK2 MÔN TOÁN LỚP 2**  
Đề số 1

Câu 1. Tính: ( 2 điểm)

$3 \times 5 =$

$4 \times 8 =$

$5 \times 5 =$

$1 \times 5 =$

$24 : 4 =$

$30 : 5 =$

$12 : 3 =$

$20 : 2 =$

Câu 2. Đặt tính rồi tính ( 1 điểm)

$39 + 26$

$56 - 37$

.....  
.....  
.....

.....  
.....  
.....

Câu 3. Tìm X (1 điểm)

$X \times 3 = 24$

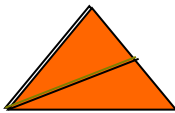
$X : 4 = 8$

.....  
.....

.....  
.....

Câu 4. (1 điểm)

a/ Khoanh vào chữ đặt dưới hình đã tô màu  $\frac{1}{3}$



A

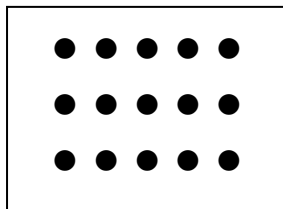


B



C

b/ Khoanh vào  $\frac{1}{5}$  số chấm tròn trong hình sau:



Câu 5. ( 2 điểm)

Điền số thích hợp vào  $\square$  trong các phép tính sau:

$\square \times 4 = 12$

$\square : 6 = 2$

$20 : \square = 5$

$5 \times \square = 5$

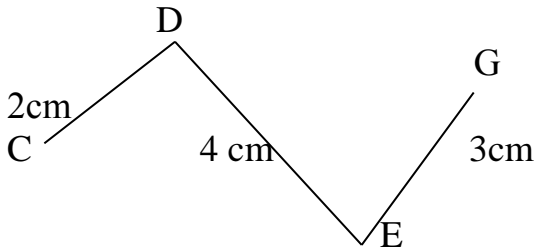
Câu 6. ( 2 điểm)

Có 35 bạn xếp thành 5 hàng bằng nhau. Hỏi mỗi hàng có bao nhiêu bạn ?

Bài giải

.....  
 .....  
 .....

Câu 7. Quan sát hình và điền vào chỗ chấm:(1 điểm)



Đường gấp khúc trên có tên là:.....

Đường gấp khúc trên có độ dài là:.....

ĐỀ SỐ 2

**Bài 1**(1 điểm). Tính nhẩm:

$3 \times 4 = \dots\dots\dots$

$4 \times 5 = \dots\dots\dots$

$12 : 2 = \dots\dots\dots$

$15 : 5 = \dots\dots\dots$

**Bài 2**(1 điểm). Tìm x

a.  $x \times 5 = 20$

.....  
 .....  
 .....

b.  $x : 5 = 3$

.....  
 .....  
 .....

**Bài 3**(1 điểm). Tính?

a.  $5 \times 7 - 15 = \dots\dots\dots$

.....

b.  $2 \times 5 + 29 = \dots\dots\dots$

.....

**Bài 4** ( 1 điểm). Viết phép nhân thích hợp

a)  $4 + 4 + 4 + 4 = \dots\dots\dots$

b)  $5 + 5 + 5 = \dots\dots\dots$

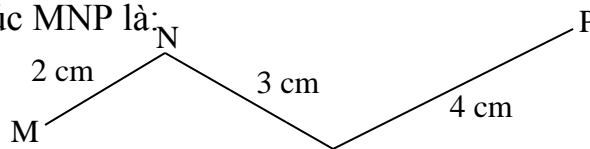
**Bài 5**(3 điểm). Khoanh vào chữ cái đặt trước câu trả lời đúng:

a. Độ dài đường gấp khúc MNP là:

A. 8 cm

B. 9 cm

C. 10 cm



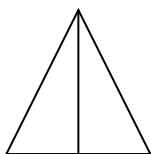
b. Tính chu vi hình tam giác có độ dài các cạnh là: 7 cm, 10 cm và 13 cm

A. 30 cm

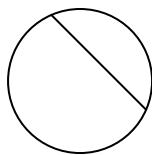
B. 20 cm

C. 40 cm


c. Đã chia  $\frac{1}{2}$  hình nào?



**A**



**B**

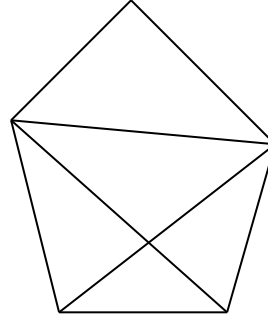


**C**

**Bài 6**(1 điểm). Khoanh vào chữ cái đặt trước câu trả lời đúng:

Số hình tứ giác trong hình vẽ là:

- A. 1
- B. 2
- C. 3
- D. 4



**Bài 7**(1điểm). Mỗi can đựng 2 l dầu. Hỏi 10 can như thế đựng bao nhiêu lít dầu?  
 Bài giải:

.....  
 .....  
 .....  
 .....

**Bài 8**(1điểm). Có 18 lá cờ chia đều cho 3 tổ. Hỏi mỗi tổ có mấy lá cờ?  
 Bài giải:

.....  
 .....  
 .....  
 .....

Đề số 3

**Bài 1: Tính nhẩm** (2 điểm)

$2 \times 3 = \dots\dots$	$3 \times 6 = \dots\dots$	$4 \times 7 = \dots\dots$	$5 \times 2 = \dots\dots$
$8 : 2 = \dots\dots$	$21 : 3 = \dots\dots$	$12 : 4 = \dots\dots$	$20 : 5 = \dots\dots$

**Bài 2: Tính** (1 điểm)

a/ $4 \times 5 - 18 = \dots\dots$	b/ $2 \times 8 + 10 = \dots\dots$
= $\dots\dots$	= $\dots\dots$

**Bài 3: Điền dấu (>, <, =) thích hợp vào ô trống** (2 điểm)

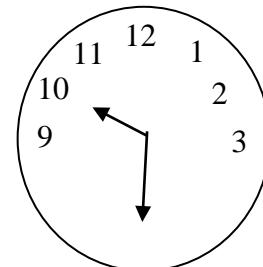
a/ $4 \times 1 \square 12 : 3$	b/ $5 \times 3 \square 3 \times 5$
c/ $10 : 2 \square 2 \times 5$	d/ $3 \times 6 \square 8 : 2$

**Bài 4: Tìm x** (1 điểm)

a/ $X \times 3 = 27$	b/ $X : 2 = 5$
.....	.....
.....	.....

**Bài 5: Điền số thích hợp vào chỗ chấm** (1 điểm)

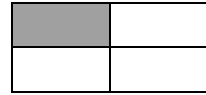
a/  $15\text{cm} : 3 = \dots\dots\text{cm}$   
 b/ Đồng hồ chỉ .....giờ .....phút



8 4  
7 5  
6

**Bài 6: Khoanh tròn vào chữ đặt trước câu trả lời đúng (1 điểm)**

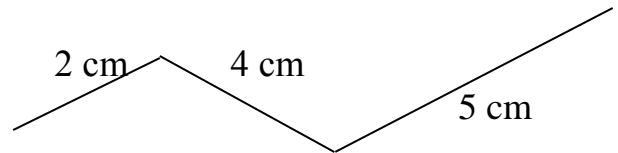
a/ Đã tô màu vào một phần mấy của hình :



- A.  $\frac{1}{2}$       B.  $\frac{1}{3}$       C.  $\frac{1}{4}$

b/ Độ dài đường gấp khúc hình bên là:

- A. 10 cm      B. 12 cm      C. 11 cm



**Bài 7: (2 điểm)**

a/ Mỗi học sinh được mượn 3 quyển truyện. Hỏi 8 học sinh được mượn bao nhiêu quyển truyện?

Bài giải

.....  
 .....  
 .....

b/ Có 20 kg gạo chia đều vào 4 túi. Hỏi mỗi túi có mấy kilôgam gạo?

Bài giải

.....  
 .....  
 .....

Đề số 4

**Bài 1:** Tính nhẩm : (2 điểm)

$3 \times 8 = \dots\dots$  ;  $4 \times 6 = \dots\dots$ ;  $5 \times 7 = \dots\dots$  ;  $2 \times 3 = \dots$

$16 : 2 = \dots\dots$  ;  $30 : 3 = \dots\dots$  ;  $32 : 4 = \dots\dots$  ;  $45 : 5 = \dots\dots$  ;

**Bài 2:** Viết số hoặc thích hợp vào chỗ chấm: (1 điểm)

Trang 4



---

.....  
.....  
.....  
.....  
.....

**Bài 7:** ( 1 điểm ).

a) Mỗi can đựng 5 lít dầu. Hỏi 7 can như thế đựng bao nhiêu lít dầu. ( 1 điểm ).

**Bài giải:**