

**ĐỀ SỐ 1:**

Trường Tiểu học:.....

**BÀI KIỂM TRA CUỐI HỌC KÌ II**

Họ và tên: .....

**NĂM HỌC: 2016 - 2017**

Lớp:.....

**Môn: TOÁN – Lớp 1C**

**Thời gian: 40 phút**

<u>Điểm</u>	<u>Lời phê của cô giáo</u>

**Câu 1:** (1 điểm – M1): Khoanh vào chữ cái trước kết quả đúng:

a) Trong các số: 51, 19, 90, 59 số nào bé nhất

A . 51                      B . 19                      C . 90                      D . 59

b) Trong các số: 10, 30, 50, 99 số tròn chục lớn nhất là.

A . 10                      B . 30                      C . 50                      D . 99

**Câu 2:** (1 điểm – M1): Khoanh vào chữ cái trước kết quả đúng:

a) số liền sau của 86 là:

A . 82                      B . 85                      C . 87                      D . 81

b) Số liền trước của 90 là :

A . 79

B . 68

C . 89

D . 84

**Câu 3:** (1 điểm – M2): Điền số thích hợp vào ô trống:

$$14 + \square = 68$$

A . 54

B . 74

C . 44

D . 52

**Câu 4:** (1 điểm – M2): Tính

a)  $15 + 34 - 37 =$

b)  $38 - 13 + 24 =$

**Câu 5 :** (1 điểm – M3): Đặt tính rồi tính :

$6 + 53$

$67 - 35$

$27 + 42$

$60 - 50$

**Câu 6:** (1 điểm – M1): Khoanh vào chữ cái trước kết quả đúng:

Túi thứ nhất có 15 cái kẹo túi thứ hai có 21 cái kẹo. Hỏi cả hai túi có bao nhiêu cái kẹo.

A. 36 cái kẹo

B: 37 cái kẹo

C: 39 cái kẹo

D: 26 cái kẹo

**Câu 7:** (1 điểm – M1): Khoanh vào chữ cái trước kết quả đúng

Các số 73, 99, 89, 80 Theo thứ tự từ bé đến lớn

A: 73,80,89,99

B: 99,89,80,73

C: 73,89,80,99

D: 80,73,89,90

**Câu 8:** (1 điểm – M2): Khoanh vào chữ cái trước kết quả đúng:

$$38 - 32 + 32 = \dots\dots\dots$$

A: 37

B: 38

C: 40

D: 39

**Câu 9:** (1 điểm – M3):

Hồng vẽ được 50 bông hoa, Mai vẽ hơn Hồng 9 bông hoa. Hỏi Mai vẽ được bao nhiêu bông hoa ?

Giải

.....

.....

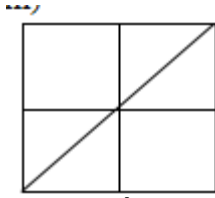
.....

.....

.....

.....

**Câu 10:** (1 điểm – M4): Khoanh vào chữ cái đặt trước câu trả lời đúng



a) Có mấy hình tam giác.

A. 3

B. 4

C. 6

D. 5

b) Có mấy hình vuông

A. 5

B. 4

C. 6

D. 3

### HƯỚNG DẪN CHẤM ĐỀ KIỂM TRA TOÁN

**Câu 1:** Khoanh vào chữ cái trước kết quả đúng:

a) Ý B

b) Ý C

(Đúng mỗi ý cho 0,5 điểm)

**Câu 2:** Khoanh vào chữ cái trước kết quả đúng:

a) Ý C

b) Ý C

(Đúng mỗi ý cho 0,5 điểm)

**Câu 3**

Ý A

(Đúng cho 1 điểm)

**Câu 4:** Tính

a)  $15 + 34 - 37 = 49 - 37$

$$= 12$$

b)  $38 - 13 + 24 = 25 + 24$  (Đúng mỗi ý cho 0,5 điểm)

$$= 49$$

**Câu 5** : Đặt tính rồi tính :

$$\begin{array}{r} + \quad 6 \\ 53 \\ \hline 59 \end{array}$$

$$\begin{array}{r} - \quad 67 \\ 35 \\ \hline 32 \end{array}$$

$$\begin{array}{r} + \quad 27 \\ 42 \\ \hline 69 \end{array}$$

$$\begin{array}{r} - \quad 60 \\ 50 \\ \hline 10 \end{array}$$

(Đúng mỗi ý cho 0,25 điểm)

**Câu 6** : Khoanh vào chữ cái trước kết quả đúng:

**Ý A** (Đúng cho 1 điểm)

**Câu 7** : Khoanh vào chữ cái trước kết quả đúng:

**Ý A** (Đúng cho 1 điểm)

**Câu 8** : Khoanh vào chữ cái trước kết quả đúng:

**Ý B** (Đúng cho 1 điểm)

**Câu 9**

Bài giải

Mai vẽ được số bông hoa là (Đúng 0,3 điểm)

$$50 + 9 = 59 \text{ (bông hoa) (Đúng 0,4 điểm)}$$

Đáp số : 59 bông hoa (Đúng 0,3 điểm)

**Câu 10**: Khoanh vào chữ cái đặt trước câu trả lời đúng

a) **Ý C**                      b) **Ý A**                      (Đúng mỗi ý cho 0,5 điểm)

**ĐỀ SỐ 2:**

Trường:.....

**BÀI KIỂM TRA CUỐI HỌC KÌ II**

Họ và tên: .....

**NĂM HỌC: 2016 - 2017**

Lớp:.....

**Môn: TOÁN – Lớp 1**

**Thời gian: 40 phút**

<u>Điểm</u>	<u>Lời phê của cô giáo</u>

**ĐỀ 1**

**Câu 1:**

a) Trong các số: 72, 69, 85, 47 số nào bé nhất

- A. 72                  B. 69                  C. 85                  D. 47

b) Số “Ba mươi sáu “viết là

- A. 306                  B. 36                  C. 63                  D. 66

**Câu 2 :**

a) Số liền sau của 78 là:

- A. 68                  B. 77                  C. 79                  D. 76

b) Phép cộng  $30+20$  có kết quả bằng

A. 10

B. 55

C. 50

D. 52

**Câu 3:**

Các số 28,76,54,74 theo thứ tự từ bé đến lớn là:

A. 28,76,54,74

B. 76,74,54,28

C. 28, 54, 76, 74

D. 28, 54, 74, 76

**Câu 4 :**

$$70 - 50 + 20$$

A. 50

B. 40

C. 10

D. 60

**Câu 5: (1 điểm – M2):** Điền số thích hợp vào ô trống:

$$96 - \square = 62$$

A. 33

B. 34

C. 60

D. 24

**Câu 6:** Tính

a)  $78 - 7 - 1 = \dots\dots\dots$

b)  $23 + 10 + 15 = \dots\dots\dots$

**Câu 7 :**

Lấy số tròn chục liền sau của số 30 cộng với 40 ta được:

A. 70

B. 80

C. 10

D. 50

**Câu 8 : (1 điểm – M3):** Đặt tính rồi tính:





## HƯỚNG DẪN CHẤM ĐỀ KIỂM TRA TOÁN

**Câu 1:** Khoanh vào chữ cái trước kết quả đúng:

a) Ý D                      b) Ý B                      (Đúng mỗi ý cho 0,5 điểm)

**Câu 2:** Khoanh vào chữ cái trước kết quả đúng:

a) Ý C                      b) Ý C                      (Đúng mỗi ý cho 0,5 điểm)

**Câu 3:**

Ý D                      (Đúng cho 1 điểm)

**Câu 4:** Khoanh vào chữ cái trước kết quả đúng:

Ý B                      (Đúng cho 1 điểm)

**Câu 5:** Khoanh vào chữ cái trước kết quả đúng:

Ý B                      (Đúng cho 1 điểm)

**Câu 6:** Tính

a)  $78 - 7 - 1 = 70$

b)  $23 + 10 + 15 = 48$  (Đúng mỗi ý cho 0,5 điểm)

**Câu 7** Khoanh vào chữ cái trước kết quả đúng:

Ý B                      (Đúng cho 1 điểm)

**Câu 8 :** Đặt tính rồi tính :

(Đúng mỗi ý cho 0,25 điểm)

**Câu 9**

Bài giải

Số gà còn lại là : (Đúng 0,3 điểm)

$$34 - 12 = 22 \text{ (con gà )} \text{ (Đúng 0,4 điểm)}$$

Đáp số : 22 con gà (Đúng 0,3 điểm)

**Câu 10 :** Khoanh vào chữ cái đặt trước câu trả lời đúng

Ý D (Đúng cho 1 điểm)

**ĐỀ SỐ 3**

Trường Tiểu học Đồi Ngô  
 Tên:.....  
 Lớp 1....

ĐỀ THI CUỐI HỌC KỲ II  
 NĂM HỌC 2016 -2017  
 MÔN THI: TOÁN

<u>Điểm</u>	<u>Nhận xét của giáo viên</u>

**Thực hiện các yêu cầu sau:**

**Câu 1:** Điền số thích hợp vào chỗ chấm:

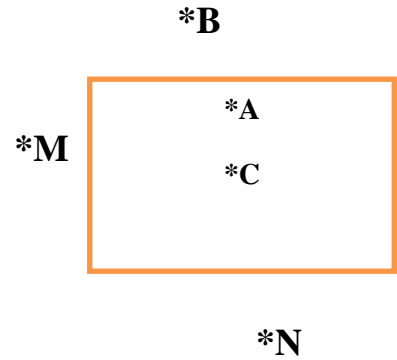
- a. Số liền sau của 99 là .....
- b. Số liền trước của 80 là.....

**Câu 2:** Viết các số tròn chục từ 1 đến 10

.....

**Câu 3:** Đúng ghi Đ, sai ghi S vào ô trống:

- a. Điểm A ở trong hình chữ nhật
- b. Điểm M nằm ở trong hình chữ nhật
- c. Điểm B nằm ở trong hình chữ nhật
- d. Điểm N nằm ở ngoài hình chữ nhật



**Câu 4:** Khoanh vào số lớn nhất: M2

- a. 20 ; 40 ; 70 ; 10
- b. 70 ; 50 ; 80 ; 30

**Câu 5:** Khoanh tròn chữ cái đặt trước kết quả đúng: M2

Em nghỉ 1 tuần lễ và ba ngày. Vậy em nghỉ được:

- A. 7 ngày
- B. 8 ngày
- C. 9 ngày
- D. 10 ngày

**Câu 6:** Đặt tính rồi tính M2

$$30 + 40$$

$$79 - 69$$


**Câu 7:** Hãy so sánh 56 và 76

.....

**Câu 8:** Một sợi dây dài 79 cm. Bó cắt đi 50 cm. Sợi dây còn lại là:

- A. 19cm
- B. 29cm
- C. 20cm

D. 9cm

**Câu 9:** Lan có 20 cái kẹo, mẹ cho Lan thêm 20 cái kẹo nữa. Hỏi Lan có tất cả bao nhiêu cái kẹo? **M3**

Bài giải

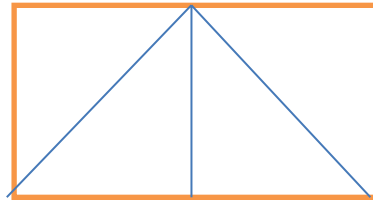
.....

.....

.....

**Câu 10:** Số hình tam giác có ở hình bên là:

- A. 3
- B. 4
- C. 5
- D. 6



**ĐÁP ÁN – BIỂU ĐIỂM**

**Câu 1:**  $0,5 \times 2 = 1$  điểm


- a. 100
- b. 79

**Câu 2:** 1 điểm – mỗi số 0,2 điểm

50; 60; 70; 80; 90

**Câu 3:** 1 điểm – mỗi ý 0,25 điểm

- a. Đ



b. S

c. S

d. Đ

**Câu 4:** 0,5 điểm x2 = 1 điểm

a. 70

b. 80

**Câu 5:** 1 điểm

D. 10 ngày

**Câu 6:** 1 điểm

Đặt tính và tính đúng mỗi câu được 0,5 điểm

**Câu 7:** 1 điểm **56 < 76**

**Câu 8:** 1 điểm – B: 29cm

**Câu 9:** 1 điểm

- Lời giải, đáp số: 0,5 điểm

- Viết phép tính: 0,5 điểm

**Câu 10:** 1 điểm – C. 5

