

**ĐỀ KIỂM TRA HỌC KỲ 2 TOÁN LỚP 1**

**ĐỀ SỐ 1**

**Bài 1.** (2 điểm)

a) Viết số thích hợp vào chỗ chấm :

70 ; ..... ; ..... ; 73 ; ..... ; ..... ; ..... ;

..... ; ..... ; 50 ; ..... ; ..... ; ..... ; 54

b) Viết các số :

Ba mươi tư : .....

Năm mươi ba : .....

Hai mươi lăm : .....

Một trăm : .....

c) Viết số theo thứ tự từ lớn đến bé : 78 ; 87 ; 94 ; 49

.....

**Bài 2.** (2 điểm) Đặt tính rồi tính :

$20 + 40$

$34 - 12$

$23 + 32$

$58 - 48$

.....

.....

.....

.....

.....  
.....  
**Bài 3.** (2 điểm) Tính :

$13 + 4 - 5 = \dots\dots\dots$

$24 \text{ cm} - 4 \text{ cm} = \dots\dots\dots$

$26 - 5 + 8 = \dots\dots\dots$

$40 \text{ cm} + 7 \text{ cm} - 37 \text{ cm} = \dots\dots\dots$

**Bài 4.** (1 điểm) Điền số thích hợp vào ô trống :

$\square + 43 = 43$

$56 - \square = 6$

$22 + \square = 27$

$35 - \square = 1$

**Bài 5.** (2 điểm)

a) Viết tiếp vào bài giải :

Bà có 36 quả trứng, bà đã bán 24 quả. Hỏi bà còn bao nhiêu quả trứng ?

*Bài giải*

Bà còn lại số quả trứng là :

.....

Đáp số : .....

b) An có 12 viên bi màu xanh và 7 viên bi màu đỏ. Hỏi An có tất cả bao nhiêu viên bi ?

*Bài giải*

.....

.....

.....

.....

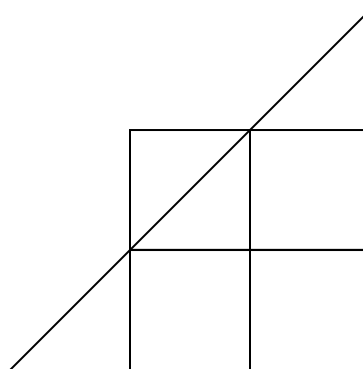
.....

.....

.....

**Bài 6.** (1điểm) Hình vẽ bên có :

- a) Có ..... hình tam giác
- b) Có .....vuông



**ĐỀ SỐ 2**

**Bài 1:** Viết các số 36, 63, 69, 84 theo thứ tự:

A, Từ bé đến lớn:.....

B, Từ lớn đến bé: .....

**Bài 2: Đặt tính rồi tính:**

$63 + 35$

$31 + 46$

$87 - 24$

$79 - 27$

.....

.....

.....

.....

.....

.....

.....

.....

.....

.....

.....

.....

**Bài 3: Tính:**

$50 + 30 = \dots\dots\dots$

$90 - 40 = \dots\dots\dots$

$29 - 5 = \dots\dots\dots$

$27 + 2 = \dots\dots\dots$

$15 + 2 - 3 = \dots\dots\dots$

$87 - 2 - 4 = \dots\dots\dots$

**Bài 4 :** Nga hái được 23 bông hoa , Hồng hái được 26 bông hoa . Hỏi cả hai bạn hái được bao nhiêu bông hoa ?

**.Giải**

.....

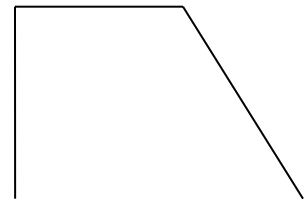
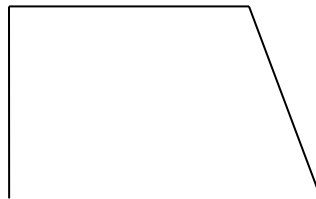
.....

.....

Bài 5 : Hãy vẽ thêm một đoạn thẳng để có :

A , Một hình vuông và một hình tam giác.

B , Có hai hình tam giác :



### ĐỀ SỐ 3

1/- Điền số vào chỗ chấm : ( 1 đ) .

a- 79, ..... , 81 ,....., ..... , ..... , 85 , ..... , ..... , ..... , 89 , ..... ,  
..... .

b- 10, 20,....., ..... , 50,....., 70,.....,90

2/- Đúng ghi Đ , sai ghi S : ( 1 đ) .

$$\begin{array}{r} 78 \\ - 35 \\ \hline 52 \end{array} \square$$

$$\begin{array}{r} 66 \\ - 21 \\ \hline 34 \end{array} \square$$

$$\begin{array}{r} 35 \\ + 13 \\ \hline 48 \end{array} \square$$

$$\begin{array}{r} 84 \\ + 12 \\ \hline 72 \end{array} \square$$

3/- Khoanh vào trước số nào em cho là đúng : (1đ)

Số liền sau của 46 là :

a - 45

b - 47

c - 48

4/- Viết các số : 72, 38, 64 ( 1 đ)

a- Theo thứ tự từ bé đến lớn: .....

b- Theo thứ tự từ lớn đến bé: .....

5/- Tính nhẩm : (1,5 đ)  $75 - 4 = \dots\dots\dots$  ;  $51 + 37 = \dots\dots\dots$

$$40 + 30 + 4 = \dots\dots\dots$$

6/-Điền dấu  $>$  ,  $<$  ,  $=$  vào ô trống: (1,5 đ)

$$60 - 20 \square 10 + 30 ; \quad 53 + 4 \square 53 - 4 \quad ; \quad 75 - 5 \square 75 - 4$$

7/-Đặt tính rồi tính: ( 1 đ)

$$53 + 14 \quad ; \quad 85 - 64$$

.....  
.....  
.....  
.....

8/- Một thanh gỗ dài 97 cm, bố em cưa bớt đi 22 cm. Hỏi thanh gỗ còn lại dài bao nhiêu xăng ti mét? (2 đ)

.....  
.....  
.....  
.....

## **ĐỀ SỐ 4**

---

**Bài 1** : Viết các số 36 , 63 , 69 , 84 theo thứ tự :

a , Từ bé đến lớn :.....

b, Từ lớn đến bé: .....

**Bài 2** : Đặt tính rồi tính :

$63 + 35$

$3 + 46$

$87 - 24$

$79 - 7$

.....

.....

.....

.....

.....

.....

.....

.....

.....

.....

.....

.....

**Bài 3** : Tính .



$50 + 30 = \dots\dots\dots$       $90 - 40 = \dots\dots\dots$       $29 - 5 = \dots\dots\dots$

$27 \text{ cm} + 2 \text{ cm} = \dots\dots\dots$       $15 + 2 - 3 = \dots\dots\dots$       $87 - 2 - 4 = \dots\dots\dots$

**Bài 4** : Nga và Lan hái được 49 bông hoa , riêng Lan hái được 2 chục bông hoa . Hỏi Nga hái được bao nhiêu bông hoa ?

**.Giải**

.....

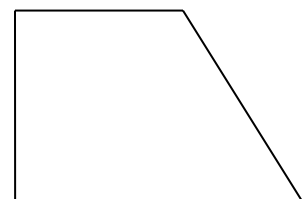
.....

.....

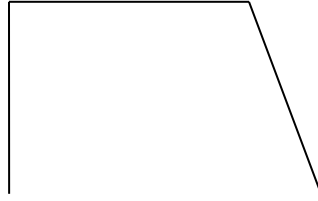
.....

**Bài 5** : Hãy vẽ thêm một đoạn thẳng để có :

A , Một hình vuông và một hình tam giác.



B, Có hai hình tam giác :



\_\_\_\_\_

**ĐỀ SỐ 5**

\_\_\_\_\_

1. a) Viết các số

Năm mươi tư : ..... ; Mười : .....

Bảy mươi một : ..... ; Một trăm : .....

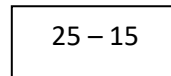
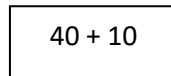
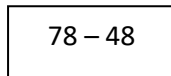
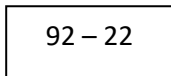
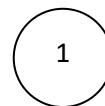
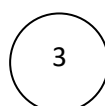
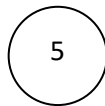
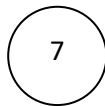
b) Khoanh tròn số bé nhất :

54 ; 29 ; 45 ; 37

c) Viết các số 62 ; 81 ; 38 ; 73 theo thứ tự từ lớn đến bé :

.....

2. a) Nối số với phép tính thích hợp :



b) Đặt tính rồi tính :

$3 + 63$

$99 - 48$

$54 + 45$

$65 - 23$

.....

.....  
.....  
c) Tính :

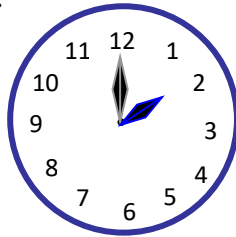
$27 + 12 - 4 = \dots\dots\dots ;$

$38 - 32 + 32 = \dots\dots\dots$

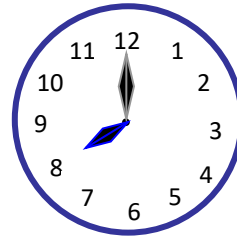
$25\text{cm} + 14\text{cm} = \dots\dots\dots ;$

$56\text{cm} - 6\text{cm} + 7\text{cm} = \dots\dots\dots$

3. Đồng hồ chỉ mấy giờ ?



..... giờ



..... giờ

4. Viết <, >, =      27 ..... 31

;      99 ..... 100

94 - 4 ..... 80

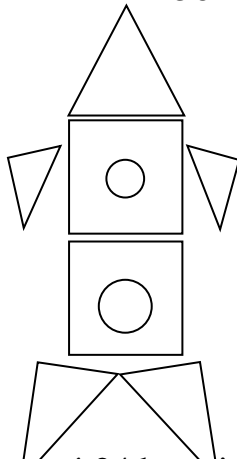
;      18 ..... 20 -

10

56 - 14 ..... 46 - 14      ;

25 + 41 ..... 41 + 25

5.



Hình vẽ bên có : ..... hình tam giác

..... hình vuông

..... hình tròn

6. Lớp em có 24 học sinh nữ , 21 học sinh nam. Hỏi lớp em có tất cả bao nhiêu học sinh?

Giải

.....

.....  
.....  
7. Một sợi dây dài 25cm . Lan cắt đi 5cm . Hỏi sợi dây còn lại dài mấy xăng ti mét ?

Giải

8. Viết số thích hợp vào

$$7 \square$$

$$54$$

$$\square 9$$

$$\square 4$$

+

$$- \square$$

$$+ \square$$

-

$$\underline{12}$$

$$\underline{24}$$

$$\underline{10}$$

$$\underline{20}$$

$$87$$

$$30$$

$$49$$

$$44$$

9. Tính nhẩm :  $43 + 6 = \dots\dots\dots$  ;  $60 - 20 = \dots\dots\dots$   
 $50 + 30 = \dots\dots\dots$  ;  $29 - 9 = \dots\dots\dots$

**ĐỀ SỐ 6**

**BÀI 1** : Viết số (2điểm)

a) Viết các số từ 89 đến 100 :

.....

b) Viết số vào chỗ chấm :

Số liền trước của 99 là ..... ; 70 gồm ..... chục và ..... đơn vị

Số liền sau của 99 là ..... ; 81 gồm ..... chục và ..... đơn vị

**BÀI 2 :** (3điểm)

a) Tính nhẩm :

$3 + 36 = \dots\dots\dots$  ;  $45 - 20 = \dots\dots\dots$  ;  $50 + 37 = \dots\dots\dots$  ;  $99 - 9 = \dots\dots\dots$

b) Đặt tính rồi tính :

$51 + 27$

$78 - 36$

.....

.....

.....

.....

.....

.....

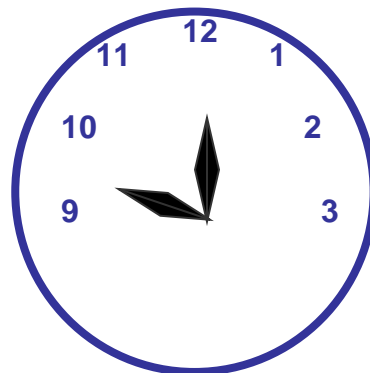
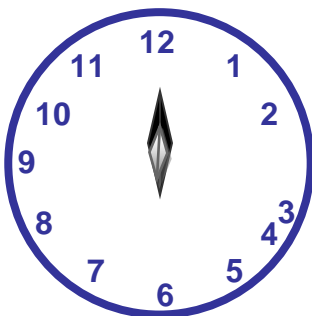
c) Tính :

$17 + 14 - 14 = \dots\dots\dots$

;

$38 \text{ cm} - 10 \text{ cm} = \dots\dots\dots$

**BÀI 3 :** Đồng hồ chỉ mấy giờ ? (1điểm)



8 7 6 5 4

..... giờ

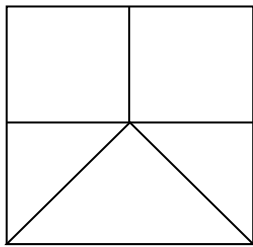
..... giờ

**BÀI 4 :**

|   |
|---|
| > |
| < |

 ?      79 ..... 74      ;      56 ..... 50 + 6  
(1điểm)      60 ..... 95      ;      32 - 2 ..... 32 + 2

**BÀI 5 :** (1điểm)



Hình vẽ bên có : ..... hình tam giác  
..... hình vuông

**BÀI 6** :Trong vườn nhà em có 26 cây cam và cây bưởi, trong đó có 15 cây cam. Hỏi trong vườn nhà em có bao nhiêu cây bưởi ?

Giải

.....

.....

.....