

BÀI KIỂM TRA ĐỊNH KÌ CUỐI HK1
MÔN: TOÁN – LỚP 1
THỜI GIAN: 40 phút
Năm học 2016 – 2017

A/ Phần trắc nghiệm khách quan (5điểm)

Em hãy khoanh tròn vào chữ đặt trước kết quả đúng:

Câu 1. Số bé nhất trong các số: 1, 0, 7, 6, là:

A. 1 B. 0 C. 5 D. 6

Câu 2. Số lớn nhất trong các số: 6, 8, 7, 9 là:

A. 6 B. 8 C. 7 D. 10

Câu 3. Kết quả phép tính : $10 - 3 + 1 =$

A. 6 B. 7 C. 8 D. 5

Câu 4. $5 + 4 \dots 4 + 5$ Điền dấu vào chỗ chấm:

A. > B. < C. =

Câu 5. Số điền vào ô trống trong phép tính $6 = 3 + \dots$

A. 3 B. 5 C. 2 D. 6

Câu 6. Số cần điền tiếp vào dãy số 1, 3, 5, ..., 9. là:

A. 5 B. 6 C. 7 D. 8

Câu 7.

Có: 8 quả chanh


Ăn: 2 quả chanh

Còn lại : ...quả chanh?

A. 5 B. 6

C. 4 D. 3

Câu 8. Trong hình dưới đây có mấy hình vuông?



A. 6 B. 5

C. 8 D. 7

II. Phần tự luận (5 điểm)

Bài 1: (1,5 điểm) **Tính:**

$$\begin{array}{r} 2 \\ + 3 \\ \hline \end{array} \quad \begin{array}{r} 4 \\ + 0 \\ \hline \end{array} \quad \begin{array}{r} 2 \\ + 5 \\ \hline \end{array} \quad \begin{array}{r} 5 \\ + 4 \\ \hline \end{array} \quad \begin{array}{r} 0 \\ + 5 \\ \hline \end{array}$$

Bài 2: (1 điểm) **Tính:**

$6 + 1 + 1 = \dots$

$5 + 2 + 1 = \dots$

$10 - 3 + 3 = \dots$

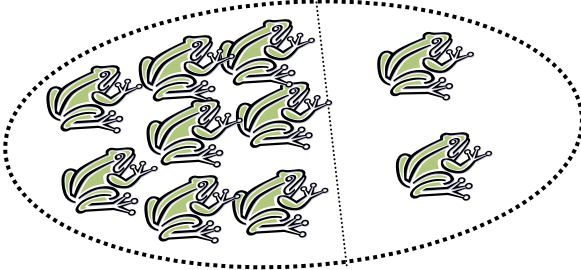
Bài 3: (1 điểm)

$>$ $<$ $=$?	$2 + 3 \dots 5$	$2 + 2 \dots 1 + 2$	$1 + 4 \dots 4 + 1$
		$2 + 2 \dots 5$	$2 + 1 \dots 1 + 2$	$5 + 0 \dots 2 + 3$

Bài 4: (1 điểm)

Viết

phép tính thích hợp vào ô trống:

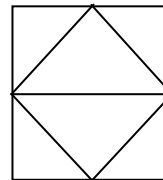


--	--	--	--	--	--

Bài 5: (0,5 điểm)

Hình bên có:

- hình tam giác.
- hình vuông



Mạch kiến thức, kỹ năng	Số câu và số điểm	Mức 1		Mức 2		Mức 3		Tổng	
		TNKQ	TL	TNKQ	TL	TNKQ	TL	TNKQ	TL
Số tự nhiên, phép cộng, phép	Số câu	2	1	4	1	1		7	2
	Câu số	1,2	1	3,4,5,6	2	7		1,2,3,4,5,	1,2

trừ trong phạm vi 10								6,7	
	Số điểm	1	1,5	2,0	1,5	0,5		3,5	3,0
Làm quen với giải toán có lời văn	Số câu	1		1			1	2	1
	Câu số	8		9			3	8,9	3
	Số điểm	0,5		0,5			1,0	1,0	1,0
Yếu tố hình học.	Số câu					1	1	1	1
	Câu số					10	4	10	4
	Số điểm					0,5	1	0,5	1,0
Tổng	Số câu	3	1	5	1	2	2	10	4
	Số điểm	1,5	1,5	2,5	1,5	1,0	2,0	5,0	5,0

Ma trận đề kiểm tra môn Toán cuối học học kì I lớp 1