

## Bộ đề ôn tập cuối năm môn toán lớp 5

### Đề 1

#### Câu 1 : ( 2 điểm )

Mỗi bài tập dưới đây có kèm theo một số câu trả lời A, B, C, D .Hãy khoanh vào chữ cái đặt trước câu trả lời đúng :

a). Một cái hồ hình tròn có bán kính 4 cm. Hỏi cái hồ có chu vi bằng bao nhiêu ?

A. 12,56 cm      B. 25,12 cm      C. 50,24 cm      D. 11,14 cm.

b). Hỏi 25 % của một ngày thì bằng bao nhiêu giờ ?

A. 25 giờ      B. 15 giờ      C. 3 giờ      D. 6 giờ

c). Ở nhà, An học Toán hết 1 giờ 15 phút, học Tiếng Việt ít hơn học Toán 25 phút. Hỏi An học xong Tiếng Việt và Toán hết bao nhiêu thời gian ?

A. 1 giờ 40 phút      B. 2 giờ 5 phút      C. 95 phút      D. 2 giờ 10 phút

d). Một vòi nước chảy đầy bể trong 3 giờ 20 phút. Hỏi 4 vòi nước như thế cùng chảy một lúc vào bể thì sau bao lâu bể sẽ đầy nước ?

A. 13 giờ 20 phút      B. 48 phút      C. 50 phút      D. 1 giờ 20 phút

#### Câu 2 : ( 2 điểm ) **Viết các số đo sau dưới dạng số đo bằng mét khối :**

a.  $3200 \text{ dm}^3 = \dots\dots\dots\text{m}^3$

b.  $234,5 \text{ m}^3 = \dots\dots\dots\text{dm}^3$

$1 \frac{1}{4} \text{ giờ} = \dots\dots\dots\text{phút}$

$2,8 \text{ phút} = \dots\dots\dots\text{giây}$

$7200 \text{ giây} = \dots\dots\dots\text{giờ}$

$36 \text{ giờ} = \dots\dots\dots\text{ngày}$

$3,15 \text{ giờ} = \dots\dots\text{giờ}\dots\dots\text{phút}$

$1,2 \text{ giờ} = \dots\dots\text{giờ}\dots\dots\text{phút}$

#### Câu 3 : ( 2 điểm ) **Đúng ghi (Đ) , sai ghi (S) vào ô vuông :**

$3 \text{ giờ } 5 \text{ phút} = 3,5 \text{ giờ}$

$1 \text{ giờ } 25 \text{ phút} \times 2 = 2 \text{ giờ } 50 \text{ phút}$

$5,6 \text{ giờ} = 5 \text{ giờ } 36 \text{ phút}$

$2 \text{ ngày } 23 \text{ giờ} - 24 \text{ giờ} = 1 \text{ ngày } 23 \text{ giờ}$

$1,8 \text{ giờ} = 1 \text{ giờ } 8 \text{ phút}$

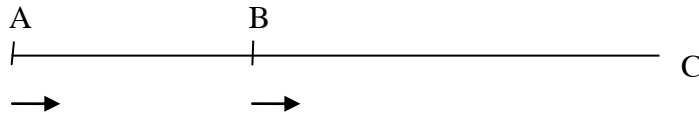
$1 \text{ giờ } 45 \text{ phút} \times 3 = 4 \text{ giờ } 35 \text{ phút}$

$615 \text{ giây} = 10 \text{ phút } 5 \text{ giây}$

$1 \text{ giờ } 40 \text{ phút} \times 2 = 3 \text{ giờ } 20 \text{ phút}$

#### Câu 4 : ( 2 điểm )

Một người đi xe máy từ B về C với vận tốc 44km/giờ. Cùng lúc đó, một ô tô đi từ A đuổi theo xe máy với vận tốc 65km/giờ. Sau 1 giờ 20 phút thì ô tô đuổi kịp xe máy. Hỏi quãng đường AB dài bao nhiêu ki-lô-mét ?



.....

.....

.....

.....

.....

.....

**Câu 5 :** ( 2 điểm )

Bắc và Sơn ở cách nhau 36 km đi lại gặp nhau. Bắc đi bộ với vận tốc 5,4 km/giờ còn Sơn đi xe đạp với vận tốc 16,2 km/ giờ. Họ cùng khởi hành lúc 6 giờ 30 phút . Hỏi :

- a). Họ gặp nhau lúc mấy giờ ?
- b). Khi gặp nhau, mỗi người đã đi được bao nhiêu km ?

**ĐỀ 2**

**I. Phần trắc nghiệm**

**Khoanh vào chữ cái đặt trước kết quả đúng :**

**Câu1:** Nếu gọi diện tích hình tam giác là S, đáy là a, chiều cao là h thì ta có công thức tính a là:

- A.  $a = \frac{S}{h}$       B.  $a = \frac{2xS}{h}$       C.  $a = \frac{S}{2xh}$       D.  $a = Sxh$

**Câu 2:** Một hình lập phương có số đo một cạnh là 1 m thì diện tích toàn phần của hình đó là:

- A.  $4 m^2$       B.  $6m^2$       C.  $12m^2$       D.  $8m^2$

**Câu 3:** Phân số  $\frac{35}{50}$  được viết dưới dạng số thập phân là:

- A. 0,07      B. 70      C. 0,7      D. 7,7

Câu 4: Nếu một cạnh của một hình hộp chữ nhật được gấp lên 2 lần thì thể tích của hình đó được gấp lên:

- A. 2 lần                      B. 4 lần                      C. 6 lần                      D. 8 lần

Câu 5 : Chữ số 8 trong số thập phân 97,834 là :

- A.  $\frac{8}{1000}$                       B.  $\frac{8}{100}$                       C.  $\frac{8}{10}$                       D. 8

Câu 6 : Viết  $2\frac{4}{100}$  dưới dạng số thập phân là :

- A. 2,4                      B. 2,04                      C. 3,004                      D. 3,04

**II./ Phần tự luận:**

Bài 1: ( 2 điểm) Tính:  $( 2,5 \times 100 - 1,25 \times 200 ) \times ( \frac{3}{4} \times 0,1 )$

.....  
.....  
.....

Bài 2: ( 3 điểm ) Một thửa ruộng hình thang có đáy lớn là 30,5 m, đáy bé là 20,5 m, chiều cao là 100 dm.

- a , Tính diện tích của thửa ruộng đó?  
b , Cứ 1 m<sup>2</sup> thửa ruộng thu được 0,9 kg thóc tươi. Hỏi thửa ruộng đó thu được bao nhiêu kg thóc tươi?  
c , Khi phơi khô thóc tươi bị hao 5%. Tính số thóc khô thu được trên thửa ruộng đó?

.....  
.....  
.....  
.....  
.....  
.....  
.....  
.....  
.....

.....  
.....  
.....  
.....

**Bài 3:** ( 2 điểm )

Diện tích của một hình tròn là  $78,5 \text{ m}^2$ . Tính bán kính của hình tròn đó?

.....  
.....  
.....  
.....

**ĐỀ 3**

**PHẦN I : ( 4 điểm )**

**Bài 1 :** Khoanh tròn vào chữ đặt trước câu trả lời đúng .

a). Số lớn nhất trong các số :  $5,897$  ;  $5,879$  ;  $5,89$  ;  $5,9$  là :

- A.  $5,897$                       B.  $5,879$                       C.  $5,89$                       D.  $5,9$

b). Hỗn số  $25\frac{7}{100}$  viết dưới dạng số thập phân là :

- A.  $25,7$                       B.  $25,07$                       C.  $25,007$                       D.  $2,507$

c).  $415\text{dm}^3 = \dots\dots\dots\text{m}^3$  . Số thích hợp điền vào chỗ trống là :

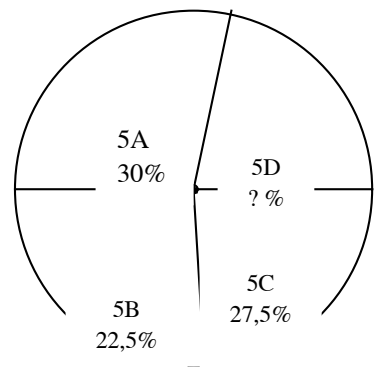
- A.  $41,5$                       B.  $4,15$                       C.  $0,415$                       D.  $0,0415$

d). Một người đi bộ từ nhà ra chợ với vận tốc  $4,8\text{km/giờ}$  thì mất 6 phút. Quãng đường từ nhà đến chợ có độ dài là:

- A.  $28,8\text{km}$                       B.  $28,8\text{m}$                       C.  $48\text{m}$                       D.  $480\text{m}$

**Bài 2:** Biểu đồ dưới đây cho biết tỉ số % số quyển vở của các lớp 5 quen góp hỗ trợ các bạn học sinh khó khăn. Biết rằng tổng số vở góp được là 400 quyển. Điền số thích hợp vào chỗ chấm:

- Lớp góp số vở nhiều nhất là lớp .....góp được ..... quyển vở.
- Lớp góp được ít vở nhất là lớp ....., góp được .....quyển vở



**Bài 3:** Đúng ghi Đ, sai ghi S :

2 giờ 15 phút = 215 phút

0,6 giờ = 36 phút

$5\text{m}^2 8\text{dm}^2 = 5,08 \text{m}^2$

5,3kg = 5003 kg

**PHẦN II : ( 6điểm )**

**Bài 1:** Đặt tính rồi tính :

$293,04 + 62,38$

$182 : 1,6$

$1207 - 432,29$

$34,6 \times 0,8$

$182 : 1,6$

**Bài 2 :**

a.). Tính x :

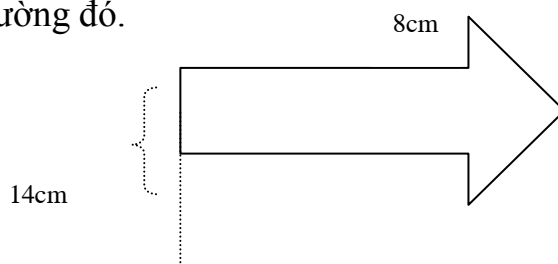
$9,27 - x = 6,8$

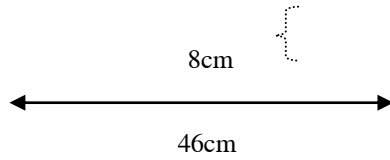
b). Tính giá trị biểu thức :

$7 \text{ phút } 14 \text{ giây} \times 3 + 23 \text{ phút } 18 \text{ giây}$

**Bài 3:** Một thanh sắt dài 1,2m cân nặng 5,76kg. Hỏi thanh sắt cùng loại dài 1,8m thì cân nặng bao nhiêu kilogam?

**Bài 4:** Một tấm bảng chỉ dẫn có kích thước như hình vẽ dưới đây. Tính diện tích của tấm bảng chỉ đường đó.





## ĐỀ 4

1. Đặt tính rồi tính : ( 2 điểm )

a).  $465,74 + 352,48$

.....  
.....  
.....  
.....

b).  $196,7 - 97,34$

.....  
.....  
.....  
.....

c).  $67,8 \times 1,5$

.....  
.....  
.....  
.....  
.....

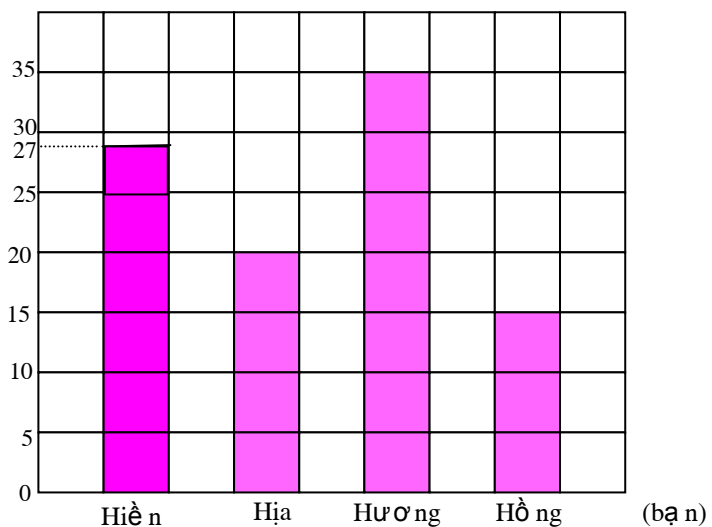
d).  $52 : 1,6$

.....  
.....  
.....  
.....  
.....

2. Viết vào chỗ chấm cho thích hợp : ( 1 điểm )

Biểu đồ dưới đây cho biết số điểm 10 của bốn bạn đã đạt được .

(Số điểm 10)



- a). Bạn ..... được nhiều điểm 10 nhất.  
 b). Bạn ..... được ít điểm 10 nhất.  
 c). Bạn Hòa được .... điểm 10 và ít hơn số điểm 10 của bạn Hiền là ... điểm 10.

3. 

>
<
=

 a). 5,1 ..... 5,08                      b). 12,030 ..... 12,03  
 c). 25,679 ..... 25,68                      d). 0,919 ..... 0,92

4. Khoanh tròn vào chữ đặt trước câu trả lời đúng : ( 2,5 điểm )

a). Hỗn số  $4\frac{8}{9}$  viết dưới dạng phân số là :

- A.  $\frac{12}{9}$                       B.  $\frac{32}{9}$                       C.  $\frac{41}{9}$                       D.  $\frac{44}{9}$

b).  $\frac{32}{100}$  viết dưới dạng số thập phân là :

- A. 0,0032                      B. 0,032                      C. 0,32                      D. 3,2

c). Số thích hợp điền vào chỗ chấm để  $2m^3 = \dots\dots\dots dm^3$  là :

- A. 20                      B. 200                      C. 2000                      D. 20 000

d). Thể tích của hình hộp chữ nhật có chiều dài 6cm, chiều rộng 5cm, chiều cao 8cm là :

- A.  $30cm^2$                       B. 240cm                      C.  $240 cm^2$                       D.  $240cm^3$

e). Một ô tô đi với vận tốc 51km/giờ. Hỏi ô tô đó đi với vận tốc bao nhiêu mét/ phút ?

- A. 850m/phút                      B. 805m/phút  
 C. 510m/phút                      D. 5100m/phút

5. Đúng ghi (Đ), sai ghi (S) vào ô trống : ( 1,5 điểm )

- a). 135 phút = 13,5 giờ                        
 b).  $2dm^3 35cm^3 = 2,035dm^3$                         
 c). 3ngày 15giờ + 2ngày 12giờ = 6 ngày 3giờ

6. Một phòng học dạng hình hộp chữ nhật có chiều dài 8m, chiều rộng 6m, chiều cao 3m. Người ta sơn trần nhà và bốn mặt tường phía trong phòng học, mỗi mét vuông hết 25 000 đồng tiền sơn. Biết diện tích các cửa là  $15m^2$ , hỏi sơn phòng học đó hết tất cả bao nhiêu tiền sơn ?

.....

.....

.....

.....

.....

Tham khảo đề thi học kì 2 lớp 5 môn Toán: