

ĐỀ SỐ 1

Đề bài:

Bài 1: Số liền sau của số 499 là:

A. 497

B. 498

C. 500

Bài 2: Điền dấu

>	457 467	650.....650
<	299..... 399	401..... 397
=		

Bài 3: Giá trị của biểu thức $20 : 2 - 5$ là:

A. 7

B. 4

C. 5

Bài 4: Giá trị của x trong biểu thức $x \times 3 = 12$ là:

A. 6

B. 4

C. 5

Bài 5: Đặt tính rồi tính

738 + 241	846 – 734	48 + 37	92 – 19
.....
.....
.....

Bài 6: Điền số thích hợp vào chỗ chấm

1m =dm

100cm =m

1m =cm

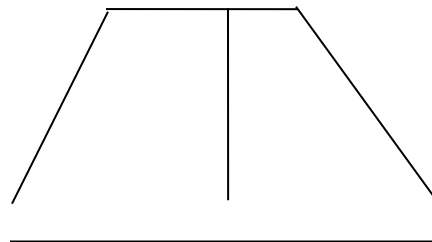
10dm =m

Bài 7: Số hình tứ giác trong hình bên là:

A. 1

B. 3

C. 4



Bài 8: Tính chu vi hình tam giác ABC biết độ dài các cạnh như sau:

AB = 20cm.

BC = 30 cm.

CA = 40cm

.....

.....

.....

.....

Bài 9: Đội một trồng được 350 cây, đội hai trồng được nhiều hơn đội một 120 cây. Hỏi đội hai trồng được bao nhiêu cây ?

.....

.....

.....

.....

ĐỀ SỐ 2

I/ Phần trắc nghiệm: (6 điểm) Khoanh tròn vào chữ cái có câu trả lời đúng nhất:

Câu 1: (1 điểm) Số lớn nhất trong các số: 989; 199; 879; 950 là:

A. 989

B. 199

C. 879

D. 950

Câu 2: (1 điểm) Kết quả của phép tính: $243 + 716 = ?$

- A. 969 B. 959 C. 559. D. 569

Câu 3: (1 điểm) Số bị chia và số chia lần lượt là 36 và 4. Vậy thương là:

- A. 40 B. 32 C. 9 D. 8

Câu 4: (1 điểm) Số liền sau của số lớn nhất có ba chữ số là:

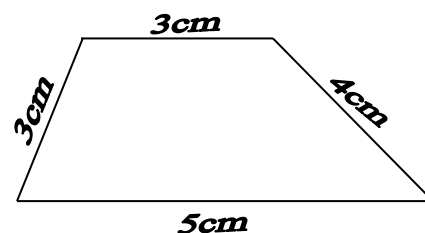
- A. 100 B. 111 C. 999 D. 1000

Câu 5: (1 điểm) $1\text{km} = \dots\text{m}$?

- A. 10m B. 20m C. 100m D. 1000m

Câu 6: (1 điểm) Hình tứ giác bên có chu vi là:

- A. 15cm B. 10cm
C. 11cm D. 12cm



II/ Phần tự luận: (4 điểm)

Câu 7: (2 điểm) Đặt tính rồi tính:

$$532 + 245$$

$$351 + 46$$

$$972 - 430$$

$$589 - 35$$

.....

.....

.....

.....

.....

.....

.....

.....

.....

.....

.....

.....

Câu 8: (2 điểm). Lớp em có 32 bạn, cô giáo chia đều thành 4 tổ. Hỏi mỗi tổ có bao nhiêu bạn?

Bài giải

.....

.....

.....

.....

.....

.....

.....

HƯỚNG DẪN CHẤM BÀI

I/ Phần trắc nghiệm: (6 điểm) Khoanh tròn vào chữ cái có câu trả lời đúng nhất:

Câu 1: (1 điểm) Số lớn nhất trong các số: 989 ; 199 ; 879 ; 950 là:

A. 989

Câu 2: (1 điểm) Kết quả của phép tính: $243 + 716 = ?$

B. 959

Câu 3: (1 điểm) Số bị chia và số chia lần lượt là 36 và 4. Vậy thương là:

C. 9

Câu 4: (1 điểm) Số liền sau của số lớn nhất có ba chữ số là:

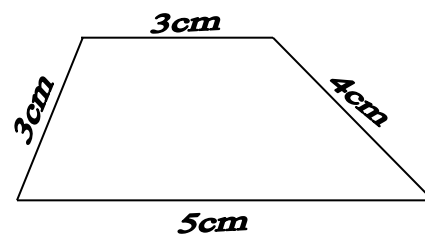
D. 1000

Câu 5: (1 điểm) $1\text{km} = \dots\text{m}?$

D. 1000m

Câu 6: (1 điểm) Hình tứ giác bên có chu vi là:

A. 15cm



II/ Phần tự luận: (4 điểm)

Câu 7: (2 điểm) Đặt tính rồi tính:

$$532 + 245$$

$$351 + 46$$

$$972 - 430$$

$$589 - 35$$

$$\begin{array}{r} + \quad 532 \\ \quad 245 \\ \hline \quad \quad 2 \end{array}$$

$$\begin{array}{r} + \quad 351 \\ \quad 46 \\ \hline \end{array}$$

$$\begin{array}{r} - \quad 972 \\ \quad 430 \\ \hline \quad \quad 2 \end{array}$$

$$\begin{array}{r} - \quad 589 \\ \quad 35 \\ \hline \end{array}$$

(0.5đ)

(0.5đ)

(0.5đ)

(0.5đ)

Câu 8: (2 điểm). Lớp em có 32 bạn, cô giáo chia đều thành 4 tổ. Hỏi mỗi tổ có bao nhiêu bạn?

Bài giải

Số bạn mỗi tổ có là: (0,5đ)

$$32 : 4 = 8 \text{ (bạn)} \quad (1\text{đ})$$

Đáp số: 8 bạn (0.5đ)

ĐỀ SỐ 3

Bài 1: Số liền sau của số 499 là:

A. 497

B. 498

C. 500

Bài 2: Điền dấu

>	457 467	650 650
<	299 399	401 397
=		

Bài 3: Giá trị của biểu thức $20 : 2 - 5$ là:

A. 7

B. 4

C. 5

Bài 4: Giá trị của x trong biểu thức $x \times 3 = 12$ là:

A. 6

B. 4

C. 5

Bài 5: Đặt tính rồi tính

$738 + 241$	$846 - 734$	$48 + 37$	$92 - 19$
.....
.....

Bài 6: Điền số thích hợp vào chỗ chấm

$$1\text{m} = \dots\dots\text{dm}$$

$$100\text{cm} = \dots\dots\text{m}$$

$$1\text{m} = \dots\dots\text{cm}$$

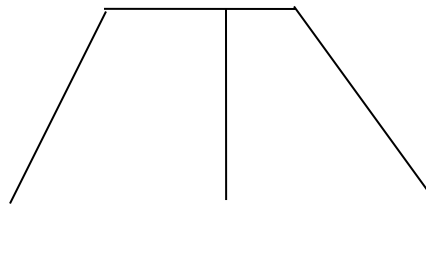
$$10\text{dm} = \dots\dots\text{m}$$

Bài 7: Số hình tứ giác trong hình bên là:

A. 1

B. 3

C. 4



Bài 8: Tính chu vi hình tam giác ABC biết độ dài các cạnh như sau:

$$AB = 20\text{cm}.$$

$$BC = 30\text{ cm}.$$

$$CA = 40\text{cm}$$

Bài 9: Đội một trồng được 350 cây, đội hai trồng được nhiều hơn đội một 120 cây. Hỏi đội hai trồng được bao nhiêu cây ?

.....

.....