

BỘ ĐỀ THI HỌC KÌ 1 MÔN TOÁN LỚP 3
ĐỀ SỐ 1

A/ TRẮC NGHIỆM: 7 điểm

Khoanh vào chữ cái đặt trước câu trả lời đúng (câu 1, 2, 3, 4, 5, 6, 7)

Câu 1: Đồng hồ chỉ : (M1 – 1đ)

- A. 10 giờ 10 phút
- B. 10 giờ 19 phút
- C. 2 giờ 10 phút
- D. 10 giờ 2 phút



Câu 2: Giá trị của biểu thức $45 + 27 : 3$ là: (M2 – 1đ)

- A. 24
- B. 36
- C. 54
- D. 55

Câu 3 : $3\text{m } 8\text{cm} = \dots \text{cm}$. Số thích hợp điền vào chỗ chấm là: (M2 – 1đ)

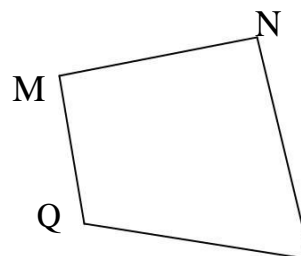
- A. 38
- B. 380
- C. 308
- D. 3800

Câu 4: Khung của một bức tranh là hình vuông có cạnh 50 cm. Hỏi chu vi của khung bức tranh đó bằng bao nhiêu mét? (M3 – 1đ)

- A. 200 m
- B. 20 m
- C. 2 m
- D. 2000 m

Câu 5: Hình MNPQ (Hình bên) có số góc vuông là: (M1 -1đ)

- A. 1
- B. 2
- C. 3
- D. 4



Câu 6: Chu vi hình vuông có cạnh 5cm là : (M1 – 1đ)

- A. 5cm
- B. 10cm
- C. 15cm
- D. 20cm

Câu 7 : Trong các số 24,51,62,77 số chia cho 5 có số dư lớn nhất là số nào? (M4 – 1đ)

- A. 24 B. 51 C. 62 D. 77

Câu 8: Trong một phép chia có số chia là 8, thương bằng 24 và số dư là 7.Số bị chia là: (M3 – 1đ)

- A. 199 B. 119 C. 191 D. 991

PHẦN II : TỰ LUẬN

Câu 1: Đặt tính rồi tính: (M2 – 1đ)

a) 106×8

b) $480 : 6$

.....

.....

1

Câu 2: Một cửa hàng có 104kg gạo, cửa hàng đã bán đi 4 kg gạo đó. Hỏi cửa hàng còn lại bao nhiêu kg gạo? (M3 -1 đ)

Bài giải

.....

ĐÁP ÁN MÔN TOÁN LỚP 3 CUỐI HKI

I. Trắc nghiệm

Câu 1: câu A (1đ)

Câu 2: câu C (1đ)

Câu 3: câu C (1đ)

Câu 4: câu C (1đ)

Câu 5 : câu B (1đ)

Câu 6 : câu D (1đ)

Câu 7 : câu A (1đ)

Câu 8 : câu A (1đ)

II. Tự luận:

Câu 1: (1đ)

- Đặt tính và tính đúng mỗi phép tính được 1,0 điểm

- Nếu chỉ ghi kết quả đúng mỗi phép tính được 0,5 điểm

a) 848

b) 80

Câu 2: (1đ)

Bài giải

Cửa hàng đã bán đi số gạo là: (0.25)

$$104:4 = 26(\text{kg}) \quad (0.25)$$

Cửa hàng còn lại số gạo là: (0.25)

$$104 - 26 = 78(\text{kg}) \quad (0.25)$$

Đáp số: 78 kg

Đề số 2

A/ TRẮC NGHIỆM: 8 điểm

Câu 1:(1 điểm): Nối phép tính với số là kết quả đúng: (M1 – 1đ)

5 x 6

7 x 8

45 : 9

48 : 8

56

30

6

5

Câu 2: 7m 3 cm = cm: (M2 – 1đ)

Khoanh vào chữ cái đặt trước câu trả lời đúng:

A. 73

B. 703

C. 10

D. 4

Câu 3 : Kết quả phép chia 575 : 5 là: (M1 – 1đ)

Khoanh vào chữ cái đặt trước câu trả lời đúng:

A. 125

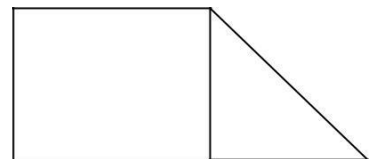
B. 215

C. 511

D. 115

Câu 4: Hình bên có...góc vuông: (M2 – 1đ)

Khoanh vào chữ cái đặt trước câu trả lời đúng:



- A. 4 B. 5
C. 8 D. 6

Câu 5: Số lớn là 54; số bé là 6. Số lớn gấp mấy lần số bé ? (M1 – 1đ)

Khoanh vào chữ cái đặt trước câu trả lời đúng:

- A. 9 C. 8
B. 7 D. 6

Câu 6: Hình chữ nhật có chu vi là 24cm, chiều dài là 8cm. Hỏi chiều rộng dài bao nhiêu xăng-ti-mét ? (M3 – 1đ)

Khoanh vào chữ cái đặt trước câu trả lời đúng:

- A. 32 cm. B: 12 cm. C. 4 cm. D. 192 cm

Câu 7: Số a là số bé nhất mà $(88 - a)$ ta được số chia hết cho 5 vậy a là số nào? (M4 – 1đ)

- A. 3 C. 4
B. 5 D. 2

Câu 8: Giá trị của biểu thức: $210 + 39 : 3$ là: (M3 – 1đ)

- C. 213 C. 232
D. 223 D. 214

PHẦN II : TỰ LUẬN

Câu 1: Đặt tính rồi tính: (M2 – 1đ)

a) 105×8

b) $852 : 3$

.....
.....
.....

.....
.....
.....

Câu 2: Một cửa hàng bán gạo, buổi sáng bán được 345 kg gạo, buổi chiều bán bằng $\frac{1}{3}$ số gạo bán buổi sáng. Hỏi cả ngày cửa hàng đó bán được bao nhiêu ki lô gam gạo? (M3 – 1đ)

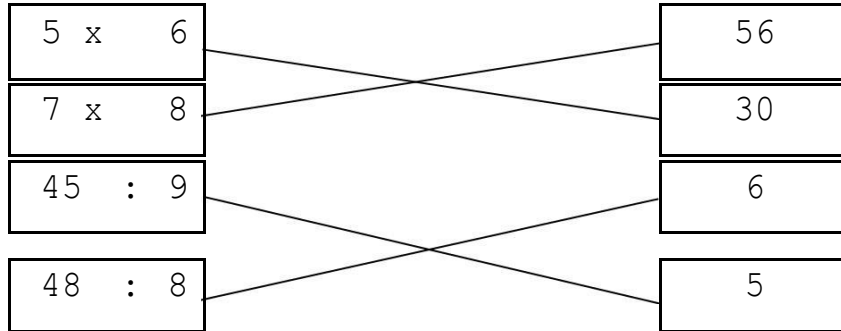
Bài giải

.....
.....
.....
.....
.....

ĐÁP ÁN MÔN TOÁN LỚP 3 CUỐI HKI

I. Trắc nghiệm

Câu:(1 điểm): Nối mỗi phép tính đúng (0.25đ)



Câu 2: câu B (1đ)

Câu 3: câu D (1đ)

Câu 4: câu B (1đ)

Câu 5 : câu A (1đ)

Câu 6 : câu C (1đ)

Câu 7 : câu A (1đ)

Câu 8 : câu B (1đ)

II. Tự luận:

Câu 1: (1đ)

- Đặt tính và tính đúng mỗi phép tính được 1,0 điểm
- Nếu chỉ ghi kết quả đúng mỗi phép tính được 0,5 điểm

a) 840

b) 284

Câu 2: (1đ)

Bài giải

Cửa hàng đã bán đi số gạo là: (0.25)

$$104:4 = 26(\text{kg}) \quad (0.25)$$

Cửa hàng còn lại số gạo là: (0.25)

$$104 - 26 = 78(\text{kg}) \quad (0.25)$$

Đáp số: 78 kg